

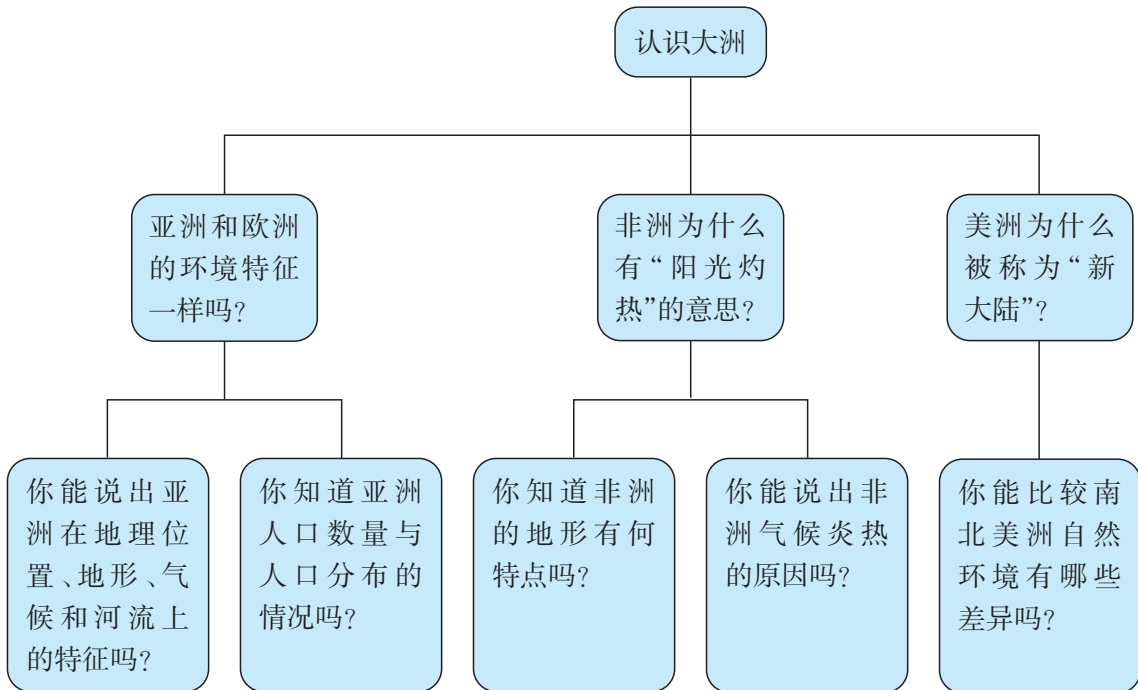
# 目 录

|                     |     |
|---------------------|-----|
| 第六章 认识大洲 .....      | 1   |
| 第一节 亚洲及欧洲 .....     | 2   |
| 第二节 非洲 .....        | 14  |
| 第三节 美洲 .....        | 23  |
| 第六章测试题 .....        | 34  |
| 第七章 了解地区 .....      | 37  |
| 第一节 东南亚 .....       | 38  |
| 第二节 南亚 .....        | 49  |
| 第三节 西亚 .....        | 61  |
| 第四节 欧洲西部 .....      | 72  |
| 第五节 北极地区和南极地区 ..... | 80  |
| 第七章测试题 .....        | 89  |
| 第八章 走近国家 .....      | 92  |
| 第一节 日本 .....        | 93  |
| 第二节 埃及 .....        | 105 |
| 第三节 俄罗斯 .....       | 115 |
| 第四节 法国 .....        | 125 |
| 第五节 美国 .....        | 133 |
| 第六节 巴西 .....        | 141 |
| 第七节 澳大利亚 .....      | 151 |
| 第八章测试题 .....        | 160 |
| 期中测试题 .....         | 164 |
| 综合检测题（一） .....      | 168 |
| 综合检测题（二） .....      | 173 |
| 综合检测题（三） .....      | 177 |
| 期末测试题 .....         | 182 |

# 第六章 认识大洲

## 本章概述

在充满生机的地球上，分布着7个大洲：亚洲地域辽阔，山岳巍峨；欧洲三面临海，环境宜人；非洲气候炎热，矿产丰富；南、北美洲静卧在西半球上，广袤的森林郁郁葱葱，巨大的淡水湖群碧波荡漾；大洋洲的众多岛屿好似璀璨的宝石，散布在一望无际的太平洋中；南极洲犹如一块晶莹的白玉，闪烁着圣洁的寒光。



# 第一节

## 亚洲及欧洲

### 三维目标

#### 知识与技能

简述亚洲的地理位置、地形、气候、河流、人口和国家的概况；归纳欧洲的地理位置、地形和气候特征，以及人口、民族、人种等人文地理概况。

#### 过程与方法

通过对亚洲自然地理特征的描述，总结出分析大洲自然地理特征的方法；运用数据资料、景观图片以及各类专题地图介绍亚洲和欧洲的地理特征。

#### 情感态度和价值观

通过分析图片、资料，培养学生的地理思维意识和主体参与意识，并对学生进行可持续发展的环境理念教育。

### 学习指导

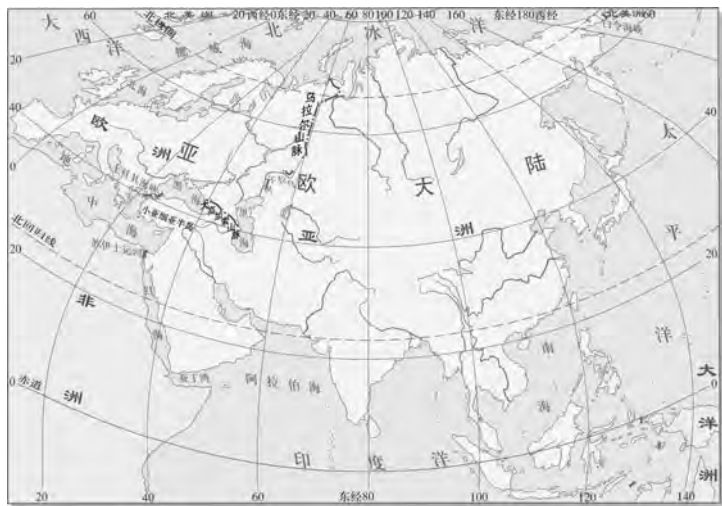
1. 充分利用地图、地理数据、景观图片等资料，简述亚洲和欧洲的地理位置特点。
2. 运用地图等有关资料归纳亚洲和欧洲的地形、气候、河流水系的特点及其相互关系。
3. 运用资料说出亚洲和欧洲存在的人口、环境、发展等问题。
4. 通过对亚洲的学习，领悟大洲学习的方法与技能；在学习欧洲的活动过程中，掌握相应的方法，提高读图、析图，分析问题、解决问题的能力。

## 自主研习

## 知识点

## 1. “亚细亚”和“欧罗巴”

【问题一】“亚细亚”意为“东方日出之地”，“欧罗巴”意为“西方日落之地”。读下图，思考问题。



亚欧大陆示意

(1) 观察地图，找出亚洲、欧洲、非洲、大洋洲、四大洋、地中海、黑海、红海。

(2) 说出亚洲与欧洲的分界线。

(3) 想一想，一个大洲的地理位置应该从哪几个方面描述？

(4) “亚洲的主要部分在东半球和北半球”。你认为这种说法对吗？

(5) 试着说说欧洲地理位置的特点。

## 说明

**欧洲的地理位置和大陆轮廓**——欧洲是亚欧大陆的一部分。它的北、西、南三面分别濒临着北冰洋、大西洋、地中海和黑海，东部和东南部与亚洲毗连，宛如亚欧大陆向西突出的一个大半岛。欧洲大部分位于北温带内，没有热带。

从海陆位置看，欧洲处于中纬度的大陆西岸，大部分地区终年吹拂西风，各地气候深受大西洋的影响，温和湿润。大陆轮廓破碎是欧洲自然地理的一个显著特点。其总面积的1/3以上属于半岛和岛屿，其中半岛面积又占全洲面积的27%，这在世界各大洲中是罕见的。主要半岛有斯堪的纳维亚半岛、伊比利亚半岛、亚平宁半岛、巴尔干半岛、科拉半岛、日德兰半岛、克里木半岛和布列塔尼半岛等。

众多的半岛和岛屿把欧洲大陆边缘的海洋分割成许多边缘海、内海和海湾。巴伦支海、挪威海、北海和比斯开湾是欧洲较大的边缘海，白海、波罗的海、地中海和黑海等则深入大陆内部，成为内海或陆间海。

## 2. 高原、山地为主的亚洲地形

**【问题二】** 亚洲地形以山地和高原为主。读下图，思考问题。



印度德干高原



喜马拉雅山脉



西西伯利亚平原



哈萨克丘陵



亚洲和欧洲地形分布

(1) 找出青藏高原、蒙古高原、中西伯利亚高原、伊朗高原、帕米尔高原、华北平原、阿拉伯半岛、印度半岛、中南半岛、马来群岛、日本群岛、死海、天山山脉、阿尔泰山脉。

(2) 想一想，从地理方位讲，亚洲的山地、高原主要分布在哪里？

### 亚洲的主要地形

亚洲陆地地形起伏极大，以帕米尔高原为中心，一系列高大山脉向四方辐射伸延到大陆边缘。主要有天山山脉、昆仑山脉、喜马拉雅山脉、阿尔泰山脉、兴都库什山脉、厄尔布尔士山脉、托罗斯山脉和扎格罗斯山脉等。在主干山脉之间有青藏高原、蒙古高原、伊朗高原、安纳托利亚高原和塔里木盆地、准噶尔盆地、柴达木盆地等。在山地、高原的外侧分布着面积广大的平原，主要有东北平原、华北平原、长江中下游平原、印度河平原、恒河平原、美索不达米亚平原、西西伯利亚平原等。

亚洲大陆东缘的弧形列岛上的山脉与极深的海沟伴生。亚洲最高峰与邻近海域最深海沟高低相差约20千米。

亚洲是世界上火山最多的洲，东部边缘海外围的岛群是太平洋西岸火山带的主要组成部分。从爪哇岛和苏门答腊岛向北经尼科巴群岛、安达曼群岛、德干高原北部、伊朗高原北部到小亚细亚半岛一带，为大西洋—地中海—印度洋沿岸火山带的一部分。亚洲也是世界上地震频繁且多强烈地震的大洲之一。

(3) 亚洲以帕米尔高原为中心向四周延伸了哪些主要山脉?

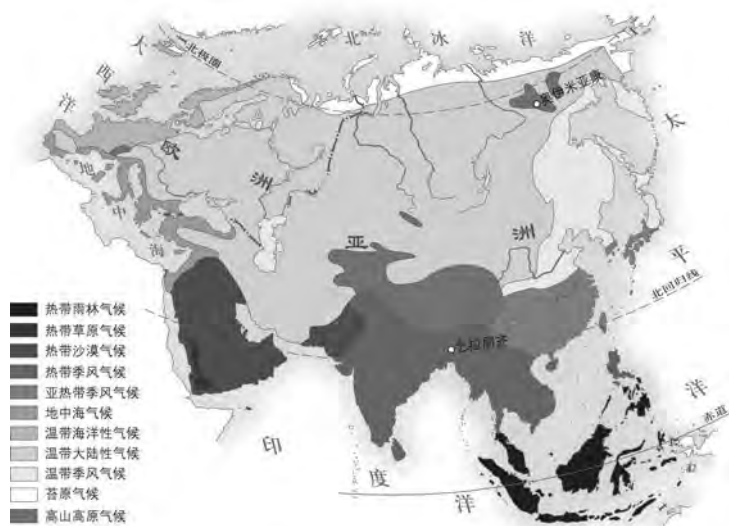
(4) 看一看, 亚洲大陆边缘主要分布的平原有哪些?

(5) 说一说, 亚洲地势有何特点?

(6) 亚洲地形有什么特点?

### 3. 复杂多样的亚洲气候

**【问题三】** 亚洲面积广大, 地跨寒、温、热三带, 且地形复杂多样, 除温带海洋性气候外, 其他气候类型都有分布。读下图, 思考问题。



亚洲和欧洲气候类型分布

(1) 亚洲分布面积最广的气候是\_\_\_\_\_气候, 降水最多的是\_\_\_\_\_气候。北回归线从东到西依次穿过\_\_\_\_\_气候、\_\_\_\_\_气候和\_\_\_\_\_气候。

### 亚洲的气候

亚洲地跨寒、温、热三带, 其气候基本特征是大陆性气候强烈, 季风性气候典型, 气候类型复杂多样。北部沿海地区属寒带苔原气候。西伯利亚大部分地区属温带针叶林气候。东部靠太平洋的中纬度地区属季风气候, 向南过渡到亚热带季风气候。东南亚和南亚属热带雨林气候和热带季风气候, 赤道附近多属热带雨林气候。中亚和西亚大部分地区属沙漠和草原气候。西亚地中海沿岸属地中海气候。亚洲东部自北到南为温带、亚热带、热带季风气候。

亚洲气候类型复杂多样的原因有:

1. 南北跨的纬度多, 热

(2) 亚洲自南向北分别有热带、亚热带、温带、寒带气候，这是受\_\_\_\_\_因素的影响。

(3) 亚洲东部形成了典型的季风气候，而在大陆内部形成了降水稀少的大陆性气候，这是\_\_\_\_\_不同造成的。

(4) 在亚洲中部的青藏高原地区形成了独特的高原山地气候，这是受\_\_\_\_\_影响。

(5) 在世界各大洲中，为什么亚洲的季风气候最强烈、最典型，影响范围也最广？

量条件相差大；

2. 东西跨的经度多，降水条件差异大；

3. 地形复杂，地形类型多样，海拔高差大。

#### 4. 大河众多的亚洲

**【问题四】** 亚洲的大江大河众多，有注入太平洋、印度洋和北冰洋的外流河，也有深居内陆的内流河。读下图，思考问题。



长江



黄河



湄公河



恒河



叶尼塞河



贝加尔湖

(1) 亚洲分别注入太平洋、印度洋和北冰洋的有哪些大河？

**亚洲的河流和湖泊：**亚洲有许多大河，大都发源于中部高山地带，呈放射状向四面奔流。流入太平洋的河流有黑龙江、黄河、长江、珠江、湄公河等；流入印度洋的有印度河、恒河、萨尔温江、伊洛瓦底江、底格里斯河、幼发拉底河等；流入北冰洋的有鄂毕河、叶尼塞河、勒拿河等。内流河主要分布于亚洲中西部干旱地区，有锡尔河、阿姆河、伊犁河、塔里木河、约旦河等。亚洲很多湖泊独具特色，如里海是世界上面积最大的咸水湖，贝加尔湖是世界上最深的、亚洲最大的淡水湖，死海是世界上最的内陆咸水湖，巴尔喀什湖是一个同时存在着淡水和咸水的内陆湖。

(2) 从总体上看, 亚洲大河的流向有什么特点? 亚洲河流的流向与亚洲地形之间有什么关系?

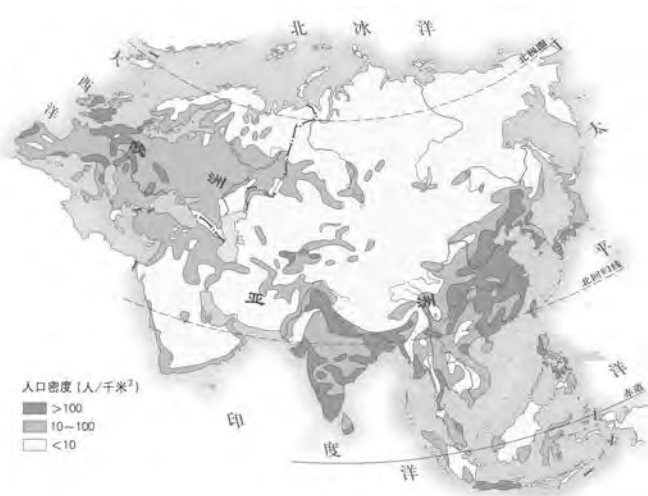
(3) 亚洲流经国家最多的国际河流是哪条? 流经了几个国家? 此河在中国境内的名称是什么?

(4) 说出亚洲的特色湖泊。

世界上最大的湖泊是\_\_\_\_; 世界上最深的湖泊是\_\_\_\_; 一半咸水一半淡水的湖泊是\_\_\_\_; 世界上海拔最低, 含盐度高的湖泊是\_\_\_\_\_。

## 5. 亚洲的人口与国家

**【问题五】** 亚洲是世界上人口最多的大洲, 到2008年总人口已达43亿, 约占世界总人口的63%。读下图, 思考问题。



亚洲和欧洲人口分布

(1) 说一说哪些地区人口分布稠密, 哪些地区人口稀疏。

(2) 结合气候条件, 分析亚欧大陆北部和亚洲西部人口稀疏的主要原因。

(3) 想一想, 亚洲和欧洲分别存在的人口问题是什么?

## 亚洲的人口与国家

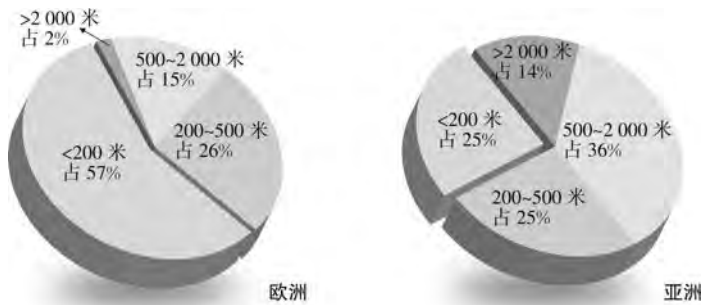
亚洲共有48个国家和地区。在地理上习惯分为东亚、东南亚、南亚、西亚、中亚和北亚。亚洲人口数量大, 人口自然增长率位于世界第三。人口1亿以上的有中国、印度、印度尼西亚、日本、孟加拉国和巴基斯坦。城市人口约占全洲人口的18%。人口分布以中国东部、日本太平洋沿岸、爪哇岛、恒河流域、印度半岛南部等地最密集。



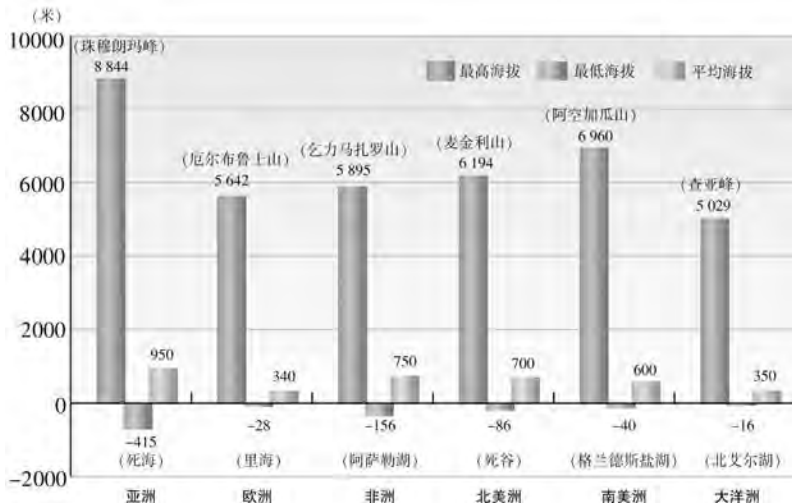
# 阅读思考

## 案例一

**材料一：**亚洲和欧洲不同海拔高度的陆地占全洲面积的比例。



**材料二：**世界大洲（南极洲除外）陆地海拔高度比较。



## 问题

**【问题六】**地形特征主要从平均海拔高度、地形起伏状况、主要地形类型、地形分布格局和特色地形等方面分析。

请阅读材料，结合教材的图6-3、6-6、6-7、6-8，思考下面的问题。

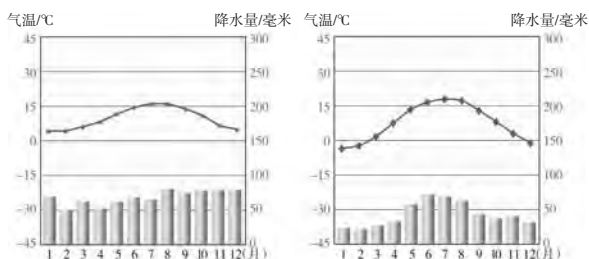
(1) 欧洲地形以\_\_\_\_\_为主，平均海拔\_\_\_\_\_。欧洲地面起伏\_\_\_\_\_。欧洲地势\_\_\_\_\_高，\_\_\_\_\_低。欧洲特色地形是\_\_\_\_\_地形。

(2) 阅读材料和内容，完成下面的表格。

|        | 亚洲 | 欧洲 |
|--------|----|----|
| 平均海拔高度 |    |    |
| 地面起伏状况 |    |    |
| 主要地形类型 |    |    |
| 地形分布格局 |    |    |
| 特色地形   |    |    |

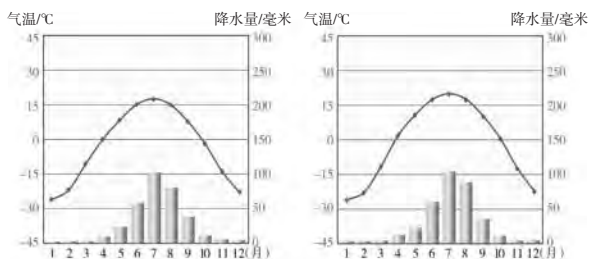
## 案例二

**材料：**亚欧大陆同纬度地带气温和降水量比较。



利物浦

华沙



赤塔

漠河



## 问题

**【问题七】** 欧洲位于亚欧大陆西部，面临大西洋。受海洋影响较大，形成湿润的海洋性气候。请阅读材料，思考问题。

(1) 说一说，亚欧大陆同纬度地带，由西向东1月、7月气温有什么变化？由沿海向内陆年降水量有什么变化？

(2) 英国利物浦与我国漠河纬度位置相当，为什么两地1月平均气温却相差30℃？

## 实践探究

## 活动一：

**任务：** 材料分析

**材料一：** 甲地月平均气温和降水量表。

| 月份     | 1   | 2   | 3   | 4   | 5    | 6    | 7    | 8    | 9    | 10  | 11  | 12  |
|--------|-----|-----|-----|-----|------|------|------|------|------|-----|-----|-----|
| 气温/°C  | 5.2 | 4.7 | 5.2 | 7.2 | 10.1 | 12.8 | 14.4 | 14.1 | 12.8 | 9.6 | 7.3 | 5.4 |
| 降水量/毫米 | 101 | 81  | 71  | 64  | 69   | 70   | 76   | 102  | 89   | 130 | 119 | 136 |

材料二：乙地月平均气温和降水量表。

| 月份     | 1    | 2    | 3    | 4    | 5    | 6    | 7    | 8    | 9    | 10   | 11   | 12   |
|--------|------|------|------|------|------|------|------|------|------|------|------|------|
| 气温/℃   | 10.3 | 11.2 | 12.7 | 14.1 | 16.5 | 19.3 | 21.3 | 21.8 | 20.3 | 17.1 | 13.5 | 11.3 |
| 降水量/毫米 | 86   | 82   | 80   | 54   | 40   | 19   | 4    | 5    | 38   | 82   | 109  | 93   |

问题思考：

(1) 读表格中的资料，说一说甲、乙两地的气温和降水特点，并判断两地各属于哪种气候类型。

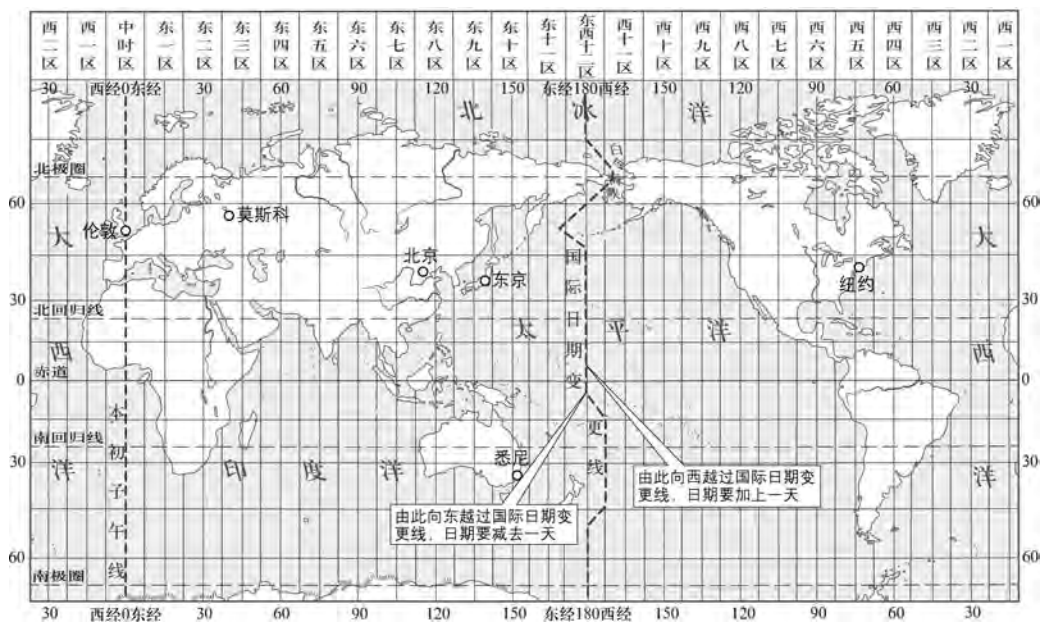
(2) 在下列因素中，哪些对欧洲温带海洋性气候的形成起了重要作用？

- A. 欧洲三面临海，向西凸出，形似“大半岛”。
- B. 欧洲大陆轮廓破碎，海岸线漫长曲折，大部分地方距海不远。
- C. 欧洲大陆大部分位于北纬 $40^{\circ}$ ~ $60^{\circ}$ 之间，终年盛行来自大西洋的温暖湿润的西风。
- D. 欧洲沿岸有北大西洋暖流经过，使西北部沿海地区显著升温。
- E. 欧洲山脉多为东西走向，平原广阔，连成一片，有利于大西洋的暖湿气流长驱直入。
- F. 欧洲人口密度高，城市人口所占比重大，排放废热多。

## 活动二：

## 任务：探究

请阅读下图和教材相关内容，思考问题。



世界时区

(1) 全球可划分为24个时区，每个时区跨多少经度？东十二区和西十二区的经度范围是多少？

(2) 我国采用的是哪个时区的区时？它是北京地区的地方时吗？为什么？

(3) 2013年，北京时间9月8日凌晨4时许，国际奥委会（IOC）主席雅克·罗格（Jacques Rogge）在阿根廷首都布宜诺斯艾利斯宣布：“2020年奥林匹克运动会授予东京。”请问，此时布宜诺斯艾利斯、东京当地时间各是多少？

## 验收评价

## 一、单项选择题

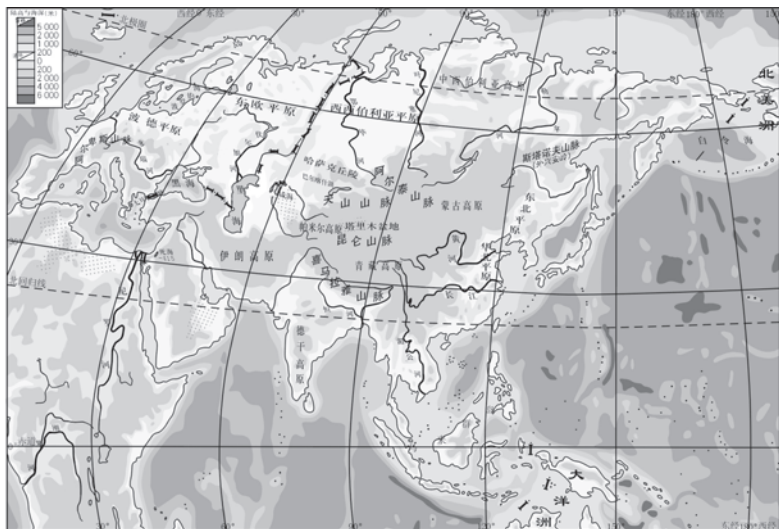
- 地球上面积最大的大陆是 ( )  
A. 非洲大陆      B. 亚欧大陆  
C. 美洲大陆      D. 南极大陆
- 亚洲的河流呈放射状流向四周海洋的原因是 ( )  
A. 亚洲面积大  
B. 地势中部高、四周低  
C. 河流多  
D. 降水多
- 到欧洲游览峡湾风光, 最佳的地区是 ( )  
A. 地中海沿岸      B. 欧洲中部  
C. 英国沿海      D. 欧洲北部
- 世界各种气候类型中, 亚洲没有分布的是 ( )  
A. 温带季风气候      B. 温带海洋性气候  
C. 地中海气候      D. 热带草原气候
- 下列关于亚洲及欧洲人口的叙述, 正确的是 ( )  
A. 目前欧洲是世界上人口分布最均匀的大洲  
B. 在各大洲中, 亚洲人口最多, 欧洲人口密度最小  
C. 除南极洲外, 欧洲是世界上人口最少的大洲  
D. 世界上人口超过1亿的国家, 大多数在亚洲和欧洲
- 考察队乘船航行在太平洋上, 于9月30日9时向东越过日界线, 过日界线后

的时间是 ( )

- 9月31日9点  
B. 9月29日9点  
C. 10月1日9点  
D. 9月28日9点
- 下列地区中人口最稠密的是 ( )  
A. 亚洲的西部      B. 亚洲的北部  
C. 亚洲的东部      D. 亚洲的中部
- 亚洲流经国家最多的国际性河流是 ( )  
A. 长江      B. 黄河  
C. 珠江      D. 湄公河
- 关于亚洲气候复杂多样原因的叙述, 错误的是 ( )  
A. 南北跨越纬度大, 东西离海远近差异大  
B. 河湖众多, 增加了气候的复杂性  
C. 植被类型多, 增加了气候的多样性  
D. 地形复杂起伏大, 增加了气候的复杂性
- 下列地形特征中, 不属于亚洲的是 ( )  
A. 地形以平原为主, 平均海拔低  
B. 地形以高原、山地为主, 平均海拔高  
C. 地势中间高, 四周低  
D. 地面起伏大, 高低悬殊

## 二、综合题

- 读亚欧大陆示意图, 完成下列问题。



(1) 将下列代表地理事物的序号，填入图中适当位置。

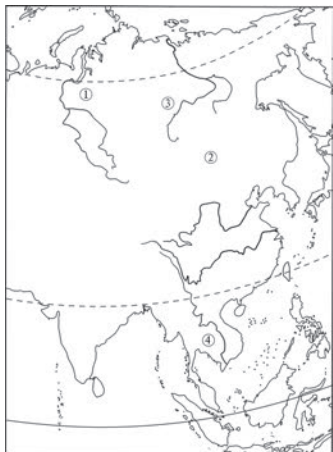
①乌拉尔山脉 ②乌拉尔河 ③大高加索山脉 ④苏伊士运河 ⑤地中海 ⑥白令海峡 ⑦斯堪的纳维亚半岛 ⑧马来半岛 ⑨阿拉伯半岛 ⑩中南半岛

(2) 在图中适当位置填注亚洲、欧洲、非洲、太平洋、北冰洋、印度洋的名称。

(3) 亚欧两洲的分界线是\_\_\_\_\_山脉、\_\_\_\_\_河、\_\_\_\_\_山脉、土耳其海峡，亚非两洲的分界线是\_\_\_\_\_运河和\_\_\_\_\_海，亚洲与北美洲隔\_\_\_\_\_海峡相望。

(4) 请说出欧洲的主要内海和边缘海。

12. 读亚洲部分地区示意图，完成下列问题。



(1) 将图中（东经100°附近）数码所代表的地理名称，填在下列空格中。

地形区：①\_\_\_\_\_平原

②\_\_\_\_\_高原

河流：③\_\_\_\_\_河

④\_\_\_\_\_河

(2) 河流特征深受地形的影响。亚洲地形、地势有何特点？受地形的影响，河流具有什么特点？

13. 欧洲的气候与同纬度的亚洲相比，具有哪些特点？原因是什么？

## 第二节

# 非洲

### 三维目标

#### 知识与技能

了解非洲的地理位置、地形特征、海陆轮廓以及特有地形的分布；说出非洲以热带为主的气候特征，了解气候与农业生产的关系；了解非洲政治地图的演变，主要人种的分布；知道非洲的矿产资源、动植物资源等物产。

#### 过程与方法

通过对资料和地图的分析，归纳非洲的位置特征、地形特征以及人种分布；通过对气候资料、地图的分析，学会看各种气候图，判读自然植被垂直分布图；运用对比分析的方法了解尼罗河和刚果河的水文特征。

#### 情感态度和价值观

了解非洲存在的人口、资源、环境、发展等问题，培养科学的人口观、资源环境观以及可持续发展观。

### 学习指导

1. 充分利用地图、地理数据、景观图片等资料，分析非洲的自然地理特征。
2. 掌握阅读气温和年降水量分布图的方法，并形成相关的能力。
3. 运用有关资料，分析说明非洲存在严重的人口、资源、环境和发展等问题。

## 自主研习

## 知识点

## 说明

## 1. 非洲国家和地区

【问题一】非洲全称“阿非利加洲”，是“阳光灼热”的地方，是世界文明的发祥地之一，拥有悠久的历史 and 灿烂的文化。读下图，思考问题。



非洲国家和地区分布

(1) 找出地中海、红海、苏伊士运河、大西洋、印度洋；请在图中描出赤道、南北回归线、 $20^{\circ}\text{W}$ 、 $0^{\circ}$ 经线。

(2) 从半球位置看，非洲位于\_\_\_\_半球的西部，地跨\_\_\_\_两个半球；从纬度位置看，非洲大部分地区位于\_\_\_\_之间，处于“五带”中的\_\_\_\_带，还有少部分处于\_\_\_\_带和\_\_\_\_带；从海陆位置看，非洲东临\_\_\_\_洋，西临\_\_\_\_洋，北隔\_\_\_\_海及\_\_\_\_海峡与欧洲相望，东北与亚洲之间隔着狭长的\_\_\_\_海，陆上以\_\_\_\_运河为界，与亚洲为邻。

(3) 请找出二战以前非洲独立的国家。

## 非洲

位于地球东半球的西南部，东濒印度洋，西临大西洋，在拉丁语中意为“阳光灼热的地方”。全非洲有59个国家和地区，在地理上，习惯将非洲分为北非、东非、西非、中非和南非五个地区。非洲人口的增长速度较快，居民主要有黑种人和白种人。非洲面积约3020万 $\text{km}^2$ ，为世界第二大洲。非洲人大多信奉原始宗教和伊斯兰教。

在历史上，欧洲殖民主义者曾先后侵入非洲，掠夺黄金、香料、象牙等；后来又从事罪恶的奴隶贸易，把黑人运往美洲贩卖。到了19世纪70年代，广大的非洲大陆先后被英、法、葡、西、比等国强占和瓜分。第二次世界大战前夕，非洲只有埃及、埃塞俄比亚和利比亚3个独立国家。二战后，非洲的民族解放运动蓬勃发展。到1990年3月，撒哈拉以南的由白人统治的最后一个殖民地纳米比亚也宣告独立。




## 2. 高原为主的地形

【问题二】非洲大陆高原面积广大，被称为“高原大陆”。读下图，思考问题。



非洲屋脊——埃塞俄比亚高原



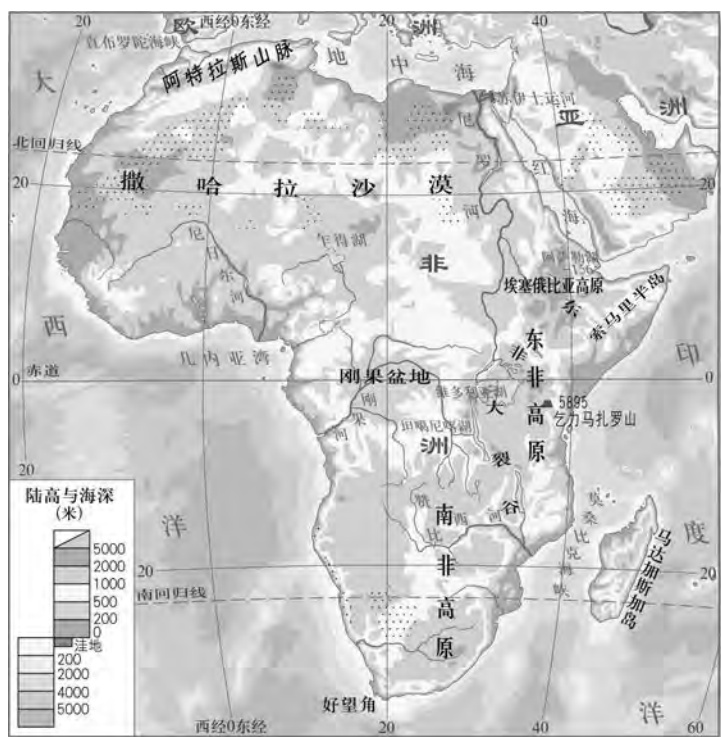
东非大裂谷



撒哈拉大沙漠



刚果盆地



非洲地形分布

- (1) 找出东非高原、南非高原、阿特拉斯山脉、东非大裂谷、乞力马扎罗山。
- (2) 找出非洲最大的海湾、半岛和岛屿。
- (3) 完成下表，比较非洲与欧洲的大陆海岸线，说一说哪一个大洲要平直些。

## 非洲的地形

非洲的地形以高原为主，地面起伏不大，平均海拔600米以上，海拔500~1000米的高原占全洲面积的60%以上，被称为“高原大陆”。

地势由东南向西北倾斜，东南部较高，西北部较低。东南半部被称为高非洲，海拔多在1000米以上；西北部被称为低非洲，海拔多在500米以下。明显的山脉仅限于南北两端，西北非的阿特拉斯山脉，人们认为这是伸入至南欧山系的一部分，东南部有德拉肯斯山脉。

非洲地形可分为三部分：第一，高原。自北向南有埃塞俄比亚高原，东非高原，南非高原。乞力马扎罗山（海拔5895米）位于东非高原，是非洲的最高峰。非洲东部有一条纵贯南北的断层陷落带——东非大裂谷带，长6000多千米，谷地有一连串狭长水深的湖泊。第二，盆地。中部是面积广大的刚果盆地，原为广阔的内陆湖，后因地壳上升，河流下切，湖水外泄而成。第三，沙漠。北部是撒哈拉沙漠，面积900多万千米<sup>2</sup>，是世界上最大的沙漠，南部有纳米布沙漠。

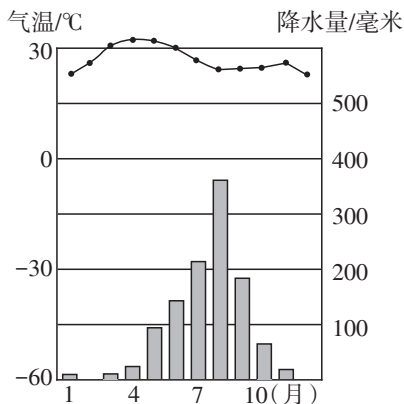
|    | 海岸线长度<br>/千米 | 陆地面积<br>/万千米 <sup>2</sup> | 平均每1万<br>千米 <sup>2</sup> 陆地<br>拥有的海岸<br>线长度/千米 |
|----|--------------|---------------------------|--|
| 欧洲 | 37900        | 1016                      |  |
| 非洲 | 30500        | 3020                      |  |

(4) 为什么说非洲是一个“高原大陆”? 请在非洲地形图上找到判断依据。

### 3. 炎热的气候

**【问题三】** 非洲 3/4 的面积在南、北回归线之间, 绝大部分地区年平均气温在 20℃ 以上, 气候炎热, 因而被称为“热带大陆”。

(1) 读下图, 思考问题。



①这是\_\_\_\_\_半球的气候类型。其明显的气候特征是\_\_\_\_\_。

②由图中可以看出, 5—10月降水\_\_\_\_\_, 是\_\_\_\_\_季; 11月—次年的4月降水\_\_\_\_\_, 是\_\_\_\_\_季。

(2) 读非洲气候分布示意图, 思考下列问题。

①写出图中字母代表的气候类型:

A\_\_\_\_\_, B\_\_\_\_\_, D\_\_\_\_\_,  
E\_\_\_\_\_, F\_\_\_\_\_, G\_\_\_\_\_。

②C点和B点气候相同, 但与同处低纬的A点不同, 主要原因是\_\_\_\_\_。

#### 非洲的气候特点:

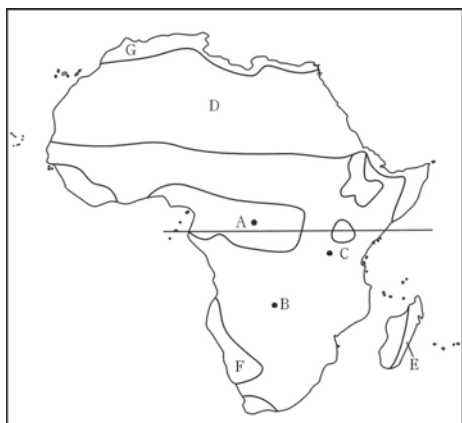
气温高, 有“热带大陆”之称; 有面积广大的干旱少雨区; 气候类型南北对称。

非洲的气候主要有热带雨林、热带草原、热带沙漠和地中海气候四个类型, 呈明显的东西带状分布, 且以赤道为中心, 具有南北对称、季节相反的特点。

赤道附近的刚果盆地和几内亚湾沿岸地区为终年高温多雨的热带雨林气候; 在热带雨林气候带的南北两侧和东非高原, 为夏雨冬干、终年高温的热带草原气候; 热带草原气候带的外侧南北回归线附近, 为终年高温干燥的热带沙漠气候; 非洲大陆南北两端沿海地区, 则为夏季炎热干燥、冬季温和多雨的亚热带地中海气候。形成这种气候类型呈东西带状分布, 而且南北对称的主要

③刚果盆地处于\_\_\_\_\_气候区，南非高原处于\_\_\_\_\_气候区。

④从图中可以看出：非洲气候是以\_\_\_\_\_为轴\_\_\_\_\_分布，其形成原因是\_\_\_\_\_，分布最广的气候类型是\_\_\_\_\_。



原因是，赤道横贯非洲中部，南北两部分所跨纬度大致相等和非洲所跨气压带、风带也大致南北对称。另外，与地形是一个起伏不大的高原大陆，缺少高大山脉阻挡，气候垂直变化小，使非洲气温和降水的分布变化不大，地带性比较明显也有关系。

## 阅读思考

### 案例一

#### 撒哈拉大沙漠

撒哈拉沙漠，世界上阳光最多的地方，也是世界上最大和自然条件最为严酷的沙漠。撒哈拉沙漠几乎占满非洲北部全部，总面积约906.5万平方千米<sup>2</sup>，占全洲总面积的1/4。

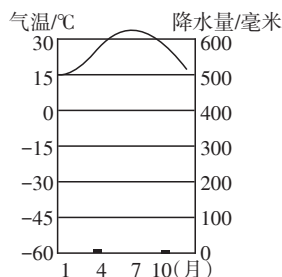
撒哈拉沙漠气候条件极其恶劣，是地球上最不适合生物生长的地方之一。“撒哈拉”，阿拉伯语意即“大荒漠”。这里平均气温在25℃以上，年降水量大都不到100毫米。地面主要是砾漠、岩漠和沙漠，绿洲也很多。地下蕴藏着丰富的石油、天然气，以及铁、锰等矿产资源。

撒哈拉沙漠将非洲大陆分割成两部分，北非和南部黑非洲，这两部分的气候和文化截然不同，撒哈拉沙漠南部边界是半干旱的热带稀树草

### 问题

【问题四】撒哈拉沙漠是世界上最大的沙漠，也是自然条件最严酷的沙漠。

(1) 读下图，说出该气候类型的特征和分布规律。



原，阿拉伯语称为“萨赫勒”，再往南就是雨水充沛，植物繁茂的南部非洲，阿拉伯语称为“苏丹”，意思是黑非洲。



(2) 撒哈拉沙漠地区有哪些丰富的自然资源？

(3) 想一想，撒哈拉大沙漠是怎样形成的？

## 案例二

## 问题

### 非洲的问题

在非洲，由于土质退化，大片的农田和放牧地区正在消失。在撒哈拉大沙漠南部边缘地带，近50年来已有60多万千米<sup>2</sup>肥沃的土地变成了沙漠，这片土地的面积相当于索马里的国土面积。由于已无法使现有的农田提高质量，非洲农民被迫通过砍伐森林或利用更不适合耕种的土地扩大生产。每年大约有500万公顷的森林消失，这主要是人们开垦农业用地造成的。非洲破坏了农村地区的环境，但并没有使经济得到有效的发展，也没有减少原本贫困的现象。从1970年到1990年的20年时间里，肯尼亚农村地区的贫困人口比例从40%增至47%。在整个撒哈拉以南的非洲地区，营养不良的人口从9600万激增至2.04亿。直到今天，贫穷的非洲一直在依靠外国的援助才能拨款进口粮食。这在今后几年将会变得更加困难。目前，非洲的粮食生产年增长率为2%，如果不增加粮食生产，那么到了2020年，这个地区的粮食赤字，也就是粮食产量和消费量之间的差额，将增加到7倍以上，即7400万吨。



【问题五】非洲是世界上经济发展水平最低的一个洲。

(1) 材料中提出的非洲的问题是什么？

(2) 有人称非洲为“饥饿的非洲”，是指什么？

(3) 想一想，这些问题出现的原因有哪些？

## 实践探究

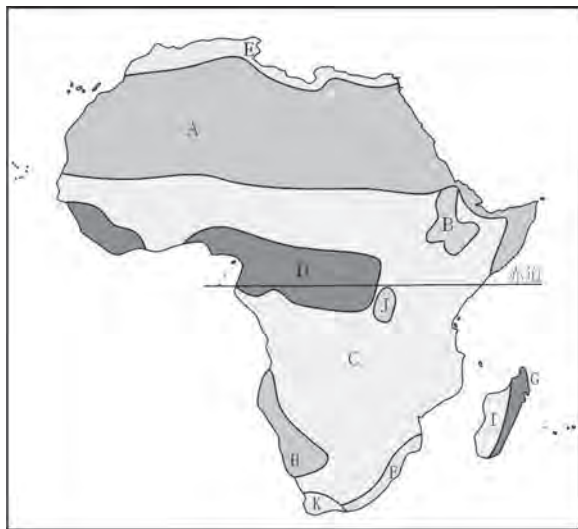
### 活动一：

**任务：**读图分析

**问题：**

(1) 读非洲示意图，在图上填注非洲主要气候类型的分布。

(2) 想一想，图中G处的气候类型是怎样形成的？



### 活动二：

**任务：**探究

#### 物产丰饶的非洲大陆

材料一：非洲主要矿产与农产品分布示意图。

材料二：非洲是一块古老而神奇的大陆。地理学家说：“这是富饶的大陆。”而经济学家说：“这是世界上最贫穷、最落后的大陆。”



## 问题:

(1) 读材料, 填写下表。

| 国家  | 埃及 | 利比亚 | 阿尔及利亚 | 突尼斯 | 摩洛哥 |
|-----|----|-----|-------|-----|-----|
| 矿产品 |    |     |       |     |     |
| 农产品 |    |     |       |     |     |

(2) 非洲为什么被称为“富饶大陆”?

(3) 非洲拥有如此多的资源, 为什么会长期陷入贫困和饥饿之中?

## 验收评价

## 一、单项选择题

1. 二战前夕, 非洲除了埃及、埃塞俄比亚以外, 独立的国家还有 ( )

- A. 南非                  B. 利比亚  
C. 利比里亚              D. 肯尼亚

2. 在太空中, 宇航员可以清晰看到的“地球上的伤疤”是指 ( )

- A. 阿尔卑斯山脉  
B. 东非裂谷带  
C. 欧洲平原上的湖泊  
D. 尼罗河谷地

3. 造成非洲气候呈明显带状分布, 并且南北大致对称的原因是 ( )

- A. 海陆位置              B. 地形位置  
C. 赤道横穿中部        D. 洋流位置

4. 东非高原位于赤道附近, 但不属于热带雨林气候而是热带草原气候, 其主要原因是 ( )

- A. 高原地形的影响  
B. 海陆差异显著  
C. 受副热带高压控制  
D. 距海洋远

5. 下列关于非洲资源的叙述, 错误的是 ( )

- A. 矿产资源种类多, 储量大  
B. 桃花心木、檀木、花梨木是热带雨林的珍贵树种  
C. 大型野生动物的种类和数量均居世界各洲之首  
D. 黄金、金刚石、石油的储量和产量居世界首位

6. 下列河流注入的海洋正确的是 ( )

- A. 尼罗河注入印度洋  
B. 刚果河注入大西洋  
C. 赞比西河注入地中海  
D. 尼日尔河注入太平洋

7. 关于非洲地形的说法，错误的是

- ( )
- A. 地势东南高、西北低
  - B. 断裂地形广布
  - C. 高原面积广大
  - D. 海岸线曲折且多优良港湾
8. 位于非洲的沙漠是 ( )

- A. 撒哈拉沙漠
- B. 塔克拉玛干沙漠
- C. 阿塔卡马沙漠
- D. 大沙沙漠

9. 形成非洲炎热气候的最主要因素是

- ( )
- A. 海陆因素
  - B. 纬度因素
  - C. 洋流因素
  - D. 地形因素
10. 非洲需大量进口的农产品有 ( )
- A. 蔗糖、棉花
  - B. 咖啡、可可
  - C. 剑麻、棕榈油
  - D. 小麦、稻米

## 二、综合题

11. 读非洲气候类型图，完成下列问题。



非洲气候类型

(1) 写出图中字母所代表的气候类型的名称。

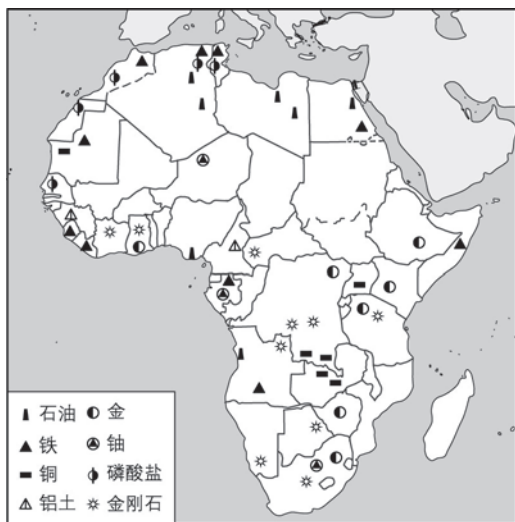
- A \_\_\_\_\_, B \_\_\_\_\_,  
C \_\_\_\_\_, D \_\_\_\_\_,

E \_\_\_\_\_。

(2) 非洲分布最广的气候类型是 \_\_\_\_\_，刚果盆地处于 \_\_\_\_\_ 气候区。非洲气候类型的分布规律是什么？

(3) 非洲降水量最为丰富的地区是哪里？降水很少的地区又在哪儿？由此得出非洲的降水分布特征是什么？

12. 读非洲矿产资源分布图，完成以下连线题。



非洲矿产资源分布图

- |         |     |
|---------|-----|
| 南非      | 铬铁矿 |
| 刚果民主共和国 | 黄金  |
| 利比里亚    | 铜   |
| 摩洛哥     | 铝土  |
| 赞比亚     | 磷酸盐 |
| 几内亚     | 金刚石 |

## 第三节

# 美洲

### 三维目标

#### 知识与技能

简述美洲大陆的位置及组成；说出南北美洲的主要地形区和气候类型，比较其差异，并简要分析美洲地形对气候的影响；了解美洲的居民和经济状况。

#### 过程与方法

运用地图，了解美洲大陆的位置、巴拿马运河的交通地位；运用地形、气候分布图，了解美洲的自然环境特征，并对比分析说明南北美洲的自然环境差异；通过实例说明美洲内部经济发展不平衡的特点。

#### 情感态度和价值观


通过关于美洲自然、人文地理的学习活动，激发探究性学习的兴趣，领悟科学的地理学习方法，促进科学态度的形成。

### 学习指导

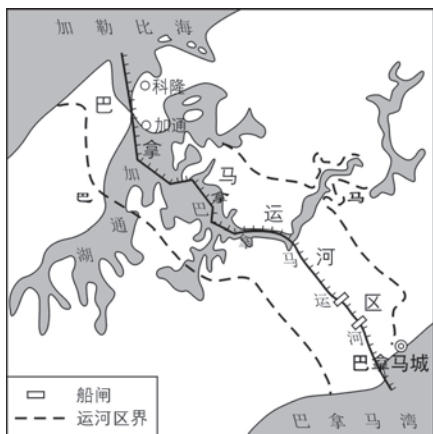
1. 读图归纳南、北美洲的地形特点，并比较了解它们之间的异同。
2. 读图归纳南、北美洲的气候特征，分析美洲地形对气候的影响。
3. 通过气温、降水资料、图表，判别不同的气候类型，并试着分析不同气候的成因。



## 自主研习

| 知识点   | 说明   |
|---|--|
| <p>1. “新大陆”</p> <p>【问题一】美洲是“亚美利加洲”的简称，又被称为“新大陆”。读图，思考问题。</p>  <p style="text-align: center;">美洲国家和地区分布</p> <p>(1) 为什么美洲被称为“新大陆”? 这块大陆以什么为界划分为哪两个大洲?</p> <p>(2) 读图, 结合地图册请找出大西洋、太平洋、格陵兰岛、巴拿马运河、西印度群岛、加勒比海、墨西哥湾、麦哲伦海峡、白令海峡。</p> <p>(3) 结合教材内容, 指出中美地峡和拉丁美洲的地理范围。</p> | <p><b>亚美利加洲：</b></p> <p>1492年，哥伦布为寻找向西航行到亚洲的航路误认为美洲就是印度。10年后，1502年意大利航海家亚美利哥·维斯普奇到达南美北部，经实地调查，确定该地不是亚洲而是一块“新大陆”。为表彰他定名为“亚美利加洲”。范围包括北美、南美大陆及其邻近的岛屿，总面积达4200多万千米<sup>2</sup>，是唯一一个整体在西半球的大洲。在自然地理上，一般以巴拿马运河为界，分为北美洲与南美洲。在政治地理上，北美洲仅指加拿大、美国、格陵兰岛、圣皮埃尔和密克隆岛、百慕大群岛，而把美国以南一直到南美洲的这片广大区域称为拉丁美洲，包括墨西哥、中美洲、西印度群岛和南美洲。拉丁美洲现有33个独立国</p> |

**【问题二】**巴拿马运河开凿在中美地峡的最窄处，自1914年开通后，长期被美国占领，1999年12月31日，巴拿马政府才收回了运河的主权。读图，完成下表。



巴拿马运河

|          |         |
|----------|---------|
| 名称       | 巴拿马运河   |
| 所属国家     |         |
| 地理位置     |         |
| 沟通的海洋    |         |
| 可不必绕道的航线 | 麦哲伦海峡航线 |
| 意义       |         |

**【问题三】**1492年哥伦布首次航行到西印度群岛，误认为是印度附近的岛屿而得名。读下图，完成填空。



西印度群岛的位置

西印度群岛位于\_\_\_\_\_与\_\_\_\_\_之间，它由众多的大小岛屿组成，其中最大的岛屿是\_\_\_\_\_。古巴盛产甘蔗，有“世界糖罐”之称。

家和10多个地区。在语言上，拉丁美洲大多数国家使用西班牙语，巴西使用葡萄牙语，在语族上为拉丁语族，因此称为拉丁美洲。

**北美洲**，有23个独立国家和十几个地区。人口达5亿多，大部分居民是欧洲移民的后裔，其中以盎格鲁—撒克逊人最多。主要信奉基督教和天主教。

**南美洲**，有12个独立国家和2个地区，人口达4亿多。南美洲民族成分比较复杂，有印第安人、白种人、黑种人及各种不同的混血型，以印欧混血型最多，黑种人最少。居民绝大多数信天主教，少数信基督教新教。

## 2. 南北各异的自然环境

**【问题四】** 北美洲海拔较高，地势起伏较大，地形分为三大南北纵列带。读图，思考问题。



北美洲地形分布

- (1) 说出北美洲主要的山脉、高原和平原。
- (2) 归纳北美洲地形分布的特点。

**【问题五】** 南美洲地势西高东低，以低平地形为主，平均海拔较低，地形结构也分为三大地形区。读图，思考问题。



南美洲地形分布

- (1) 指出南美洲主要的山脉、高原和平原。
- (2) 归纳南美洲地形分布的特点。

### 北美洲的地形：

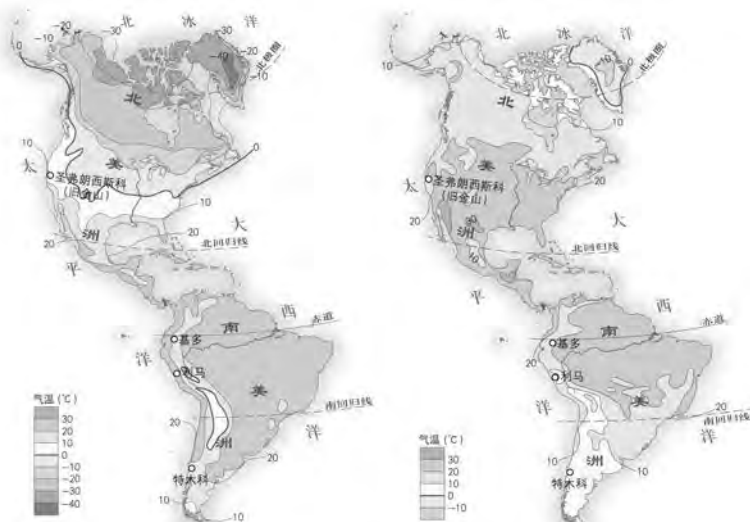
北美大陆地形分为三个区：东部山地和高原，圣劳伦斯河以北为拉布拉多高原，以南为阿巴拉契亚山脉，地势南高北低，海拔一般为300~500米。中部平原，位于拉布拉多高原—阿巴拉契亚山脉与落基山脉之间，北起哈德孙湾，南至墨西哥湾，纵贯大陆中部。平原北部多湖泊和急流，南部为密西西比平原。平原西部为世界著名的大平原。西部山地和高原，属科迪勒拉山系的北段，主要包括三条平行山脉，由东至西为：落基山脉、阿拉斯加山脉—加拿大海岸山脉—喀斯喀特岭—内华达山脉、加拿大西部沿海岛屿—美国海岸山脉。东部山脉和中部山脉之间为高原和盆地。

### 南美洲的地形：

南美洲地势西高东低，也可分为三大地形区：西部高大山系是科迪勒拉山系在南美的延伸部分，叫安第斯山脉。它是世界上最长的山脉，全

**【问题六】**北美洲气候复杂多样，以温带大陆性气候为主；南美洲热带范围广阔，以热带雨林和热带草原气候为主。读图，思考问题。

(1) 读下图，分析南北美洲的气温分布规律。



美洲1月平均气温分布

美洲7月平均气温分布

比较南北美洲的冬夏气温：北美洲冬夏季气温变化\_\_\_\_\_，而南美洲全年气温变化\_\_\_\_\_，冬季比较温暖，夏季没有酷暑。这是由它们所处的\_\_\_\_\_位置决定的。

(2) 读下图，分析南北美洲的降水分布状况。



美洲年降水量分布

由图可知：北美洲西海岸和东南部降水\_\_\_\_\_；南美洲大部分地方降水\_\_\_\_\_，被称为世界上最\_\_\_\_\_的大洲。

长9000多千米，是环太平洋火山地震带的一部分。东部有三大高原：圭亚那高原、巴西高原、巴塔哥尼亚高原。巴西高原起伏和缓是世界上面积最大的高原（约500万千米<sup>2</sup>）。东部有三大平原：自北向南为奥里诺科平原、亚马孙平原、拉普拉塔平原。亚马孙平原地势低平，是世界上面积最大的冲积平原，面积约560万千米<sup>2</sup>，也是世界上面积最大的热带雨林区。

### 北美洲气候的基本特点：

①温带大陆性气候占优势。北美大陆轮廓北宽南窄，大部分位于北纬30°~70°之间。广大地区冬季寒冷，夏季暖热，气温年较差大。年降水量比较适中，以夏雨为主。②气候齐全，类型多样。北美洲南北延伸很广，地面受热状况有很大差异。拥有从寒带到热带和从大陆东岸到西岸的各种气候类型。此外，北美没有典型的热带雨林气候。总体上看，以亚寒带针叶林气候、温带大陆

(3) 读下图，认识南北美洲的主要气候类型及分布规律。



美洲气候类型分布

①北美洲地跨热带、\_\_\_\_\_、\_\_\_\_\_三带，气候类型复杂多样。受海陆轮廓北宽南窄的影响，大部分地区位于\_\_\_\_\_带，以\_\_\_\_\_气候为主。

②南美洲气候类型主要以\_\_\_\_\_和\_\_\_\_\_为主，除高山气候外，南美洲冬季比较\_\_\_\_\_，夏季没有\_\_\_\_\_。

性干旱与半干旱气候、温带大陆性湿润气候分布范围最广。  
③气候类型结构独特。

**南美洲气候的基本特点：**  
①温暖的大洲。南美洲气温年较差很小，除高山地区和南部的火地岛以外，冬季最冷月平均气温均在0℃以上。热带地区，夏季最热月平均气温为24~28℃。  
②湿润的大洲。全洲的年平均降水量达1000毫米以上；年降水量在1000毫米以上的地区约占全洲总面积的70%以上，热带雨林气候区在世界同类气候区中所占面积最广。  
③气候类型结构独特。

### 3. 美洲的居民与经济

**【问题七】**印第安人是拉美最早的居民。15世纪末以后这里先后沦为西班牙、葡萄牙、英国、法国、荷兰等国的殖民地，在社会经济制度、语言、文化、宗教、风俗习惯等方面深受其宗主国的影响。读下图，思考问题。



16—20世纪美洲移民来源示意

**印第安人：**是对除因纽特人外的所有美洲原住民的总称。美洲原住居民中的绝大部分为印第安人，分布于南北美洲各国，传统上将其划归到蒙古人种美洲支系。

印第安人所说的语言一般总称为印第安语，或者称为美洲原住民语言。印第安人的族群及其语言的系属情况均十分复

(1) 美洲的印第安人属于什么人种？

杂，至今没有公认的分类。

(2) 美洲主要的语言：英语——美国、加拿大，葡萄牙语——巴西，西班牙语——阿根廷等。从这些语言构成中，你发现了美洲移民有什么主要特点？

**【问题八】** 美洲的经济发展很不平衡。美国和加拿大属于发达国家，其余属于发展中国家。

(1) 阅读教材内容，判断下列说法是否正确。

- ①墨西哥主要的工业部门是钢铁和汽车。
- ②墨西哥是世界玉米的原产地，也是该国主要的农作物。
- ③南美洲工农业最发达的国家是巴西。
- ④南美洲的主要出口商品是农矿产品。

(2) 南美洲的物产丰富。读下图，参照案例，你还能找到哪些信息？



南美洲主要矿产与农产品分布

如：墨西哥湾沿岸的石油资源，巴西的铁，加勒比海附近的香蕉，阿根廷的小麦和畜牧业。你能找到：\_\_\_\_\_。

## 阅读思考

| 案例一  | 问题   |
|--|--|
| <p style="text-align: center; color: blue;"><b>北美地形对气候的影响</b></p> <p>北美洲西部高山阻止了温带海洋性气候和地中海气候向东延伸，使它们仅分布在山脉以西狭长的沿海地带。西部高原山区降水较少，形成高山气候。东部低缓的山地对海洋水汽的阻挡作用不显著，降水由东部沿海向西部内陆减少。中部平原地势平坦，大平原纵贯南北，使南北气流畅通无阻，冬季寒冷气流可长驱向南，夏季暖湿气流也可自由北上。</p> <div style="text-align: center;">  <p style="text-align: center;">北美洲地形对气候的影响示意</p> </div> | <p style="text-align: center; color: blue;"><b>【问题九】</b>北美洲气候受地形因素的影响显著。</p> <p>(1) 气流①影响下的北美洲西部形成什么气候类型？其分布有何特点？</p> <p>(2) 气流②影响下的气候特点是什么？为什么可以到达墨西哥沿岸和东部沿海？</p> <p>(3) 气流③来自于哪里？受其影响北美洲降水分布呈现怎样的特点？</p> |
| 案例二  | 问题   |
| <p style="text-align: center; color: blue;"><b>国际日期变更线</b></p> <p>地球是太阳系中的一颗行星，它除了绕太阳公转外，每天还自转一周。因此，地球被太阳光照射的半个球面形成白昼，而背着太阳光的另外半个球面便是黑夜，它们之间的过渡带是清晨和黄昏。地球不停地自西向东转着，地球上的晨、昼、昏、夜也不断地从东向西移动，循环往复地在各地出现。</p>   | <p style="text-align: center; color: blue;"><b>【问题十】</b>白令海峡是北冰洋与太平洋之间的唯一通道，是亚欧大陆和北美大陆之间的最窄处。</p> <p>(1) 白令海峡是哪三条分界线经过的地方？</p>   |

随着标准时计时的区时系统的确立，东西十二区重叠，计时相同，但日期不同，为避免混乱，国际上统一规定180°经线为“国际日期变更线”。当你由西向东跨越国际日期变更线时，减去一天；反之，由东向西跨越国际日期变更线时，加上一天。这条穿过太平洋的“国际日期变更线”，为了方便地方生活，避开了一些岛屿和地区，它不是一条直线而是有几个曲折的曲线。



(2) 一对双胞胎，先出生的是女孩，后出生的是男孩，可长大后人们却发现原来女孩一直叫男孩为哥哥，这有可能吗？你如何解释？

## 实践探究

### 活动一：

**任务：**读图训练

**要求：**读南美洲示意图，说出图中数字代表的地理事物名称。



- 1 \_\_\_\_\_ 海，2 \_\_\_\_\_ 洋，3 \_\_\_\_\_ 洋，4 \_\_\_\_\_ 岛，  
 5 \_\_\_\_\_ 运河，6 \_\_\_\_\_ 山脉，7 \_\_\_\_\_ 高原，8 \_\_\_\_\_ 河流  
 9 \_\_\_\_\_ 平原，10 \_\_\_\_\_ 海峡。

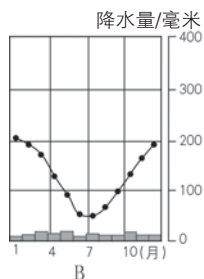
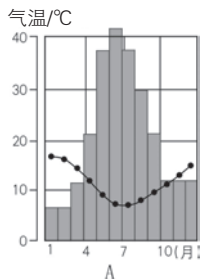
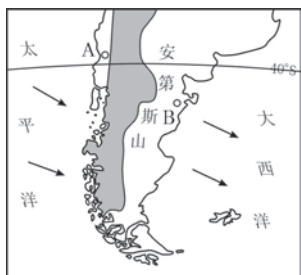


## 活动二：

**任务：**材料分析

### 拉丁美洲湿热为主的气候

拉丁美洲的气候与其位置、地形关系密切。由于拉丁美洲大部分地区地处低纬度，周围有广阔的海洋，其纬度位置、海陆位置致使该地区气候湿热，但受其地形的影响，不同地区气候出现明显差异：不同地形区（平原与高原）的差异；山地的垂直差异和变化；安第斯山脉（40°S以南）的东西两侧的差异（迎风坡和背风坡所造成的降水差异导致其气候和植被的差异）。拉丁美洲湿热的气候影响着人们的生产和生活。



**问题：**

- 图中A地年降水量\_\_\_\_\_，B地年降水量\_\_\_\_\_，两地全年最低气温都在\_\_\_\_\_月，最高气温在\_\_\_\_\_月。
- 想一想，两地年降水量不同的原因是什么？
- 说出A地的气候类型和气候特征。

## 活动三：

**任务：**对比分析

**内容及要求：**

阅读世界地形图及有关材料，比较分析亚欧大陆和北美大陆的异同，完成下表。

| 大陆 \ 对比 |        | 亚欧大陆                  | 北美大陆 |
|---------|--------|-----------------------|------|
| 相同点     | 纬度位置   |                       |      |
|         | 海陆位置   | 大陆东、西、北三面均濒临大洋        |      |
|         | 自然环境   |                       |      |
| 不同点     | 东西半球位置 |                       | 西半球  |
|         | 面积     | 5000多万千米 <sup>2</sup> |      |
|         | 热带范围   |                       | 狭窄   |
|         | 山脉走向   | 山脉多呈放射状走向             |      |

## 验收评价

## 一、单项选择题

1. 亚洲和北美洲的分界线、俄罗斯和美国的国界线、国际日期变更线，“三线”穿过的海峡是（ ）

- A. 马六甲海峡      B. 直布罗陀海峡  
C. 白令海峡        D. 黑海海峡

2. 号称“美洲大陆桥梁”的地方是指（ ）

- A. 巴拿马运河      B. 中美地峡  
C. 安第斯山脉      D. 西印度群岛

3. 北美洲地形分三大南北纵列带，正确的是（ ）

- A. 西部是安第斯山脉、中部是大平原、东部是阿巴拉契亚山脉  
B. 西部是落基山脉、中部是大平原、东部是安第斯山脉  
C. 西部是安第斯山脉、中部是大平原、东部是落基山脉  
D. 西部是落基山脉、中部是大平原、东部是阿巴拉契亚山脉

4. 拉丁美洲居民主要通行的语言是（ ）

- A. 汉语                      B. 英语  
C. 西班牙语和葡萄牙语      D. 俄语

5. 以出口小麦、牛肉、羊毛等产品在国际市场占突出地位的南美洲国家是（ ）

- A. 巴西                      B. 巴拉圭  
C. 哥伦比亚              D. 阿根廷

6. 世界上最长的山脉是（ ）

- A. 安第斯山脉      B. 落基山脉  
C. 喜马拉雅山脉      D. 阿尔卑斯山脉

7. 下列有关南、北美洲的比较，正确的是（ ）

- A. 两大洲的气候都具有暖湿的特点  
B. 两大洲大西洋沿岸的气候类型都相同  
C. 北美洲有面积广大的亚寒带针叶林，南美洲有大面积的热带雨林  
D. 北美洲以温带气候为主，南美洲以寒带气候为主

8. 有关西印度群岛的叙述，正确的是（ ）

- A. 西印度群岛由航海家哥伦布首次发现并命名  
B. 西印度群岛中的最大岛屿是古巴岛  
C. 西印度群岛呈弧形排列在墨西哥湾内  
D. 西印度群岛位于印度洋西部

9. 号称“世界人种大熔炉”的大洲是（ ）

- A. 南美洲                  B. 北美洲  
C. 亚洲                      D. 欧洲

10. 美洲经济发展不平衡，下列国家中经济最雄厚的是（ ）

- A. 美国                      B. 加拿大  
C. 墨西哥                  D. 巴西

## 二、综合题

11. 读下图，完成下列问题。



(1) 在图上适当位置填注太平洋、大西洋、墨西哥湾、落基山脉、拉布拉多高原的名称。

(2) 图中 A 是来自\_\_\_\_\_洋的\_\_\_\_\_气流，由于受\_\_\_\_\_山系的阻挡，难以深入内陆，其影响仅限于\_\_\_\_\_地区。

(3) 图中 B 是夏季墨西哥湾北上的

\_\_\_\_\_气流，C 是北冰洋南下的\_\_\_\_\_气流，由于北美洲中部地形是\_\_\_\_\_，所以它们可以在北美洲大陆中部南来北往，畅行无阻。

(4) 北美洲以\_\_\_\_\_气候为主，格陵兰岛属于\_\_\_\_\_气候。

## 第六章测试题

### 一、单项选择题

1. 下列地点不属于亚洲与其他洲分界线的是 ( )

- A. 乌拉尔山、乌拉尔河
- B. 大高加索山、土耳其海峡
- C. 苏伊士运河、白令海峡
- D. 巴拿马运河、直布罗陀海峡

2. 亚洲季风气候的形成，主要的影响因素是 ( )

- A. 海陆位置
- B. 纬度位置
- C. 地形位置
- D. 洋流位置

3. 非洲大陆的主要地形是 ( )

- A. 平原
- B. 山地
- C. 高原
- D. 丘陵

4. 欧洲南部分布最广的气候类型是 ( )

- A. 地中海气候
- B. 温带海洋性气候
- C. 温带大陆性气候
- D. 季风气候

5. 关于亚洲和欧洲人口的叙述，正确的是 ( )

A. 在世界各大洲中，亚洲人口最多，欧洲人口密度最小

B. 欧洲是世界上人口自然增长率最低的大洲

C. 欧洲是除南极洲以外人口最少的大洲

D. 世界上人口超过 1 亿的国家，大多数在亚洲和欧洲

6. 东非高原位于赤道附近，但不属于热带雨林气候而是热带草原气候，其主要原因是 ( )

- A. 距海洋远
- B. 海陆差异显著
- C. 受副热带高气压控制
- D. 高原地形的影响

7. 关于美洲地区的描述，正确的是 ( )

A. 美洲地区由北美洲和拉丁美洲两个区域组成

B. 拉丁美洲是指巴拿马运河以南的美洲地区

C. 北美洲的一些地区也属于拉丁美洲地区

D. 南美洲的区域范围要远远大于拉丁美洲

8. 既能在夏季观赏到午夜太阳，又可观赏峡湾风光的国家是 ( )

- A. 芬兰                      B. 英国  
C. 瑞典                      D. 挪威
9. 赤道和极圈都穿过的大洲是 (     )  
A. 欧洲                      B. 亚洲  
C. 北美洲                    D. 南美洲
10. 下列人类文明发祥地的分布, 不在亚洲的是 (     )  
A. 黄河—长江流域  
B. 印度河流域  
C. 两河流域  
D. 尼罗河流域
11. 以下别称所描述的地理事物都位于非洲的是 (     )  
A. “地球之巅”、北半球的“寒极”  
B. “富饶大陆”、“赤道雪峰”  
C. “世界人种大熔炉”、“高原大陆”  
D. “玉米的故乡”、“热带大陆”

12. 世界上有一半是咸水一半是淡水的湖泊是 (     )

- A. 苏必利尔湖              B. 里海  
C. 巴尔喀什湖              D. 死海
13. 美洲原住民印第安人属于 (     )  
A. 白色人种                  B. 黄色人种  
C. 黑色人种                  D. 混血人种

14. 某跨国公司专门为黑色人种配制的化妆品, 价格低廉。下列大洲或地区中可能拥有较大销售市场的是 (     )

- A. 亚洲东部                  B. 欧洲  
C. 非洲南部                  D. 非洲北部

15. 世界第一长河所在大洲及其流向是 (     )

- A. 美洲 自东向西  
B. 亚洲 自北向南  
C. 非洲 自南向北  
D. 非洲 自北向南

16. 当我们今天下午四点半进行地理单元测试时, 伦敦的小朋友可能正在 (     )

- A. 放学回家的路上        B. 上课  
C. 吃午餐                    D. 看晚间新闻
17. 亚洲、欧洲、非洲、美洲共同拥有的气候类型是 (     )

- A. 热带季风气候  
B. 温带海洋性气候  
C. 温带大陆性气候  
D. 地中海气候

18. 世界上最大的热带雨林分布在 (     )

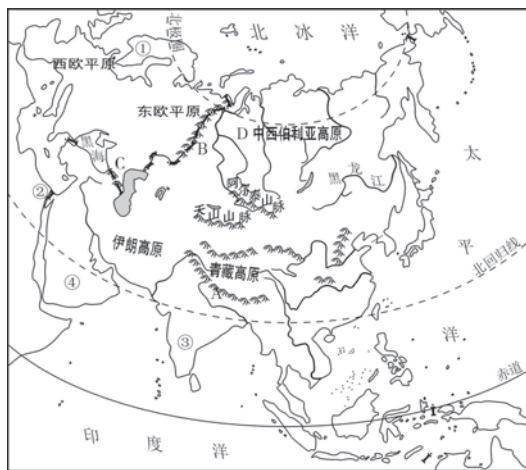
- A. 亚马孙河流域        B. 刚果盆地  
C. 亚洲南部                D. 澳大利亚东部

19. 非洲地势的特点是 (     )

- A. 南部高, 北部低  
B. 北部高, 南部低  
C. 西北高, 东南低  
D. 东南高, 西北低

## 二、综合题

20. 读亚欧大陆地区略图, 完成下列问题。



(1) 亚洲东临\_\_\_\_\_洋, 南临\_\_\_\_\_洋, 地处亚欧大陆的东部。

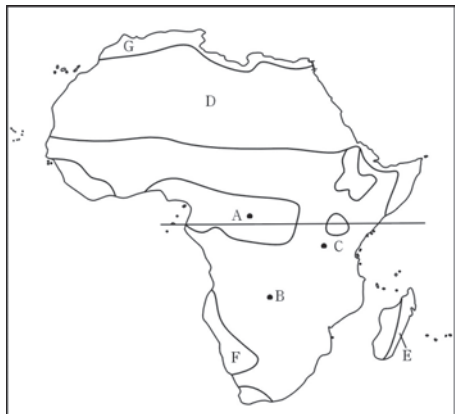
(2) 写出图中字母、数码所代表的地理事物的名称。

- A \_\_\_\_\_ 山脉    B \_\_\_\_\_ 山脉  
C \_\_\_\_\_ 山脉    D \_\_\_\_\_ 平原

- ①\_\_\_\_\_半岛 ②\_\_\_\_\_运河  
 ③\_\_\_\_\_半岛 ④\_\_\_\_\_半岛

(3) 亚洲大部分位于\_\_\_\_\_半球和\_\_\_\_\_半球。

21. 读非洲气候类型分布示意图，完成下列问题。



(1) 写出图中字母代表的气候类型：

A \_\_\_\_\_ D \_\_\_\_\_

B \_\_\_\_\_ G \_\_\_\_\_

(2) 图中E处气候类型与ABCD中的\_\_\_\_\_相同。F处的气候类型与\_\_\_\_\_相同。(填代号)

(3) C点和B点气候相同，但与同处低纬的A点不同，主要原因是什么？

(4) 说出刚果盆地的气候类型及其成因。

(5) 说出非洲气候类型中分布范围最广的气候类型及特征。

(6) 由图可以看出非洲气候类型的分布规律是什么？

22. 阅读材料，回答问题。

科迪勒拉山系是世界上最长的山系。它纵贯美洲大陆西部，北起阿拉斯加，南到火地岛，山脉一般为南北走向或西北—东南走向，它的构造复杂，地壳不稳定，火山、地震活动强烈。

(1) 科迪勒拉山系北段的著名山脉是\_\_\_\_\_，最高山峰是\_\_\_\_\_。

(2) 科迪勒拉山系南段的著名山脉是\_\_\_\_\_，最高山峰是\_\_\_\_\_。

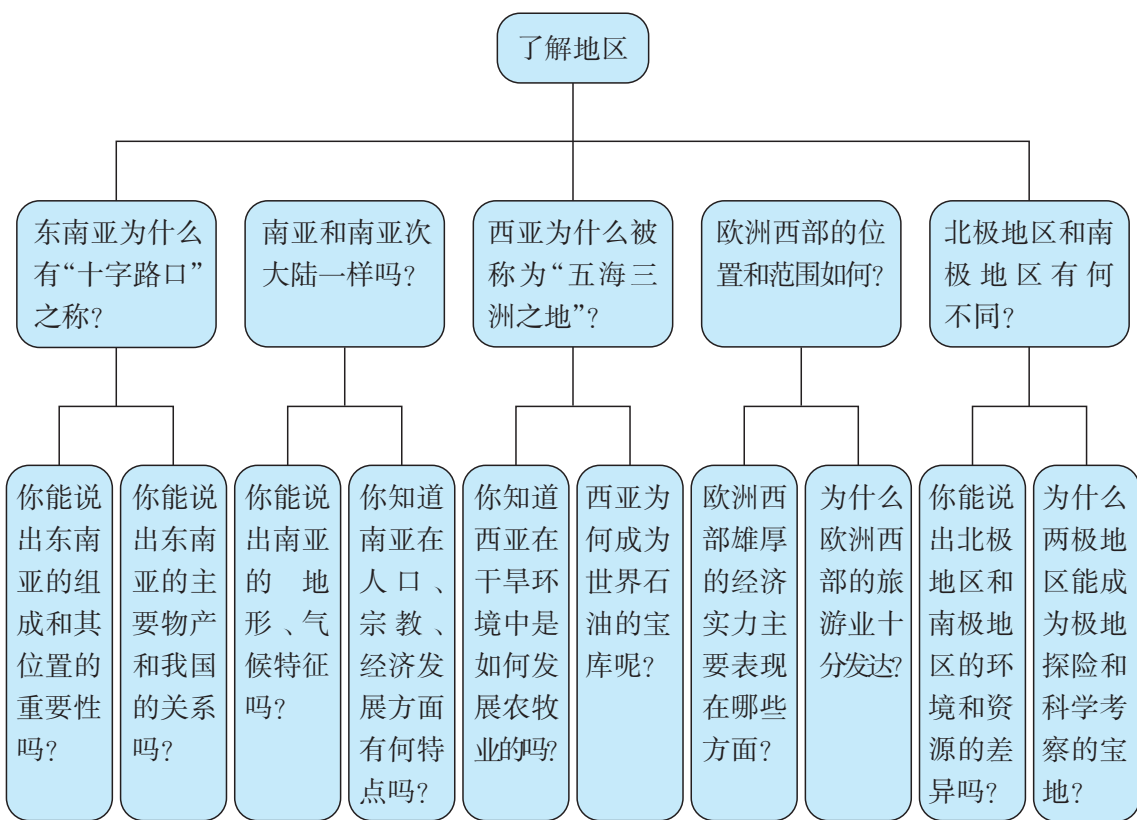
(3) 科迪勒拉山系对美洲气候有什么影响？

(4) 科迪勒拉山系为什么多火山、地震？

# 第七章 了解地区

## 本章概述

当你漫步在椰林婆娑的东南亚海滨，扑面而来的是湿热的热带气息；当你徜徉在西亚古城的街头巷尾，吸引目光的是浓郁的宗教文化。来到南亚乡村的田间地头，你会为这里传统的生活方式而感慨；走进西欧现代化的装配车间，你将被精湛的科学技术所震撼。世界各大洲的地区多以方位来划分，每一个地区都有独特的自然和人文特色。



# 第一节

## 东南亚

### 三维目标

#### 知识与技能

了解东南亚的范围和国家；分析马六甲海峡“十字路口”的位置；归纳东南亚的自然环境特征；知道东南亚的主要物产以及分布特点；了解东南亚的人口分布特征，以及华人、华侨对东南亚的开发和繁荣做出的贡献。

#### 过程与方法

运用地图，说明东南亚的位置和范围，并分析其地理位置的重要性；读图归纳地形、地势、气候特征，并分析河流对城市分布的影响；运用地图和资料，分析说明主要物产与经济的关系。

#### 情感态度和价值观

通过学习，理解地理环境对人类活动的影响，初步树立因地制宜发展经济的意识。

### 学习指导

1. 运用地图资料，分析归纳区域地理特征：包括地理位置、地形、气候、河流、人口、城市分布和产业活动等。
2. 读图判断东南亚的气候类型，明白其气候特征和成因，分析说明气候对当地农业生产的影响。
3. 运用资源分布图，结合相关资料，分析归纳物产资源的分布与经济发展之间的关系。

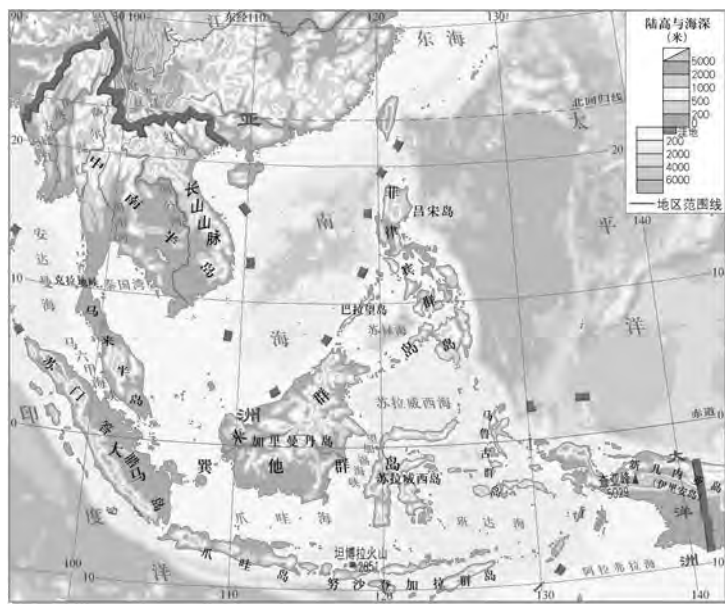
## 自主研习

## 知识点

## 说明

## 1. 中南半岛与马来群岛

【问题一】东南亚位于亚洲南部，包括中南半岛和马来群岛的大部分，中南半岛因在中国以南而得名。马来群岛是散布在太平洋和印度洋之间的2万多个大小岛屿的总称。读下图，思考问题。



东南亚地形分布示意

(1) 找出中南半岛、马来半岛、苏门答腊岛、加里曼丹岛、爪哇岛、苏拉威西岛、菲律宾群岛、伊里安岛（新几内亚岛）。

(2) 完成下表。

| 河流名称  | 流向 | 注入的海洋 |
|-------|----|-------|
| 红河    |    |       |
| 湄公河   |    |       |
| 湄南河   |    |       |
| 萨尔温江  |    |       |
| 伊洛瓦底江 |    |       |

## 中南半岛

包括越南、老挝、柬埔寨、缅甸、泰国及马来西亚西部，是世界上国家第二多的半岛，沿海多港湾。地势北高南低，多山地和高原。北部是古老高大的掸邦高原，海拔1500~2000米。众多山脉自北向南呈扇状延伸，形成掸邦高原及南部山、谷相间分布的地形格局。山谷间有伊洛瓦底江、萨尔温江、湄南河、湄公河、红河自北向南，汹涌奔腾，源远流长，是典型的山河相间，纵列分布地形。中南半岛的主要河川和山脉，大部分从中国地区延伸过来，故有山同脉、水同源之说。在一些河流的中下游河谷平原及各河的河口三角洲为主要农业区和人口集中区。

中南半岛绝大部分位于10°N~20°N之间，属典型的热带季风气候。每年3—5月为热季，冬夏季风均消退，气候炎热，月均温达25~30℃；一年分旱雨两季，6—10月为雨季，盛行西南季风，降水充沛；11月—次年2月为旱季，盛行东北季风，天气干燥少雨。气候特征表现为：全年高温，降水集中分布在夏季。




(3) 马来群岛大部分和马来半岛南部是什么气候类型？有什么特征？怎样形成的？

(4) 中南半岛大部分地区 and 菲律宾群岛北部是什么气候类型？有什么特征？怎样形成的？

(5) 结合教材内容，填写下表。

| 地区   | 地形特征 | 气候类型 | 河流特征 |
|------|------|------|------|
| 中南半岛 |      |      |      |
| 马来群岛 |      |      |      |

(6) 读下图，想一想，为什么马来群岛火山、地震比较频繁？（提示：结合板块构造学说知识）



东南亚的火山

## 马来群岛

马来群岛称东南亚岛屿区，也叫南洋群岛，世界上最大的岛群，是一组散布于印度洋和太平洋上，位于东南亚大陆和澳大利亚之间的群岛。该群岛由2万多个岛屿组成，是世界上面积最大的群岛。群岛上的国家有印度尼西亚、菲律宾、新加坡、文莱、马来西亚（东马来西亚）、东帝汶和巴布亚新几内亚（大部分地区）。

马来群岛上的地形以山地为主，且多分布在岛屿中部。平原比较狭小，主要分布在沿海。马来群岛处于地壳运动活跃的地方，由于三大板块（太平洋板块、印度洋板块和亚欧板块）彼此挤压，时常引发地震。在地壳隆起形成山地的同时，地下灼热的岩浆也顺地裂缝上涌，在地面喷发形成火山。印尼和菲律宾是东南亚火山数量最多的国家。火山分布的岛屿呈弧形自东向西延伸，因而人们形象地称之为“灯火走廊”，这里是世界上地震和火山爆发最多的地区。

马来群岛的气候分属于两种类型。印度尼西亚群岛全年高温多雨，是典型的热带雨林气候。菲律宾群岛属于典型的海洋性热带季风气候，全年炎热、湿润，且全年分二季。受地形和气候的制约，马来群岛的河流都短小急湍。

## 2. 马六甲海峡

**【问题二】** 马六甲海峡长 1080 千米，水深 25~200 米，呈西北宽、东南窄的喇叭形，大部分时间风平浪静，有利于航运。读下图，思考问题。

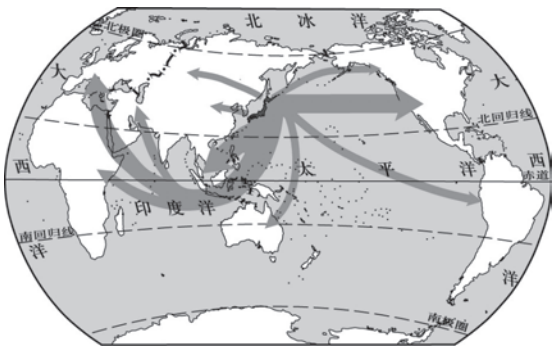


马六甲海峡

(1) 说出东南亚地理位置的特点。

(2) 为什么称马六甲海峡是沟通亚洲和大洋洲、太平洋与印度洋的“咽喉”？

(3) 读下图，想一想，日本称马六甲海峡为“海上生命线”的理由是什么？



日本主要产品的输出地

(4) 马六甲海峡航运繁忙，但航道狭窄，还有礁石和小岛，影响海上交通安全。请结合教材图 7-1，如果要开辟一条沟通印度洋和太平洋的新航线，你有什么好的建议，并说明理由。

## 马六甲海峡

约在公元 4 世纪时，阿拉伯人就开辟了从印度洋穿过马六甲海峡，经过南海到达中国的航线。他们把中国的丝绸、瓷器，马鲁古群岛的香料，运往罗马等欧洲国家。公元 7—15 世纪，中国、印度和阿拉伯国家海上贸易船只，都要经过马六甲海峡。16 世纪初，葡萄牙航海家开辟了大西洋至印度洋航线。1869 年，苏伊士运河贯通，大大缩短了从欧洲到东方的航路。马六甲海峡的通航船只急剧增多。近年来，过往海峡的船只每年达 8 万多艘，成为世界最繁忙的海峡之一。沿岸的新加坡港，是世界著名大港，吞吐量为世界第四。港内码头岸线长达三四千米，可同时容纳 30 余艘巨轮停泊。拥有 40 万吨级的巨型船坞，能修理世界最大的超级油轮。马六甲海峡无论在经济或军事上而言，都是很重要的国际水道。重要性可与苏伊士运河或巴拿马运河相比。日本常称马六甲海峡是其“生命线”。

### 3. 富饶的物产

**【问题三】** 东南亚是世界上热带经济作物的重要产地。

结合景观图，思考问题。



橡胶林



椰子树



蕉麻

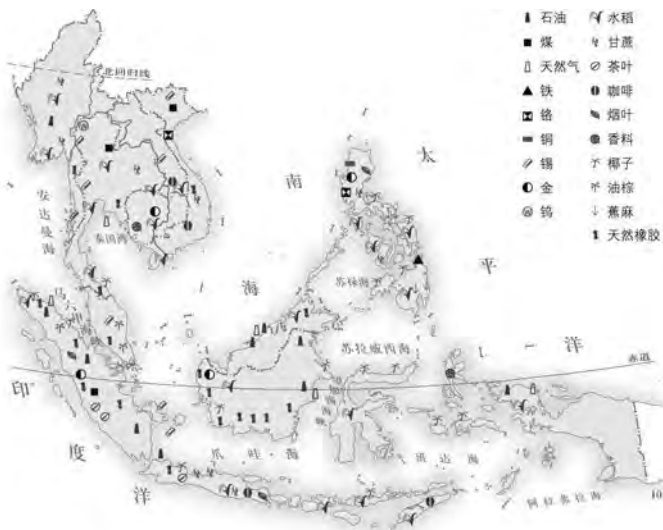


甘蔗

把下列物产的生产 and 出口状况与相应的国家用线连接起来。

- |             |          |
|-------------|----------|
| ①世界最大的橡胶生产国 | A. 印度尼西亚 |
| ②世界最大的油棕生产国 | B. 菲律宾   |
| ③世界最大的椰子生产国 | C. 泰国    |
| ④世界最大的椰子出口国 | D. 马来西亚  |
| ⑤世界最大的蕉麻生产国 |          |

**【问题四】** 东南亚各国普遍种植水稻，稻米是当地居民的主要粮食，也是传统的出口产品。东南亚还是世界上重要的石油和锡矿产地。读图，思考问题。



东南亚物产分布

### 东南亚富饶的物产

东南亚湿热多雨的气候和肥沃的土地，适宜种植粮食作物和热带经济作物。东南亚是世界上天然橡胶、油棕、椰子和蕉麻等热带经济作物的重要产地。泰国、越南、缅甸是世界上重要的稻米出口国。菲律宾是世界上最大的蕉麻生产国和椰子出口国。印度尼西亚是世界上最大的椰子生产国。马来西亚是世界上最大的棕油生产国。泰国的天然橡胶和棕榈油的产量、出口量均居世界首位。

东南亚拥有丰富的矿产资源。东南亚是著名的环太平洋锡钨矿带的一部分，主矿脉循泰、缅边境，斜贯马来半岛，直至印度尼西亚的邦加岛和勿里洞岛。所产的锡基本上均采自砂矿。其品位虽不高，但储量大（约占全世界一半），矿层厚，开采易，且分布集中。运输方便，生产条件明显优于其他产锡区。其中马来西亚的锡产量长期居世界前列。

石油、天然气也是东南亚重要的矿产资源。共有7个国家生产石油，但总储量和总产量的95%集中于印度尼西亚、马来西亚和文莱。与波斯湾等主要石油产地相比较，东南亚具有邻近远东

(1) 找出中南半岛水稻的主要产区，并说出这些地区的气候和地形特征。

(2) 关于东南亚种植水稻的有利自然条件有 ( )

- A. 气候高温多雨                  B. 地形平原广阔、土壤肥沃  
C. 有河流灌溉，水源充足      D. 劳动力资源丰富

(3) 东南亚的重要矿产资源有\_\_\_\_\_、\_\_\_\_\_和\_\_\_\_\_。其中\_\_\_\_\_和\_\_\_\_\_的锡产量居世界前列。

(4) 议一议，为什么东南亚地区成为世界最大的橡胶生产国？

巨大石油市场的显著优点，且油质优良，含硫率低，赢得了“芳香原油”之美名，在国际市场上有着很强的竞争能力。此外，东南亚也是重要的天然气生产和出口地。

#### 4. 我国的近邻

**【问题五】** 东南亚主要有11个国家，分布在中南半岛和马来群岛上。东南亚是世界上华人和华侨分布最集中的地区，他们为当地和我国的经济建设做出了重要贡献。读图，思考问题。



东南亚国家和地区分布

#### 东南亚的华人、华侨

东南亚的居民绝大多数是黄种人。其中华人、华侨占有一定比例。他们之中绝大多数已加入当地国籍，成为居住国公民，我们称为华人；仍保留中国国籍的，称为华侨。

东南亚的华侨华人不但与当地人民一道披荆斩棘，艰苦创业，遵守法律，和睦共处，为居住国的经济发展与社会进步做出卓越贡献，而且他们在融入当地社会的同时，与祖籍国交往密切，对促进我国的经济建设和推动居住国与我国的友好关系发挥了重要作用。

(1) 找出东南亚的主要国家。说出与我国大陆接壤的国家。

(2) 填写下列各国首都及流经的河流名称。

| 国家  | 首都 | 河流 |
|-----|----|----|
| 越南  |    |    |
| 老挝  |    |    |
| 柬埔寨 |    |    |
| 泰国  |    |    |
| 缅甸  |    |    |

(3) 华人和华侨一样吗？请举例说明。

## 阅读思考

### 案例

#### 材料一：

东南亚大部分位于北回归线与南纬 10° 之间，地处热带，深受海洋影响，终年高温，降水丰沛，森林茂密。根据各地降水量的不同，分为热带雨林气候和热带季风气候。马来半岛和马来群岛的大部分属于热带雨林气候。农作物随时可播种，四季都可收获。中南半岛和菲律宾群岛北部属于热带季风气候，农作物多在雨季播种，旱季收获。

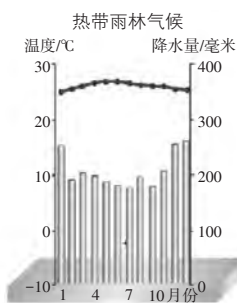
### 问题

**【问题六】** 东南亚湿热多雨的气候和肥沃的土地，适宜种植粮食作物水稻和热带经济作物。

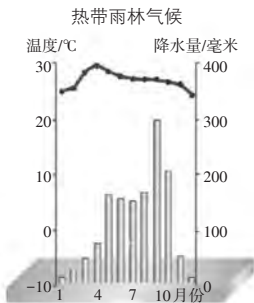
(1) 以曼谷为例，总结热带季风气候的特点。

(2) 以新加坡为例，总结热带雨林气候的特点。

## 材料二：



新加坡年内各月气温与降水量



曼谷年内各月气温与降水量



热带雨林一天的天气变化示意图

(3) 假如你是热带季风气候区的一位农民，何时播种？何时收获？在热带雨林气候区又该如何呢？

(4) 读图，请描述热带雨林气候区一天中的天气过程。

## 实践探究

## 活动一：

任务：读图训练

材料：东南亚的国家分布示意图。



内容:

比一比，看谁找得快。

- (1) 哪些国家与中国相邻?
- (2) 哪些国家是内陆国?
- (3) 哪个国家位于半岛上? 哪些国家位于群岛上?
- (4) 哪些国家是临海国?
- (5) 哪些国家是岛国?

活动二:

任务: 讨论、辨析

一、请阅读下面的材料并结合所学内容，完成下列要求。

2014年暑假，贝贝到新马泰（新加坡、马来西亚、泰国）旅游，下面是他这次旅游的见闻。

A. 他从车窗向外看，看到了广阔的稻田、成片的橡胶林和油棕种植园

B. 他见到当地人大多吃米饭，每天吃完中午饭不久总要下一场暴雨

C. 这次旅游，他逛了水上市场，领略了花园城市的风采，用汉语与当地人交流，还看到了火山喷发时的奇观

问题:

1. 若A正确，他看到的这些景色最有可能的是\_\_\_\_\_国家。
2. 若B正确，午后大暴雨按成因应属于\_\_\_\_\_。
3. 若C正确，他逛的水上市场最有可能所在的国家是\_\_\_\_\_，
4. 领略的花园城市是\_\_\_\_\_（国家）。这里多火山的原因是什么？

二、对话辩论：针对下面的对话，请谈一谈火山的功与过。



## 验收评价

## 一、单项选择题

1. 下列关于东南亚的位置和范围，说法错误的是（ ）

- A. 东南亚位于“十字路口”的位置
- B. 东南亚包括马来半岛和马来群岛
- C. 中南半岛因在中国以南而得名
- D. 位于马来半岛和苏门答腊岛之间的

马六甲海峡被日本称为“海上生命线”

2. 小明为向东南亚的小朋友问好，特地制作了精美的贺卡，装进漂流瓶中，丢进了澜沧江。下列城市的小朋友，最有可能捡到漂流瓶的是（ ）

- A. 内比都                  B. 曼谷
- C. 河内                    D. 万象或金边

3. 东南亚主要的气候类型是（ ）

- A. 亚热带季风气候和热带季风气候
- B. 热带沙漠气候和热带雨林气候
- C. 地中海气候和热带季风气候
- D. 热带季风气候和热带雨林气候

4. 泰国、越南、缅甸是世界重要的稻米出口国，这里适宜水稻生长的气候条件是（ ）

- A. 炎热干燥的气候
- B. 温和多雨的气候
- C. 高温多雨的气候
- D. 寒冷干燥的气候

5. 位于东南亚的橡胶生产大国是（ ）

- A. 印度尼西亚、泰国、马来西亚
- B. 泰国、老挝、印度尼西亚
- C. 马来西亚、缅甸、印度尼西亚
- D. 缅甸、柬埔寨、印度尼西亚

6. 马六甲海峡沿岸的三个国家是（ ）

- A. 印度尼西亚、马来西亚、新加坡
- B. 印度尼西亚、马来西亚、菲律宾
- C. 印度尼西亚、菲律宾、泰国
- D. 马来西亚、菲律宾、缅甸

7. 东南亚地区具有“火山国”之称的国家是（ ）

- A. 菲律宾                  B. 印度尼西亚
- C. 马来西亚              D. 柬埔寨

8. 某公司从东南亚采购了一批当地出产的货物回国，进入中国海关时，报货单上的货物名称最有可能是（ ）

- A. 棉花                    B. 椰枣
- C. 锡矿砂                D. 羊毛

9. 东南亚人口稠密，居民主要分布在（ ）

- A. 马来群岛岛屿上的雨林地带
- B. 马来群岛各大岛的山区
- C. 中南半岛北部的广大山区
- D. 中南半岛各大河的沿岸平原、河口三角洲

10. 下列关于新加坡的叙述，正确的是（ ）

- A. 有“花园城市”之称
- B. 是东南亚新兴的农业国
- C. 位于马六甲海峡西端出口处
- D. 新加坡是东南亚最大的城市

## 二、综合题

11. 读下图，完成下列问题。





(1) 从图中可以看出，中南半岛上的河流流向是\_\_\_\_\_。

(2) 新加坡属于什么气候类型？有何特征？

(3) 有“火山国”之称的是哪个国家？为什么？

12. 读图，完成下列问题。



(1) 传统民居与地理环境的关系非常密切，根据图片判断该地的气候特征是什么？

(2) 为了适应当地的气候环境，高架屋具有哪些功能？

## 第二节

# 南亚

### 三维目标

#### 知识与技能

指出南亚的位置和范围；了解南亚地区的地形、气候特征，分析自然环境对农业生产的影响；了解南亚地区的宗教以及宗教对各国社会的影响；说出南亚地区的人口和经济发展状况。

#### 过程与方法

读图说出南亚的位置、范围、主要国家及其首都；在地图上填绘主要山脉、平原、高原和河流等；运用地形图描述南亚的地势变化和地形特点，分析地形、河流与人类活动的关系；运用气候图，归纳南亚地区的气候特点、分布，分析西南季风对农业的影响。

#### 情感态度和价值观

领悟南亚人民利用优越的自然条件，在进行农业生产的过程中，创造了灿烂的古代文化；认识人口与环境问题的重要意义；树立因地制宜发展经济的意识。

### 学习指导

1. 分析区域地理环境特征，从地形、气候、河流等方面描述南亚地区的环境特征。
2. 运用气温变化曲线和降水量图、气候类型分布图以及相关资料，分析归纳南亚热带季风气候的特点，说明西南季风对农业的影响。
3. 读图了解南亚地区主要农作物的种类、分布，分析说明农作物与自然条件的关系。
4. 利用资料，了解南亚是人类古代文明之一。
5. 运用资料，了解佛教、印度教等宗教对南亚各国的影响。

## 自主学习

### 知识点

### 说明

#### 1. 位置与国家

**【问题一】** 南亚是指位于亚洲南部喜马拉雅山脉中、西段与印度洋之间的广大地区。读下图，思考问题。



南亚国家和地区分布

**南亚**，泛指喜马拉雅山脉以南的地域，南亚以印度板块为主体。南亚区域内的国家包括印度、巴基斯坦、孟加拉国、斯里兰卡、尼泊尔、不丹和马尔代夫。

#### 南亚的地理位置：

1. 海陆位置：北部靠喜马拉雅山脉，南部临印度洋，西部是阿拉伯海，东部是孟加拉湾，大体在喜马拉雅山脉和印度洋之间。

2. 经纬度位置： $0^{\circ} \sim 37^{\circ}\text{N}$ ， $60^{\circ}\text{E} \sim 97^{\circ}\text{E}$ 。

3. 相对位置：北部靠中国，东南部临东南亚，西北部接西亚。

**克什米尔**，又称喀什米尔，是南亚次大陆西北部（青藏高原西部和南亚北部的交界处）的一个地区，曾为英属印度的一个邦。面积约19万千米<sup>2</sup>。克什米尔地区由两个国家分治：巴基斯坦控制了西北部地区（自由克什米尔和克什米尔北部地区），印度控制了中部和南部地区（查谟—克什米尔邦）。

(1) 说出南亚的海陆位置。

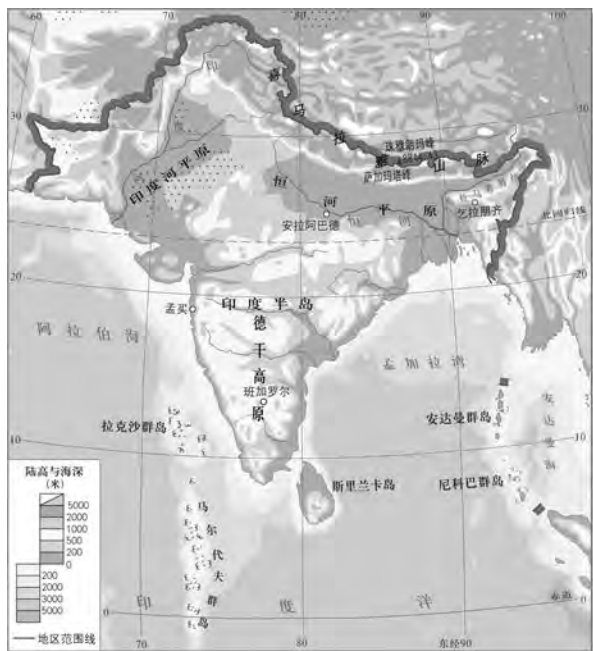
(2) 找到北回归线，指出南亚的纬度范围。

(3) 找出南亚的内陆国、临海国和岛国，同我国陆地相连的国家。

(4) 找到克什米尔地区。说出目前控制克什米尔地区的南亚国家。

## 2. 三大地形区

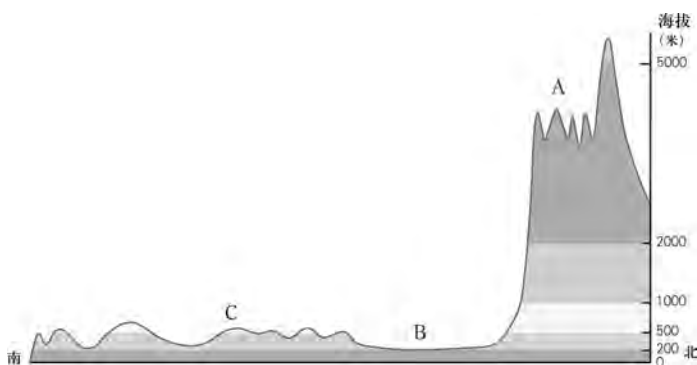
【问题二】南亚地形可以分为北部山地，中部平原，南部高原三部分。读下图，思考问题。



南亚地形分布

- (1) 找出喜马拉雅山、恒河平原、印度河平原、德干高原。
- (2) 观察地图，判断德干高原东、西部的地势高低，并说明理由。

(3) 请填出下图中字母所代表的地形名称。



沿78°E线南亚地形剖面

(4) 比较印度河与恒河，完成下表。

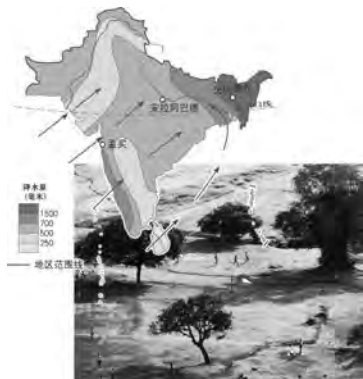
| 河流名称 | 发源地 | 流经的国家 | 注入的海洋 |
|------|-----|-------|-------|
| 印度河  |     |       |       |
| 恒河   |     |       |       |

南亚地形分为三部分：年轻的褶皱山脉（如西北部的苏来曼山脉，北部的喀喇昆仑山脉、喜马拉雅山脉，东部的巴达开山脉和阿拉干山脉等），围绕在半岛的北面，南临大海。中部是平原，由印度河、恒河和布拉马普特拉河冲积而成，河网密布，灌溉渠众多，农业发达。印度河源于我国西藏，流经南亚西部干旱地区，注入阿拉伯海；恒河源于西北喜马拉雅山区，流经印度、孟加拉国，注入孟加拉湾，河口有恒河三角洲。南部为德干高原和东西两侧的海岸平原。高原与海岸平原之间为东高止山脉和西高止山脉。

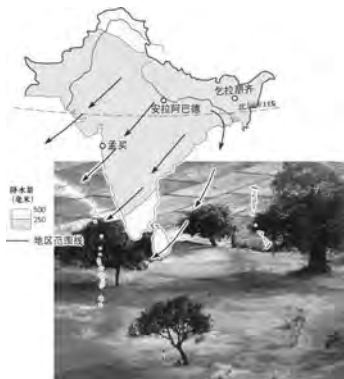
由于北有高大的喜马拉雅山脉把南亚跟亚洲大陆主体隔开，东、西和南三面为孟加拉湾、阿拉伯海和印度洋所环绕，在地理上有一定的独立性，使南亚在地理上形成一个相对独立的单元，因此喜马拉雅山以南至印度洋的大陆部分被称为“南亚次大陆”（或简称次大陆）。而南亚则是由南亚次大陆的大部分和附近印度洋中的岛屿共同构成的。

### 3. 一年分三季

**【问题三】** 南亚大部分位于北纬 $10^{\circ}\sim 30^{\circ}$ 的低纬度地区，北回归线横贯中部，大部分地区属热带季风气候，一年可分为三季，即热季、雨季和凉季。读下图，思考问题。



南亚7月降水量分布



南亚1月降水量分布



南亚雨季



南亚热季

(1) 1月，南亚盛行\_\_\_\_\_风，降水\_\_\_\_\_（多、少）；7月，南亚盛行\_\_\_\_\_风，降水\_\_\_\_\_（多、少）。

(2) 南亚雨季降水主要集中在\_\_\_\_\_和\_\_\_\_\_部。主要原因是\_\_\_\_\_。

- ①西南季风的影响      ②海陆位置的影响
- ③山地迎风坡的影响    ④东北信风的影响

(3) 印度东北部的乞拉朋齐，平均年降水量达11500多毫米，号称世界“雨极”。想一想，该地区降水极为丰富的主要原因是什么？

### 南亚的气候

南亚大部分地区位于赤道以北和北纬 $30^{\circ}$ 以南，除印度西北部和巴基斯坦南部属热带沙漠气候外，其他大部分地区属热带季风气候。南亚季风气候的形成，与海陆热力性质差异、气压带风带的季节性移动以及青藏高原的地形作用等都有密切关系。根据季风的进退，南亚地区一年之中可分凉、热、雨三季。11月一次年2月，从大陆吹向海洋的东北季风带来晴朗、干燥、凉爽的天气，为凉季。在凉季里气温日较差较大，西北部有一定的气旋雨，印度半岛东岸也有较多的降水。3—5月，随着太阳直射点的北移，气温迅速增高，气候炎热干燥，称为热季。德干高原中部气温达到 $35^{\circ}\text{C}$ ，塔尔沙漠的最高温度曾达 $50^{\circ}\text{C}$ 以上，有时出现沙尘暴。6—10月，由于南亚地区的持续高温，在印度西北部产生热低压，强烈地吸引着由东南信风越过赤道偏转而来的西南季风，从而使西南季风的势力进一步加强。西南季风经过辽阔温暖的热带海洋，饱含水汽，给南亚大部分地区

(4) 西南季风对农业的影响：带来丰沛雨水，是农业生产的主要水源。但西南季风进退时间和强弱程度不一，导致降水的年际变化大，容易发生旱涝灾害，给农业生产造成不同程度的损害。

读下图，填表。



小麦



棉花



水稻



旱涝灾害

| 西南季风的时间变化 | 西南季风的强弱程度 | 灾害 |
|-----------|-----------|----|
| 来得早、退得晚   | 较强        |    |
| 来得晚、退得早   | 较弱        |    |

(5) 南亚主要气候类型及特点是 ( )

- A. 热带雨林气候，全年高温多雨
- B. 热带沙漠气候，全年炎热干燥
- C. 热带草原气候，一年分旱、雨两季
- D. 热带季风气候，一年分热、雨、凉三季

带来丰沛的降水，形成雨季。年降水的90%集中于雨季。雨季来临的时间，半岛西部最早，印度西北部最晚，西南季风的晚来早退是南亚雨量变率大的一个主要原因。10—11月为雨季末期，气温开始逐渐降低，北部一带的气压也逐渐增高，这样海陆间的气压梯度也逐渐变弱，因此西南季风开始退缩，降水随之减少，很快又重新转入凉季。

印度半岛西高止山西侧，东部喜马拉雅山的南侧和阿萨姆地区以及斯里兰卡岛大部，年降水量多在2000毫米以上，为热带雨林区；德干高原大部年降水量为1000~2000毫米，树木为了减少热季的蒸发，形成干季落叶；德干高原内部和印度半岛西北部，年降水量在500~1000毫米之间，多为灌木和草原植被；塔尔沙漠及其周围，雨量很少，为荒漠和半荒漠，仅生长稀疏草本植物和多刺灌木。在北部喜马拉雅山地有高山气候。印度河流域有部分热带沙漠气候分布。

## 4. 宗教与社会

**【问题四】** 南亚既是世界古文明发源地之一，又是佛教、印度教等宗教的发源地。读下图，思考问题。



佛教建筑




佛教艺术



印度教建筑



印度教服饰



伊斯兰教建筑



穆斯林的礼拜

阅读教材相关内容，完成表格。

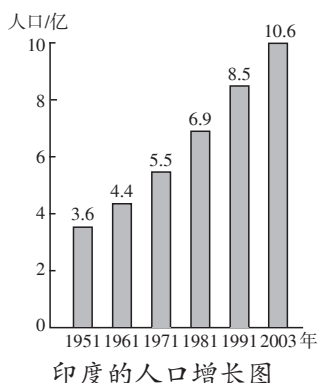
| 宗教   | 流传的国家 |
|------|-------|
| 佛教   |       |
| 印度教  |       |
| 伊斯兰教 |       |

## 南亚地区的主要宗教

**宗教：** 南亚是一个多宗教的地区。南亚地区的主要宗教有印度教、伊斯兰教、佛教、锡克教、基督教等，其中印度教、锡克教、佛教起源于印度。印度教是南亚地区的主要宗教，特别是在印度，80%以上的人口信奉印度教，伊斯兰教是南亚地区的第二大宗教，巴基斯坦、孟加拉国的人口大多信奉伊斯兰教。

## 5. 人口与经济

**【问题五】** 南亚各国都是发展中国家，也是世界人口分布密集的地区之一，长期以来，经济以农业为主。读图，思考问题。



## 南亚的人口与经济

南亚是亚洲和世界人口稠密区之一，居民种族和民族构成较复杂，以白色人种为最多，次为棕色人种和少数黄色人种。

南亚大部分地区地势平坦，土壤肥沃，水热充足，矿产、水力和森林资



拥挤的火车



印度班加罗尔高科技产业园

(1) 说说南亚人口在数量和分布上的特点。

(2) 阅读教材，完成下表。

| 农作物 | 分布 | 与地形、气候的关系 |
|-----|----|-----------|
| 水稻  |    |           |
| 小麦  |    |           |
| 棉花  |    |           |
| 黄麻  |    |           |

(3) 印度是南亚经济发展最快的国家，工业门类齐全。印度的\_\_\_\_技术、生物技术以及\_\_\_\_等高科技工业发展迅速。


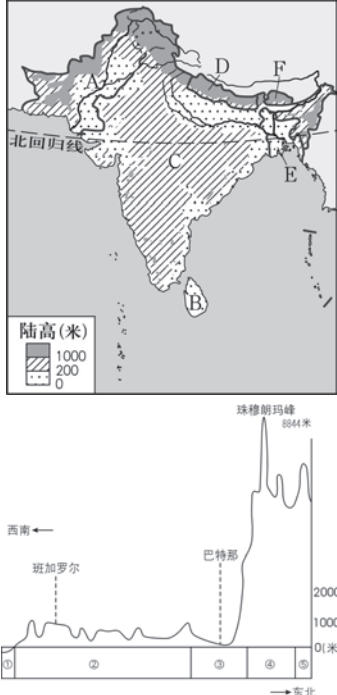
源等较为丰富，具有发展经济的良好条件。农业垦殖指数高达50%，许多农作物播种面积居世界前列。主要农产品有稻米、小麦、棉花、黄麻、茶叶等。棉花、黄麻、茶叶还是南亚地区重要的出口物资。

南亚地区的农作物及其分布受自然条件的影响，具有地区差异。水稻，需水较多，主要分布在印度东北部、半岛的东西两侧沿海地区和孟加拉国西部地区，这些地区为平原，降水丰沛；小麦，耐旱能力较强，分布在德干高原西北部，恒河上游平原地区，这些地区地面起伏和缓，土壤肥沃，降水较少，日照充足；棉花，分布在德干高原西部；茶叶，分布在东北部（布拉马普特拉河两岸的低山），这里属于多雨的气候（湿润）及排水好的坡地；黄麻，分布在地势低平、气候湿热的恒河三角洲；甘蔗，需水、肥、热量大，气候温暖，主要分布在恒河平原地区。

南亚的工业发展以印度为代表，特别是20世纪80年代以来，其电脑软件产业已经成为印度具有相当地位的产业，一直稳定地保持着每年50%的惊人增长速度，现已成为仅次于美国的全球第二大软件出口国。



## 阅读思考

| 案例一   | 问题   |
|---|--|
| <p style="text-align: center; color: blue;"><b>南亚“次大陆”的来历</b></p> <p>位于喜马拉雅山脉以南，亚欧大陆的南延部分。因喜马拉雅山脉的阻隔，使其在地理上形成一个相对独立的单元，但它的面积小于大陆，是南亚的大陆部分。故称南亚次大陆。又因为印度和巴基斯坦是南亚主要的大国，又称印巴次大陆、印度次大陆。</p> <div style="text-align: center;">  <p>南亚地区部分区域示意图</p> </div> | <p style="color: blue;"><b>【问题六】</b> 阅读材料，思考问题。</p> <p>(1) 想一想，南亚和南亚次大陆是什么关系？</p> <p>(2) 说出图中字母、数字所代表的地理事物：<br/>                 A _____ 河， B _____ 河，<br/>                 C _____ 洋， D _____ 海，<br/>                 E _____ 湾， ① _____ 平原，<br/>                 ② _____ 高原。</p>                       |
| 案例二   | 问题   |
| <p><b>材料一：</b> 南亚地形图和南亚地形剖面图。</p> <div style="text-align: center;">  <p>南亚地形剖面图</p> </div>   | <p style="color: blue;"><b>【问题七】</b> 南亚地形可以分为北、中、南三大地区。阅读材料，思考问题。</p> <p>(1) 说出图中字母所代表的国家名称：<br/>                 A _____， B _____，<br/>                 C _____， D _____，<br/>                 E _____， F _____。</p> <p>(2) 说出南亚的主要气候类型。能给南亚带来丰沛降水的是什么季风？</p> <p>(3) 图中数码②代表的是哪个高原？其西部主要种植的经济作物是什么？</p> |

**材料二：**农业生产与自然条件密切相关，南亚的农业以水稻种植为主，主要分布于印度东北部和西部沿海地区、孟加拉国西部。其次为小麦，主要分布于西北部干旱少雨地区。黄麻以恒河下游地区种植面积最广，棉花主要分布于德干高原西部。

(4) ③处河流名称是\_\_\_\_\_，其三角洲盛产\_\_\_\_\_，所处国家是世界上这一经济作物出口最多的国家。

(4) 印度河注入\_\_\_\_\_海。

(5) 描述南亚的地形分布特点。

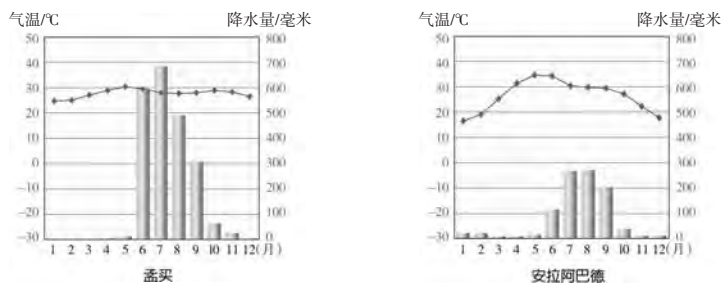
## 实践探究

### 活动一：

**任务：**读图分析

**材料一：**安拉阿巴德是印度北部的一个城市。孟买是印度西岸最大的海港和重要交通枢纽，素有印度“西部门户”之称。

**材料二：**下图示意两城市各月的气温状况和降水季节分配。



**材料三：**南亚气候类型分布图。



问题:

1. 读安拉阿巴德各月的气温状况和降水季节分配图, 回答问题。

(1) 该城市一年中哪几个月气温较高? 为什么?

(2) 为什么该地7—8月气温不是最高?

(3) 该地哪几个月气温低? 为什么?

2. 读孟买各月的气温状况和降水季节分配图, 回答问题。

(1) 孟买各月气温有何特点?

(2) 孟买哪些月降水多? 哪些月降水少? 在降水季节分配上有何特点?

(3) 综合分析, 孟买的气候类型和特点。

3. 比较安拉阿巴德和孟买两地的气温和降水量, 对照教材中的图7-12, 说一说形成两地气候差异的主要原因。

4. 说一说, 南亚的气候类型分布有什么特点?

## 活动二：

**任务：**探究

**材料：**

世界软件中心——印度班加罗尔

印度没有能力制造微电子硬件，决定开发软件——为电脑做“脑”，选择南部城市班加罗尔为电脑软件开发中心。1985年，印度的软件业产值为1000万美元，1991年后每年以50%的速度增长，为美国的三倍以上，其中60%输出到美国。2000年猛增到83亿美元。印度现有软件公司700多家，其中400多家产品供出口，从业人员近百万，印度班加罗尔的软件技术力量雄厚，已成为仅次于美国的“世界软件中心”。

蓬勃发展的软件业正带领神秘而古老的印度走出贫穷、走向世界。

问题：阅读上述材料，请谈一谈你的感想。

## 验收评价

### 一、单项选择题

- 南亚的两个岛国是（ ）
  - 印度和巴基斯坦
  - 孟加拉国和印度
  - 马尔代夫和斯里兰卡
  - 尼泊尔和巴基斯坦
- 下列南亚的国家中，位于内陆山区的是（ ）
  - 尼泊尔
  - 斯里兰卡
  - 马尔代夫
  - 孟加拉国
- 发源于南亚的宗教是（ ）
  - 印度教和伊斯兰教
  - 佛教和印度教
  - 犹太教和基督教
  - 基督教和伊斯兰教
- 巴基斯坦重要的灌溉水源是（ ）
  - 尼罗河
  - 恒河
  - 印度河
  - 湄公河
- 南亚热带季风气候区的雨季发生在（ ）
  - 3—5月
  - 6—10月
  - 10—12月
  - 1—2月
- 印度的棉花主要分布在（ ）
  - 东高止山以东地区

- B. 恒河平原
- C. 喜马拉雅山区
- D. 德干高原西部地区
- 7. 南亚南部的地形是 ( )
- A. 印度河平原
- B. 喜马拉雅山地
- C. 恒河平原
- D. 德干高原
- 8. 分布在印度东北部及西部沿海地区

的主要农作物是 ( )

- A. 水稻
- B. 小麦
- C. 棉花
- D. 黄麻

9. 印度在世界上占有重要地位的产业是 ( )

- A. 钢铁工业
- B. 电脑软件产业
- C. 汽车制造产业
- D. 食品工业

10. 中国春节时, 南亚地区 ( )

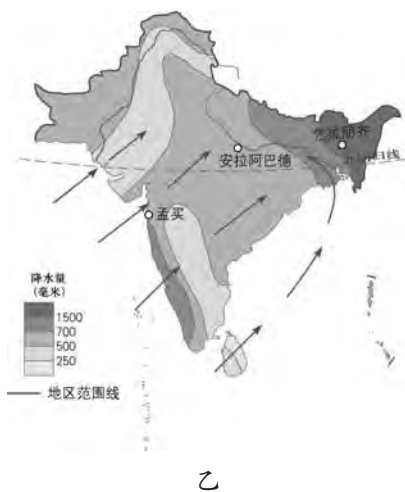
- A. 盛行西南季风
- B. 是雨季
- C. 盛行东北季风
- D. 是旱季

## 二、综合题

11. 读南亚不同季节季风活动示意图, 完成下列问题。



甲



乙

(1) 图甲中箭头表示的是\_\_\_\_月前后的季风活动, 风从\_\_\_\_吹向\_\_\_\_, 称为\_\_\_\_季风。

(2) 图乙中箭头表示的是\_\_\_\_月前后的季风活动, 风从\_\_\_\_吹向\_\_\_\_, 称为\_\_\_\_季风。

(3) 每年的6—10月, 称为\_\_\_\_季, \_\_\_\_\_季风带来大量雨水, 气候特征是\_\_\_\_\_。

12. 想一想, 为什么北方冷空气难以侵入到南亚次大陆?

## 第三节

### 西亚

#### 三维目标

#### 知识与技能

了解西亚的位置和范围；说出西亚的自然环境特征，并分析西亚自然环境对农业生产和生活的影响；掌握西亚石油资源分布、生产、出口的状况，了解其对工农业生产和生活的影响；描述西亚的宗教和富有特色的文化习俗。

#### 过程与方法

运用地图，说明西亚地理位置的重要性，在图中填注西亚的国家及其重要的海域、海峡等；运用地图和资料，说明西亚石油资源的分布特点、生产、出口状况等情况；运用图表信息，分析归纳西亚自然环境特征。

#### 情感态度和价值观

初步形成全球意识，正确看待和使用资源，逐步形成可持续发展的意识；从西亚最具特色的节水农业中，获取适宜我国农业发展的经验；西亚是一个战乱纷争的地方，让学生理解巴以冲突的原因，培养学生热爱和平的情感。

#### 学习指导

1. 运用地图资料，说明区域的位置和范围，分析其地理位置的重要性。
2. 通过地图和资料，指出某一地区对当地或世界经济发展影响最大的一种或几种资源，说明其地位、分布规律、生产、出口的状况。
3. 运用图表资料，分析归纳西亚自然环境特征对当地农业生产的影响。
4. 运用资料，描述西亚地区富有特色的文化习俗对生产、生活的影响。

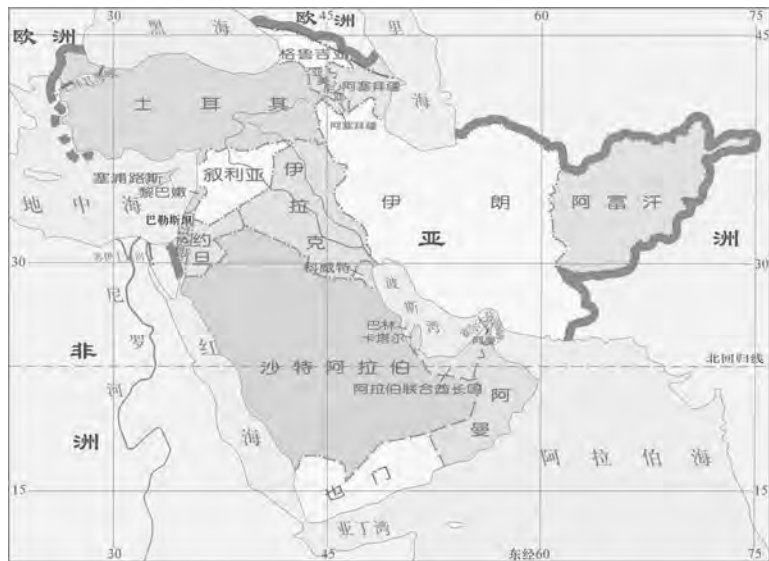
## 自主研习

## 知识点

## 说明

## 1. 五海三洲之地

【问题一】 西亚地处亚、非、欧三大洲的交界地带，介于阿拉伯海、红海、地中海、黑海和里海（内陆湖）之间，被称为“五海三洲之地”。读下图，思考问题。



西亚国家和地区分布



古代丝绸之路示意

(1) 找出西亚的主要国家：阿富汗、伊朗、伊拉克、叙利亚、科威特、沙特阿拉伯、阿拉伯联合酋长国、土耳其、以色列、约旦、黎巴嫩、阿曼、也门等国家。

(2) 找出亚洲、欧洲、非洲、里海、黑海、地中海、红海、阿拉伯海。

(3) 找出土耳其海峡、苏伊士运河、霍尔木兹海峡，完成下表。

**西亚**，又称西南亚。位于亚、非、欧三洲交界地带，在阿拉伯海、红海、地中海、黑海和里海（内陆湖泊）之间，联系欧洲、亚洲、非洲，沟通印度洋和大西洋。包括沙特阿拉伯、也门、阿曼、阿联酋、卡塔尔、巴林、科威特、以色列、巴勒斯坦、黎巴嫩、约旦、叙利亚、塞浦路斯、土耳其、阿塞拜疆、格鲁吉亚、伊拉克、伊朗、阿富汗等国家。

自古以来，西亚就是东、西方交通的要道。古代，著名的“丝绸之路”横贯全区。现代，西亚除西面有陆路和国际航空线连接三大洲外，沟通地中海和红海的苏伊士运河也连接了大西洋和印度洋。西北面的海峡则是黑海通往地中海的唯一出海口。南面的波斯湾是世界石油运输的主要航道，而霍尔木兹海峡、曼德海峡是海上石油运输线上的“咽喉”。因此，西亚处在联系三大洲，沟通两洋五海

| 海峡（运河） | 沟通的海洋 |
|--------|-------|
| 土耳其海峡  |       |
| 霍尔木兹海峡 |       |
| 苏伊士运河  |       |

(4) 说出印度洋通往大西洋的最近通道所经过的海、运河和海峡。想想，还有连通印度洋和大西洋的航线吗？

(5) 总结：西亚地理位置的重要性——五海三洲之地。

①自古以来就是东西方交通要道：古代的“\_\_\_\_\_”。

②东西方的现代海、陆、空交通要冲。

③两个交通要道和战略要地：\_\_\_\_\_、土耳其海峡。

## 2. 干旱环境中的农牧业

**【问题二】** 西亚气候炎热干燥，沙漠面积广大。在干旱环境条件下，西亚的畜牧业和灌溉农业别具特色。读下图，思考问题。



亚洲气候类型分布示意图



两河流域的沙漠绿洲



土耳其的手纺羊毛毡

的现代陆海空交通枢纽地带，战略地位十分重要。也是世界上局势最动荡的地区之一。

### 西亚的干旱环境

北回归线从西亚中部穿过，大部分地域处于副热带高压和干燥的东北信风控制之下，多属热带和亚热带沙漠气候。地中海东岸为冬雨夏干的地中海气候。阿拉伯半岛等地降水稀少，是世界著名的干燥气候区。受降水和地形的制约，本区内陆流域及无流区面积广大，地表径流贫乏，河网稀疏。除幼发拉底河与底格里斯河外，多为短小河流，大部分发源于高原边缘山地，靠冰川融雪水补给，河流水量较小，季节变化显著。

### 西亚的农牧业

西亚农业开发历史悠久，受气候影响，灌溉农业地位重要。耕地集中在河谷和绿洲地带，山地、





以色列的节水农业



枣椰树

高原的草原牧场以畜牧业为主。农产品自给率低，成为世界农牧产品主要进口区之一。但干旱地区光照强，气温日较差大，白天光合作用强，晚上呼吸作用弱，有利于营养物质的积累。主要粮食作物有小麦、大麦、豆类等。经济作物有棉花、烟草、甜菜等。畜产品和干鲜果品如伊拉克的椰枣，土耳其的安卡拉羊毛、阿富汗的紫羊羔皮、伊朗和阿富汗的地毯等，都是重要的出口产品。

(1) 说出西亚的气候类型。

(2) 阿拉伯半岛上，为什么一些国家被称为“无流之国”？

(3) 西亚干旱的自然环境给农牧业带来什么影响？

① 不适宜大面积发展种植业，但是可以发展\_\_\_\_\_业。

② 由于降水稀少，农作物需要引水灌溉，农业多分布在\_\_\_\_\_和\_\_\_\_\_。

(4) 说出下图代表的特色农产品的主要生产国。



安卡拉羊



紫羔羊



羊毛地毯

### 3. 世界石油宝库

**【问题三】** 西亚是世界上石油储量最为丰富、石油产量和输出量最多的地区。读下图，思考问题。



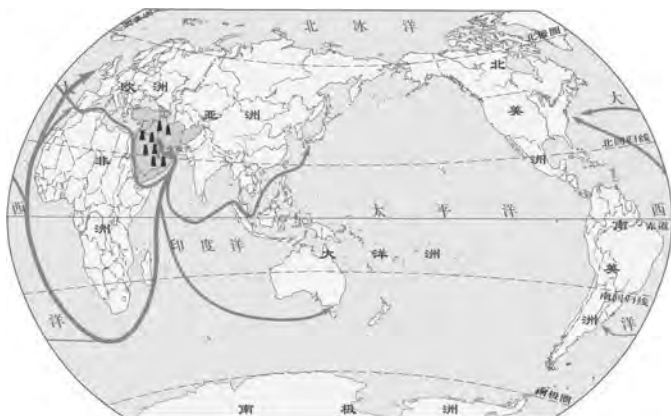
西亚和北非的石油产区



卡塔尔的采油设施



波斯湾上的石油钻井平台



西亚石油海上运输线路



西亚的炼油厂



超大型油田

### 世界最大的石油宝库

西亚地区以波斯湾为中心形成一个巨大的石油带，探明储量约占世界石油总探明储量的一半以上，产量通常占世界石油总产量的1/4，出口约占世界出口总量的3/5，西亚的石油具有储量大、埋藏浅、油质好、易开采的特点，主要石油生产国是沙特阿拉伯、伊朗、伊拉克、科威特和阿拉伯联合酋长国等。西亚石油主要出口西欧、美国和日本等国家和地区。大部分由波斯湾的港口装上油轮，经过非洲南端的好望角，或经过红海、苏伊士运河、地中海运往西欧和北美；往东经马六甲海峡运往日本。石油作为世界主要能源，它不仅影响着世界经济的发展，而且影响着世界政治、军事和环境等各个领域。



红海的石油输出港口



超大型油轮

(1) 西亚石油资源丰富，探明储量约占世界石油总储量的一半以上，请说出西亚石油的主要分布区。

(2) 西亚石油产量通常占世界总产量的1/4，你知道西亚有哪些重要的产油国家？

(3) 找出从波斯湾到日本的海上石油运输航线，说出这条航线经过的主要大洋和海峡。

(4) 找出从波斯湾到欧洲西部和美国的两条海上石油运输航线，说出这两条航线经过的主要大洋和海峡。想想，这两条航线中，哪条航程较短？哪条运量最大？

#### 4. 阿拉伯国家

【问题四】西亚是世界上阿拉伯人的主要聚居地区之一。读下图，思考问题。



西亚的居民



三教圣地——耶路撒冷

**阿拉伯国家**一般指以阿拉伯民族为主的国家。他们有统一的语言——阿拉伯语，有统一的文化和风俗习惯，绝大部分人信奉伊斯兰教。有些国家虽然不是以阿拉伯民族为主体，但长期以来与阿拉伯国家建立了紧密的政治、经济、文化、宗教联系，并加入了阿拉伯国家联



麦加的大清真寺

- (1) 西亚的居民是什么人种？讲哪种语言？
- (2) 西亚居民主要信仰什么宗教？伊斯兰教的圣地是哪里？
- (3) 西亚是哪些宗教的发源地？这些宗教的共同圣城是哪里？

盟，因此也被称为阿拉伯国家。阿拉伯国家和地区共有 22 个，分为西亚 12 国和北非 10 国，包括阿拉伯联合酋长国、阿曼、也门、沙特阿拉伯、科威特、巴林、卡塔尔、伊拉克、约旦、黎巴嫩、叙利亚、巴勒斯坦、埃及、利比亚、突尼斯、阿尔及利亚、摩洛哥、毛里塔尼亚、北苏丹、索马里、吉布提、科摩罗，总面积约 1400 多万千米<sup>2</sup>，人口总数约 3.39 亿。

## 阅读思考

### 案例一

#### 世界石油宝库

西亚是世界上石油储量最为丰富、石油产量和输出量最多的地区。西亚石油的探明储量约占世界石油总探明储量的一半以上，石油产量通常占世界总产量的 1/4。西亚各国所产石油的 90% 供出口，出口量占世界石油出口量的 3/5。

目前，波斯湾地区探明的油田近 500 个，其中包括 20 多个特大型的油田。沙特阿拉伯的加瓦尔油田和科威特的布尔甘油田，石油储量都超过了 100 亿吨，分别为世界第一大和第二大油田。

### 问题

**【问题五】** 阅读图表材料，思考下列问题。

(1) 说一说，西亚的石油在世界上的地位。

(2) 西亚石油资源有哪些特点？

(3) 想想，西亚的石油为什么大量出口？

西亚绝大多数油井能够自喷，而美国油井自喷率仅为6%。西亚原油生产成本只相当于美国的1/7。

西亚的石油质量较好，属于中轻质低蜡石油，便于运输和提炼。

#### 西亚部分国家石油储量（2009年）

| 国家       | 石油储量/亿桶 | 居世界位次 |
|----------|---------|-------|
| 沙特阿拉伯    | 2646    | 1     |
| 伊朗       | 1370    | 2     |
| 伊拉克      | 1150    | 3     |
| 科威特      | 1015    | 4     |
| 阿拉伯联合酋长国 | 978     | 5     |

（4）结合教材内容，说明“欧佩克”组织成立的理由。

（5）议一议，石油属于非可再生资源，如果西亚的石油资源开采完了，西亚国家会寻找怎样的经济发展出路？

### 案例二

### 问题

**材料：** 日记一则

2014年4月10日 晴空万里

我来到西亚著名的灌溉农业区美索不达米亚平原，发现这里地势平坦，耕地广阔，看来西亚的水资源充足，农业发达。这里还有丰富的黑色金子——煤炭资源，主要分布在波斯湾及其沿岸地区。

我还去了五海中最大的海——里海，世界陆地的最低点——死海。临走我买了土耳其的特产——枣椰，在世界著名的伊拉克的麦加清真寺前拍了照片。

**【问题六】** 请阅读贝贝在西亚旅游时写的一则日记，里面出现了几处错误，请你帮着找出来：

## 实践探究

### 活动一：

**任务：**填图训练

**内容：**

填注：亚洲、欧洲、非洲，阿拉伯海、红海、地中海、黑海、里海，阿富汗、伊朗、伊拉克、科威特、沙特阿拉伯、土耳其、叙利亚，苏伊士运河、霍尔木兹海峡、波斯湾、土耳其海峡、亚丁湾。



### 活动二：

**任务：**探究

**材料：**以色列的灌溉农业

以色列一半以上的地区属于典型的干旱和半干旱气候，大部分土地被丘陵、沙地所覆盖，地中海的沿岸狭长地带和几个内陆山谷是全国仅有的几处土地肥沃的地区，森林覆盖率为 5.7%。由于降雨稀少，一半的农耕地必须使用灌溉供水才能种植作物。多样的气候条件、季节温度，不利的特殊自然环境，以及发展经济的紧迫要求，促使以色列不得不自行开发资源，挖掘潜力，因地制宜地发展农业生产，走一条独特的科技兴农发展之路——开发和实施了先进的农业节水灌溉方法。

(1) 加大使用循环水的力度。以色列把工业与城市生活产生的污水，集中进行净化处理后二次用于农业生产灌溉。

(2) 不断增建集水设施，以最大限度地收集和贮存降雨季节的天然降水资源，在农耕时用于生产种植。

(3) 推广普及使用压力灌溉技术和方法。压力灌溉包括喷灌和滴灌两种方式。

(4) ……

以色列正是依靠这一整套节水制度与措施，在河谷地区有了发达的农业，在沙漠中建起了片片绿洲，使以色列的农业跻身于发达国家的行列。



先进的农业滴灌设备



农业灌溉网



农业喷灌

### 问题思考：

1. 以色列为什么要发展节水农业？
2. 结合材料，说出以色列发展节水农业的措施和办法。
3. 我国也是缺水的地区，我们能从以色列的节水灌溉农业的生产经验中得到哪些启示？

## 验收评价

### 一、单项选择题

1. 西亚被称为“五海三洲之地”，其周围的“五海”中不属于海洋的是（ ）

- A. 红海
- B. 里海
- C. 地中海
- D. 阿拉伯海

2. 西亚地区发展农业最缺乏的是（ ）

- A. 土地资源
- B. 水资源
- C. 光热资源
- D. 劳动力资源

3. 耶路撒冷位于巴勒斯坦中部，是一座具有浓厚宗教色彩的城市，没有把它奉为圣城的宗教是（ ）

- A. 伊斯兰教
- B. 犹太教
- C. 基督教
- D. 佛教

4. 目前，世界石油储量最大、生产和输出石油最多的地区是（ ）

- A. 西亚
- B. 南亚
- C. 拉美
- D. 西欧

5. 西亚著名的灌溉农业区是 ( )

- A. 恒河平原
- B. 美索不达米亚平原
- C. 印度河平原
- D. 图兰平原

6. 西亚地区常为了一条河流、一个湖泊的水资源分配, 导致相邻的国家之间矛盾重重, 甚至引发战争, 主要是因为这里绝大部分地区的气候是 ( )

- A. 温带草原气候
- B. 温带沙漠气候
- C. 热带草原气候
- D. 热带沙漠气候

7. 关于西亚石油的叙述, 不正确的是 ( )

A. 西亚地区的石油主要分布在波斯湾及其沿岸地区

B. 90%输往西欧、美国、日本等工业发达地区

C. 西亚石油的探明储量占世界一半以上, 产量占世界产量的一半

D. 西亚最大石油输出路线要经过非洲的好望角

8. 下列地区中宜建海水淡化厂的是 ( )

- A. 波斯湾沿岸
- B. 马来群岛
- C. 塔克拉玛干沙漠
- D. 撒哈拉沙漠

9. 西亚大部分居民信仰的宗教是 ( )

- A. 基督教
- B. 犹太教
- C. 伊斯兰教
- D. 佛教

10. 被称为“西方的生命线”的是 ( )

- A. 霍尔木兹海峡
- B. 马六甲海峡
- C. 土耳其海峡
- D. 苏伊士运河

## 二、综合题

11. 阅读材料, 完成下列问题。

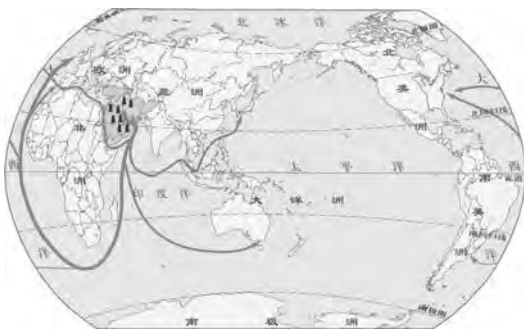
上海世博会沙特馆备受欢迎, 展馆形似一艘“月亮船”, 地面和屋顶栽种的150棵树形成一个树影婆娑、沙漠风情浓郁的空中花园。



(1) 材料中“地面和屋顶栽种的150棵树”, 树种最有可能是\_\_\_\_\_树。

(2) 被称为沙特阿拉伯城市发展的安身立命之本的资源是什么?

12. 读西亚石油产区图, 完成下列问题。



(1) 图中石油输出地区是\_\_\_\_\_。

(2) 西亚重要的产油国有哪几个? 其中唯一的非阿拉伯国家是哪个?

(3) 西亚的石油主要输往哪些国家和地区? 说出世界石油输出量最大的航线。



## 第四节

# 欧洲西部

### 三维目标

#### 知识与技能

说出欧洲西部的位置和范围；了解欧洲西部的经济概况，归纳欧洲西部的工业特色、农业条件和交通运输特征等；了解欧洲西部主要的旅游资源和旅游景点及其分布，分析旅游业发达的原因。

#### 过程与方法

运用地图说出地理位置，识别主要的国家和地区；运用案例分析说明本地区工农业发达的原因；运用风光图片，展示本地区丰富的自然和人文景观，分析旅游业发展的优势条件。

#### 情感态度和价值观

通过了解欧洲西部的自然景观、人文景观，激发学生探究性学习的兴趣，开阔学生的眼界。

### 学习指导

1. 利用地图，找出欧洲西部的位置和范围，描述该地区地理位置的特点。
2. 根据地理要素之间的相互影响，分析欧洲西部气候、地形和农业生产活动之间的关系。
3. 运用资料分析欧洲西部畜牧业发达的原因。
4. 举例说出欧洲西部发展旅游业的优势。

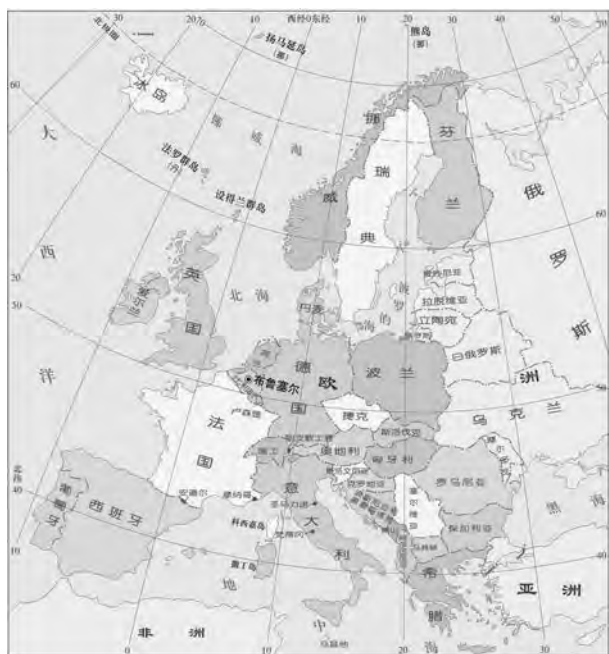
## 自主研习

## 知识点

## 说明

## 1. 位置与范围

【问题一】欧洲西部是指欧洲的西半部，面积不大，但国家数目众多，人口稠密。按地理位置，本区习惯上又可分为北欧、西欧、南欧和中欧四部分。从经济发展水平看，这些国家大多数属于发达国家。读下图，思考问题。



欧洲西部国家和地区分布

(1) 找出下列国家：意大利、法国、西班牙、瑞士、奥地利、德国、荷兰、比利时、卢森堡、丹麦、英国、爱尔兰、芬兰、瑞典、挪威、希腊、匈牙利、葡萄牙等。

(2) 找出下面6个“袖珍国”，并说明它们的地理位置的特点。

梵蒂冈、圣马力诺、列支敦士登、马耳他、安道尔、摩纳哥

(3) 找出欧洲西部相邻的海域。

(4) 说出欧洲西部的纬度位置特点。

**欧洲西部**，在东半球的西北部，亚欧大陆的西部。西临大西洋、北临北冰洋、南到地中海、黑海。大部分地区位于北纬 $40^{\circ}\sim 60^{\circ}$ ，属于北温带。本区面积约500万 $\text{km}^2$ ，占欧洲的一半左右。包括北欧、南欧、西欧、中欧。欧洲西部有30多个国家，国家众多，但是面积都不大，其中有世界上面积最小的国家——梵蒂冈，它的面积还不到 $0.5\text{km}^2$ ，人口只有约798人。还有一些面积很小的国家如圣马力诺、列支敦士登、安道尔、摩纳哥等，被称为“袖珍国”。

## 2. 雄厚的经济实力

**【问题二】** 欧洲西部是世界资本主义发展最早的地方，也是近代科学技术发展最早的地区，是当今世界经济、科技最发达的地区之一。读下图，思考问题。



欧洲空中客车公司法国分厂



法国香水



瑞士手表



法国葡萄酒



德国的汽车生产



荷兰的园艺业



英国的乳牛业

### 欧洲西部的工业

**地位：**欧洲西部是工业革命的发源地，也是世界上工业发达的地区之一。

**特点：**欧洲西部的工业以制造业为主。（制造业是指把原料进行加工，制成各种各样产品的部门）

**分布：**本区工业中心多，分布密集。自英国到波兰境内，自斯堪的纳维亚半岛到意大利，形成了世界著名的“十”字形工业密集地带。

**主要工业区：**法国巴黎盆地工业区，德国鲁尔工业区，英格兰中部工业区，伦敦地区工业区。

### 欧洲西部的农牧业

欧洲西部的平原地形适宜发展畜牧业和种植业。由于温带海洋性气候温暖湿润，西欧适宜多汁牧草生长，因此乳畜业发达。大多数地方发展混合农业，种植小麦的同时发展乳畜业，形成互补。法国是欧洲西部农业发达的国家。（欧洲西部的人们称牧草为“绿色金子”）

英国畜牧业占全部农业产值的70%。法国和德国农业产值中，畜牧业比重也略高于种植业。荷兰、丹麦等国是世界著名的乳畜大国。其中丹麦的

(1) 结合教材相关内容，描述欧洲经济在世界上的地位。

(2) 说出本区主要的工业大国和工业特征。

(3) 欧洲西部发达交通运输网络包括铁路、公路、\_\_\_\_、内河航运和\_\_\_\_运输等。

(4) 认识欧洲部分国家的特色产业，把下列内容连线。

- |       |                |
|-------|----------------|
| A. 瑞士 | ①花卉            |
| B. 瑞典 | ②欧洲的牧场和食品库     |
| C. 丹麦 | ③钟表王国          |
| D. 挪威 | ④造船业、汽车和机器制造发达 |
| E. 荷兰 | ⑤海洋渔业          |

乳畜产品在出口总额中占30%以上，火腿、熏肉、香肠、乳酪是主要出口产品。

### 3. 繁荣的旅游业

**【问题三】** 欧洲西部的自然和人文旅游资源异常丰富。目前是国际旅游业最发达的地区，每年接待的国际游客数量和旅游外汇收入均居世界前列。读下图，思考问题。



伦敦大本钟



水城威尼斯



巴黎凯旋门



阿尔卑斯山滑雪



峡湾风光



帕特农神庙

(1) 图中所示的旅游资源分布在哪些国家？你还能说出欧洲西部地区哪些美丽的旅游景点？

(2) 试分析欧洲西部旅游业发达的原因。

#### 欧洲西部的旅游业：

欧洲西部的自然条件多样。南部地中海沿岸，夏季阳光明媚，海滨沙滩风景优美；北部峡湾曲折幽深，引人入胜；中部高耸的阿尔卑斯山，是人们登山和滑雪的好地方。历史上，欧洲人民创造了灿烂的文化。这个地区有不少古建筑遗址、文化艺术城市和博物馆，再加上各地独特的风土人情，为旅游业的发展提供了良好的条件。许多国家的旅游业收入已成为国民收入的主要来源之一。

## 阅读思考

## 案例

## 欧洲联盟

欧洲联盟（EU），是当今世界区域一体化程度最高的政治、经济组织，其前身是欧洲共同体。1993年《欧洲联盟条约》生效，欧共体演化为欧盟。现有25个成员国。成员国之间基本实现了商品、人员、资本、服务等自由流通。欧盟的宗旨是通过建立无边界的空间，加强经济社会的协调发展，建立最终实行统一货币的经济货币联盟，促进成员国经济社会的均衡发展。

当今世界呈现“一超多极”的经济发展状况。美国是超级大国，日本是经济强国，欧盟以联合的优势其生产总值超过了美、日。在欧洲西部对外贸易中，出口大于进口，而且出口量和进口量均大于美国，与美、日呈三足鼎立之势，在世界经济领域和国际政治舞台上发挥着重要的作用。对于欧洲西部，合则受益，合是必然。



欧洲货币——欧元

## 问题

**【问题四】** 欧盟，是在欧共同体基础上发展而来的国际组织。

(1) 说出建立欧洲联盟的理由。

(2) 想一想，欧盟建立的基础是什么？

(3) 议一议，欧盟建立的结果是什么？

## 欧洲西部的乳畜业

乳畜业的产品主要有牛奶及其制品，如奶粉、黄油和奶酪。市场和饲料供应是影响乳畜业的两个重要因素。欧洲西部的温带海洋性气候区，气候温凉、潮湿，多雨多雾，日照较少，有利于多汁牧草的生产。由于独特的自然和社会环境，欧洲西部成为世界上乳畜业发达的地区。



乳畜业生产、消费链示意

**【问题五】** 欧洲的乳畜业在国家经济中所占比重较小，但集约化程度高，比较发达。

(1) 说出欧洲西部发展乳畜业有利的自然条件。

(2) 议一议，欧洲西部乳畜业发达的社会因素有哪些？

## 实践探究

### 活动一：

**任务：**读图所得

**内容：**读欧洲政区示意图，说出数字代表的国家名称。



### 活动二：

**任务：**旅游活动

**内容：**

读欧洲西部图。图中数字所代表的都是著名的旅游胜地，若按下列要求进行旅游活动，应该选择图中数字中的哪一地点？

- (1) 乘船游览峡湾并观看午夜太阳，应选择\_\_\_\_\_处。
- (2) 参观埃菲尔铁塔，访问罗浮宫，应选择\_\_\_\_\_处。
- (3) 在音乐之都欣赏盛大的音乐会，应选择\_\_\_\_\_处。
- (4) 在地中海沙滩上享受灿烂的阳光后，再去观看斗牛比赛，应选择\_\_\_\_\_处。
- (5) 游古城威尼斯，参观罗马古迹，应选择\_\_\_\_\_处。



## 验收评价

### 一、单项选择题

1. 下列关于欧洲西部的说法，正确的是（ ）

- A. 欧洲西部是指欧洲的西北部
- B. 欧洲西部就是平时人们所说的西欧国家
- C. 欧洲西部都是发达国家
- D. 欧洲西部是世界人口稀疏区

2. 能看到下图情景的国家是（ ）



- A. 挪威
- B. 法国
- C. 瑞典
- D. 德国

3. 欧洲西部有一个世界上一体化程度最高的区域政治、经济集团组织是（ ）

- A. 北约
- B. 欧盟
- C. 华约
- D. 欧佩克

4. 有关欧洲西部经济发展的叙述不正确的是（ ）

A. 从经济发展水平上看，大多数国家属于发达国家

B. 农业生产水平高，在经济中所占比重很大

C. 德国、英国、意大利和法国等国家工业部门齐全，综合实力雄厚

D. 旅游资源丰富，旅游业发达

5. “欧洲的牧场和食品库”是指（ ）

- A. 法国
- B. 英国
- C. 德国
- D. 丹麦

6. 导致欧洲西部畜牧业发达的主要自然因素是（ ）

- A. 终年温和湿润的气候
- B. 平原丘陵为主的地形
- C. 发达的内河航运
- D. 悠闲的生活习惯

7. 闻名世界的“钟表王国”是（ ）

- A. 德国
- B. 法国
- C. 瑞士
- D. 奥地利

8. 欧洲西部六个“袖珍国”的经济收入主要依靠（ ）

- A. 工矿业
- B. 农牧业
- C. 旅游业
- D. 加工业

9. 有“音乐之都”美誉的城市是（ ）

- A. 罗马
- B. 威尼斯
- C. 巴黎
- D. 维也纳

10. 荷兰的特色产业是（ ）

- A. 发达的海洋渔业
- B. 驰名世界的郁金香花卉种植
- C. 优质钢材的冶炼
- D. 行销世界的畜牧业产品

### 二、综合题

11. 标出下列图片的名称及所在国家。



A



B



C



D

12. 读欧洲西部图，回答问题。



- (1) 图中A是\_\_\_\_\_海，它通过\_\_\_\_\_运河与印度洋相通。
- (2) 挪威沿海幽深曲折的峡湾是\_\_\_\_\_作用的产物。
- (3) 下列关于欧洲西部的叙述，不正确的是（ ）
- A. 欧洲西部的全部国家都加入欧洲联盟
  - B. 绝大部分是发达国家
  - C. 欧洲西部的面积占欧洲的一半左右
  - D. 这里工业发达



## 第五节

# 北极地区和南极地区

### 三维目标

#### 知识与技能

说出两极地区的位置、范围；描述两极地区的自然环境特征和自然资源状况；分析北冰洋和南极洲在交通上的战略地位和意义；了解两极地区科学考察的现状，认识两极地区成为科学研究基地的价值以及加强环境保护的意义。

#### 过程与方法

运用地图、景观图等相关资料，总结归纳出两极地区的环境特点；运用资料，分析两极地区的气候特点和成因，培养分析问题的能力；运用实例，说明两极地区科学考察的现状，分析和平利用两极地区资源的前景。

#### 情感态度和价值观

理解人类对两极地区的科学考察和和平利用两极地区资源的前景；加强保护两极地区的环境意识；通过实例，让学生感受到科学家热爱科学，不畏艰险，勇于探索的精神，并增强他们保护两极地区环境的意识和热爱祖国的情感。

### 学习指导

1. 读图，说明两极地区的地理位置和范围，分析两极地区的交通战略意义。
2. 运用两极为中心的地图，利用经纬网辨别方向和周围的环境。
3. 运用气温图，比较分析两极地区自然环境的差异。
4. 运用图片等相关资料，总结、归纳两极地区的自然环境特点，培养学生从图片中提取地理信息的能力。

## 自主研习

## 知识点

## 说明

## 1. 冰雪世界

【问题一】 北极地区是指北极圈以内的地区，包括北冰洋、欧洲北部、亚洲北部、北美洲北部及一些岛屿。读下图，思考问题。



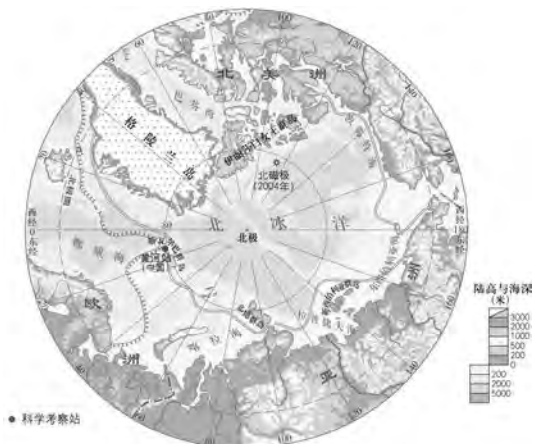
北冰洋



因纽特人的冰屋



北极植被



北极地区

(1) 找出北冰洋，说出北冰洋的纬度位置特点，指出北冰洋周围的大洲。

(2) 找到北极圈，说出北极地区的海陆分布。想想，站在北极点上，四周是什么方向？

## 北极地区

经纬度位置：北极圈以北，高纬度地区；跨360个经度。

海陆位置：周围有亚洲、欧洲和北美洲，与太平洋（经白令海峡）、大西洋相通。

北极地区气候寒冷，最冷月平均气温可达 $-40^{\circ}\text{C}$  ~  $-20^{\circ}\text{C}$ 。在西伯利亚观测到的历史最低温度为 $-70^{\circ}\text{C}$ 。北极点的历史最低气温为 $-59^{\circ}\text{C}$ 。

北极地区的多数地区为冰雪覆盖，冬季冰雪覆盖面积为73%，夏季为53%。北冰洋上浮冰的平均厚度为3米。

## 南极地区

经纬度位置：南极圈以南，高纬度地区；跨360个经度。

海陆位置：与

(3) 说出长期生活在北极地区的居民。

(4) 北极地区资源丰富，有丰富的淡水资源，\_\_\_\_\_和\_\_\_\_\_、金属、非金属等矿产资源储量可观。

(5) 归纳北冰洋突出的地理特征。


**【问题二】** 南极地区是指南极大陆及其沿海岛屿和陆缘冰，还包括南太平洋、南大西洋和南印度洋的一部分。读下图，思考问题。

南美洲、非洲和大洋洲隔海（太平洋、印度洋、大西洋）相望。

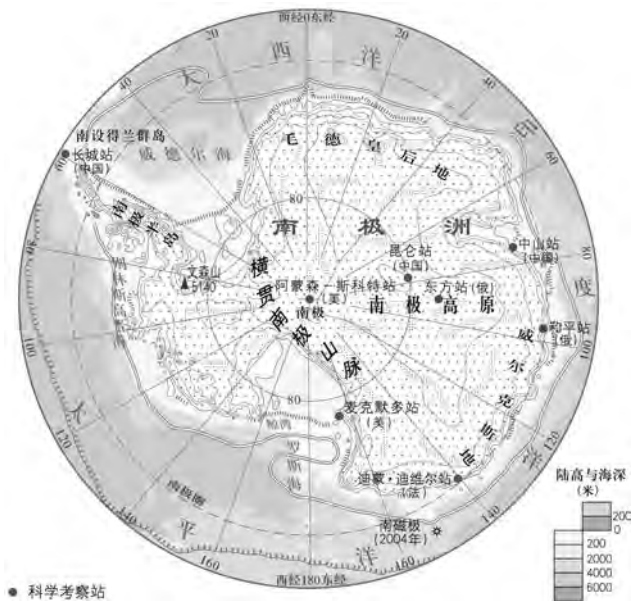
南极洲面积约1400万千米<sup>2</sup>，平均海拔2350米，是世界上平均海拔最高的一个洲。南极洲98%的陆地为冰雪所覆盖，冰层平均厚度达1720米。



南极企鹅



南极冰川



南极地区

(1) 读图，找到南极圈。南极圈以南，中心位置是\_\_\_\_\_大陆，周围被太平洋、\_\_\_\_\_洋、\_\_\_\_\_洋环绕。（按自西向东方向）。

(2) 站在南极点上，前后左右都是\_\_\_\_\_方。

## 2. 独特的野生动物

**【问题三】** 人类对极地地区的影响日益广泛，大批极地野生动物遭到残酷的猎杀。保护极地的野生动物就是保护极地的生态环境。读图，思考问题。



北极熊



海象



海豹



北极狐

**南极地区的生物** 受气候的影响，集中在沿海地带及周围海域，主要的生物资源有磷虾、鲸、海豹以及企鹅等。

**北极地区** 则有北极熊、北极狐、海象等。

(1) 北极地区和南极地区各有哪些代表性的野生动物？

(2) 极地动物一般都有哪些特点？想一想，它们怎样适应严酷的自然环境？

(3) 到极地的人们，有下列做法，你认为正确吗？

① 为保护极地科考人员的人身安全，对所遇到的北极熊应予以猎杀。

② 鲸、海豹和企鹅以磷虾为食，在南极地区每年有计划的捕杀一部分鲸、海豹和企鹅，以保护那里的磷虾资源。

### 3. 极地探险和科学考察

**【问题四】** 极地地区原始的自然环境、奇特的自然景象，一直成为科研领域最广阔天然实验室。迄今为止，已有30多个国家在极地建立了一系列科学考察站。读下图，思考问题。



冰上作业



气象观测



中国南极中山站



中国北极黄河科考站

(1) 极地地区为科学家进行气象、冰川、地质、海洋生物等科学的研究提供了天然的空间，是人类研究地球环境的“\_\_\_\_\_”。

(2) 中国在两极地区建立的科学考察站有：

- ①1985年在南极\_\_\_\_\_岛上建立了第一个南极考察站\_\_\_\_\_。
- ②1989年在东南极大陆沿海，建立了第二个南极考察站\_\_\_\_\_。
- ③2004年在挪威斯瓦尔巴群岛，建立了第一个北极考察站\_\_\_\_\_。
- ④2009年在南极冰盖最高点——冰穹A地区，建立了南极第三个考察站\_\_\_\_\_。

(3) 想一想，为什么我国在南极建考察站都选择在2月份？

#### 北极地区的资源

北冰洋蕴藏着丰富的石油和天然气，海底分布有锰结核以及一些金属矿等。沿岸栖息着无数的海洋生物。

#### 南极地区的资源

**淡水资源：**体积占冰川体积的90%以上，是世界上淡水资源最丰富的大洲，周围海洋上多冰山。

**矿产资源：**煤（维多利亚地）、铁（印度洋沿岸）储量最丰富。

**生物资源：**磷虾、鲸、海豹、企鹅。

**最好考察时间：**每年9月一次年3月，是当地的极昼、暖季。

极地地区原始的自然环境，为科学家进行气象、冰川、地质、海洋、生物等学科的科学的研究，提供了领域最为广阔天然实验室。

## 阅读思考

## 案例

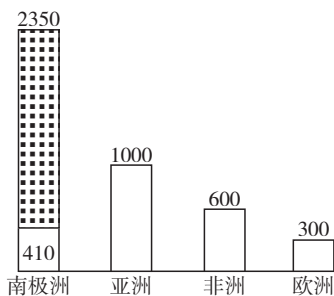
**材料一：**南极地区的气候。

大部分地区年平均气温在 $-25^{\circ}\text{C}$ 以下，极端气温达 $-88^{\circ}\text{C}$ 以下；

大部分地区年平均降水量为55毫米以下，降水量最少的地方不足5毫米；

大部分地区的年平均风速为 $17\sim 18$ 米/秒，最大风速可达100米/秒。

**材料二：**几个大洲的平均海拔高度比较。



几个大洲的平均海拔高度比较图

南极大陆平均海拔2350米，为七大洲中平均海拔最高的一洲。冰雪厚度2000多米，素有“冰雪高原”之称。南极大陆的冰，体积占世界总体积的90%以上。如全部融化，世界洋面将升高 $50\sim 70$ 米。

**材料三：**北极地区寒冷的自然景观

①地貌：北极地区以海洋为主体，多数地区冰雪覆盖，浮冰广布。北极点附近是常年不化的冰盖，永久性积雪主要分布在格陵兰岛的内部。

②气候：北极地区冬季寒冷而漫长，夏季温暖而短促，气候严寒，干燥。有极昼、极夜和极光现象。北极地区主要是极地苔原气候。

③植物：植被以地衣、苔藓为主。

④动物：主要代表性动物有北极熊、北极狐、驯鹿等。北极熊素有“冰海霸王”之称，是北冰洋的象征。

## 问题

**【问题五】**阅读材料，思考下面的问题。

(1) 依据材料一，概括南极地区的气候特点。

(2) 分析材料一和材料三，说说极地气候有什么共同特征。

(3) 北极地区和南极地区相比，哪里更冷一些？试着分析原因。

(4) 有人说：“南极大陆是白色荒漠，也是世界风极。”你认为对吗？

(5) 南极洲降水很少，为什么会形成巨厚的冰层？

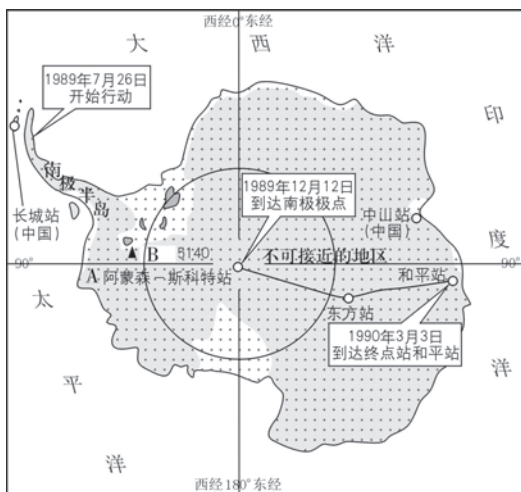
# 实践探究

## 活动一：

**任务：**材料分析

**材料：**

1989—1990年，由中、美、苏、法、英、日六国南极考察队员组成的国际横穿南极大陆考察队，历时7个月，又一次把人类的足迹印在了南极极点上。（见右图）



1989—1990年国际考察队穿越南极大陆路线图

**问题：**

(1) 图中南极最高峰B叫\_\_\_\_\_。

(2) 南极考察队员在考察过程中看到最多的鸟类动物是 ( )

- A. 企鹅            B. 鸵鸟            C. 蜂鸟            D. 巨嘴鸟

(3) 当图中A点时间为1989年12月12日12时，北京时间为 ( )

- A. 12日14时      B. 13日2时      C. 12日2时      D. 13日14时

(4) 南极考察队员们遇到的危险可能有 ( )

①暴风雪迎面扑来，看不清路    ②积雪覆盖的冰隙随时都有可能吞没队员    ③酷冷的严寒，给队员留下无情的冻伤    ④整个南极洲上碰不上任何人，无法求援    ⑤随时会遭到熊的袭击。

- A. ①②③            B. ②③④⑤            C. ①②③④            D. ①②③④⑤

## 活动二：

**任务：**探究

**问题：**

请阅读教材及相关内容，联系所学知识，探究下列问题。

1. 纬度相差1°，距离约为111千米。估算一下，你的学校所在地到北极点直线距离大约多少？

2. 煤是深埋在地下的古代植物，经过漫长的时间演化而形成的。现在人们在冰雪覆盖的南极地区发现有煤，你能解释这一现象吗？

3. 人类踏上南极大陆用了十个世纪，你认为南极探险的难度大吗？为什么？既然如此，人类为什么要对南极洲进行科学考察？

## 验收评价

### 一、单项选择题

1. 因纽特人的主要聚集地是（ ）
- A. 太平洋沿岸    B. 大西洋沿岸  
C. 印度洋沿岸    D. 北冰洋沿岸
2. 南极地区与北极地区相似的地方是

- ( )
- A. 太阳光热资源丰富  
B. 水力资源丰富  
C. 都已经有人类居住  
D. 淡水资源丰富
3. 有关极地地区的叙述，正确的是
- ( )
- A. 北极地区被称为地球上的“白色沙漠”  
B. 南极地区是地球上淡水资源最贫乏的地区  
C. 北极地区是北极熊和企鹅生活的天堂  
D. 南极地区是一个自然资源的“大仓库”

结合甲、乙两幅图片，完成4~5题。



甲



乙

4. 图片中的动物分别是（ ）
- A. 鸭嘴兽、袋鼠    B. 鸵鸟、野骆驼  
C. 天鹅、大熊猫    D. 企鹅、北极熊
5. 这两种动物主要栖息地为（ ）
- A. 寒冷的高山地区  
B. 干燥的沙漠地区  
C. 酷寒的高纬地区  
D. 湿润的沼泽地区
6. 纬度最高的大洋是（ ）
- A. 北冰洋    B. 印度洋  
C. 太平洋    D. 大西洋
7. 世界上平均海拔最高、冰层最厚的大洲是（ ）
- A. 南美洲    B. 南极洲  
C. 非洲    D. 亚洲



8. 下列关于南极地区和北极地区的叙述, 正确的是 ( )

A. 南极地区全部是陆地, 北极地区全部是海洋

B. 南极地区是地球上最冷的地区, 即使是暖季也非常冷

C. 北极地区虽然气温比南极高, 但降水却比南极少, 风速也比南极大

D. 都有极昼、极夜现象而且出现的日期相同

9. 关于南极地区保护与和平利用的说法, 正确的是 ( )

A. 大力开采南极的煤炭资源

B. 组织捕鲸船队到南极捕鲸

C. 各国应加强合作, 履行南极条约

D. 科考队员把垃圾埋在雪地里

10. 南极洲号称“白色沙漠”但却有丰富的煤炭资源, 产生此种现象可能是由于 ( )

A. 大陆漂移

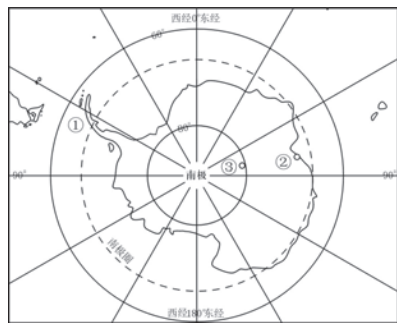
B. 气候变暖

C. 人类活动

D. 植被迁徙

## 二、综合题

11. 读图, 完成下列问题。



(1) 图中①②③代表我国的三个科考站, 其中\_\_\_\_\_表示昆仑站。

(2) 我国南极科学考察队要克服的恶劣气候是 ( )

A. 酷寒、干燥、烈风

B. 飓风、暴雨、寒潮

C. 暴雨、雷电、冰雹

D. 台风、寒潮、干旱

(3) 我国科学考察队去南极考察一般在11—12月抵达南极洲, 主要原因是什么?

12. 下图为北冰洋冰雪覆盖的卫星照片, 仔细对比两幅图的不同之处, 完成下列问题。



北冰洋冰雪覆盖图

(1) 北冰洋冰雪覆盖面积减少最大的区域是 ( )

A. 格陵兰岛周边海域

B. 西伯利亚以北海域

C. 加拿大以北海域

D. 北欧以北海域

(2) 北冰洋冰雪覆盖面积减少可能带来的影响是 ( )

A. 北极地区气温进一步上升

B. 北极地区通航能力减弱

C. 北极苔原面积进一步减小

D. 北极地区生物资源减少

## 第七章测试题

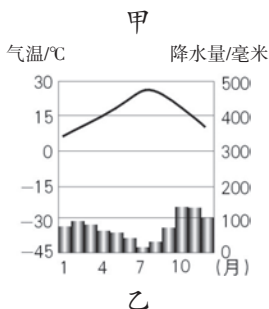
## 一、单项选择题

1. 世界上华人、华侨最集中的地区是 ( )
- A. 南亚                      B. 西亚  
C. 北亚                      D. 东南亚
2. 东南亚主要的热带经济作物是 ( )
- A. 天然橡胶、油棕、椰子  
B. 天然橡胶、油棕、水稻  
C. 油棕、椰子、咖啡  
D. 油棕、椰子、水稻
3. 关于东南亚旅游资源的叙述, 正确的是 ( )
- A. 有丰富的寒带自然景观  
B. 有著名的高山滑雪场  
C. 有著名的佛教景观  
D. 泰姬陵是东南亚著名景点
4. 地处亚洲与大洋洲、太平洋与印度洋之间“十字路口”的海峡是 ( )



- A. 苏伊士运河    B. 土耳其海峡  
C. 马六甲海峡    D. 巴拿马运河
5. 有关印度的说法, 正确的是 ( )
- A. 大多数人信奉印度教  
B. 大多数人信奉佛教  
C. 世界上人口最多的国家  
D. 南亚经济发展最慢的国家

读图, 完成6~7题。



6. 甲图中①附近的河流为 ( )
- A. 尼罗河                      B. 印度河  
C. 恒河                        D. 底格里斯河
7. 甲图中四地气候类型与乙图一致的是 ( )
- A. ①                              B. ②  
C. ③                              D. ④
8. 欧洲西部畜牧业发达的自然因素是 ( )
- A. 欧洲人喜吃牛羊肉  
B. 高原为主的气候  
C. 河网密布  
D. 终年温和湿润的气候
- 小明同学利用暑期游历了欧洲西部的多个国家, 据其见闻完成9~10题。
9. 小明见到的当地主要人种是 ( )
- A. 黄色人种  
B. 混血人种  
C. 黑色人种  
D. 白色人种

10. 当地人多数有到右图所示教堂做礼拜的习惯，他们信奉（ ）



- A. 基督教
- B. 佛教
- C. 伊斯兰教
- D. 印度教

11. 下列旅游景观中，位于欧洲的是（ ）



A



B



C



D

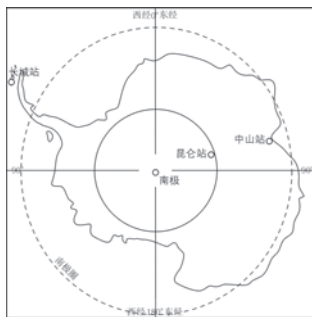
12. 下列关于欧洲西部的叙述，正确的是（ ）

- A. 以白色人种为主、人口稠密、发达国家众多
- B. 许多国家出口汽车、食品、石油和粮食
- C. 南、北部工业区密集，中部平原农业发达
- D. 在内陆国家，旅游业是国民收入的唯一来源

13. 符合“工业大国”、“农牧业大国”、“著名旅游国”特征的是（ ）

- A. 德国
- B. 美国
- C. 法国
- D. 意大利

读下图，完成14~15题。



14. 南极的典型动物是（ ）

- A. 企鹅
- B. 猩猩
- C. 长颈鹿
- D. 袋鼠

15. 有关南极地区及科考站的叙述，正确的是（ ）

- A. 我国三个科考站均有极昼极夜现象
- B. 中山站位于长城站的东北方
- C. 我们放暑假时正是考察该地区的最佳时期
- D. 此地气候酷寒，多狂风，降水稀少

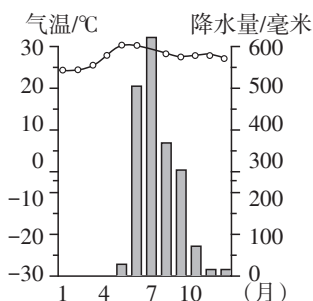
16. 下列地理事项与西亚无关的是（ ）

- A. 丝绸之路
- B. 五海三洲之地
- C. 世界石油宝库
- D. 大自流盆地

17. 不是西亚战争的导火索的是（ ）

- A. 五海三洲之地
- B. 世界石油宝库
- C. 人民生活贫困
- D. 宗教背景复杂

18. 关于南亚热带季风气候的叙述，正确的是（ ）



- A. 全年高温多雨
- B. 只在南亚地区分布
- C. 一年分热、雨、凉三季
- D. 东南季风给南亚带来大量降水

## 二、综合题

19. 写出下列在欧洲西部旅游活动应去的国家。

A. 乘船游览峡湾，观看午夜太阳。应去\_\_\_\_\_。

B. 游水城威尼斯，参观庞贝古城。应去\_\_\_\_\_。

C. 去阿尔卑斯山滑雪，参观“世界表都”伯尔尼。应去\_\_\_\_\_。

D. 在“音乐之都”维也纳欣赏音乐。应去\_\_\_\_\_。

E. 登埃菲尔铁塔，在罗浮宫欣赏名画《蒙娜丽莎》。应去\_\_\_\_\_。

F. 去无产阶级革命导师马克思的墓前献花。应去\_\_\_\_\_。

20. 分析材料，完成下列问题。

材料一：2013年“6·26”国际禁毒日主题为：抵制毒品，参与禁毒。金三角是缅甸、老挝、泰国交界地区，是世界上最大的鸦片、海洛因类毒品产地。

材料二：中南半岛河流与城市分布图。



(1) 在图上标出“金三角”的大概位置。

(2) 读图，说出“金三角”地区的地形特征和气候类型。

(3) 青少年面对毒品的蔓延应采取什么态度？

21. 阅读图文材料，完成下列问题。

材料一：从2011年3月19日起，以美、法、英等国为首的西方国家实施了对利比亚政府军的多轮空袭，致使本来政局不稳的利比亚局势更加混乱。

材料二：世界部分区域图。



(1) 写出图中字母代表的地理事物名称。

海域：A \_\_\_\_\_

半岛：B \_\_\_\_\_

(2) 说出本区“阿拉伯国家”居民的人种以及居民的宗教信仰。

(3) 根据图中信息分析，说出石油主要分布地区。

(4) 联系所学地理知识，分析此区域长期以来冲突频繁、战争不断的原因。

# 参考答案

## 第六章 认识大洲

### 第一节 亚洲及欧洲

#### 自主学习

##### 【问题一】

- (1) 略
- (2) 亚欧分界线是：乌拉尔山—乌拉尔河—大高加索山—土耳其海峡。
- (3) 从纬度位置和海陆位置两方面来描述。
- (4) 对，亚洲大部分位于赤道以北地区；位于60°E~160°E的范围内。
- (5) 主要位于北半球，绝大部分位于东半球。北临北冰洋，西临大西洋，南临地中海，西南隔直布罗陀海峡与非洲相邻，西北隔丹麦海峡与北美洲相望，东面与亚洲相邻。轮廓破碎，海岸线曲折。

##### 【问题二】

- (1) 略
- (2) 集中分布在中部。
- (3) 有天山、昆仑山、喜马拉雅山、兴都库什山。
- (4) 西西伯利亚平原、东北平原、华北平原、长江中下游平原、印度河—恒河平原等。
- (5) 中部高，四周低。
- (6) 地形复杂多样，地势中间高，四周低，起伏很大。

##### 【问题三】

- (1) 温带大陆性 热带雨林 亚热带季风 热带季风 热带沙漠
- (2) 纬度
- (3) 海陆位置
- (4) 地形地势
- (5) 提示：因为亚洲地处世界最大大陆的东部，濒临世界最大的海洋，海陆差异特别显著。

##### 【问题四】

- (1) 提示：注入太平洋的河流有长江、黄河、黑龙江等；注入印度洋的河流有恒河、印度河、伊洛瓦底江等；注入北冰洋的河流有鄂毕河、叶尼塞河、勒拿河等。
- (2) 总体上看亚洲的大河大多发源于中部的高原和山地，顺地势呈放射状流向四周奔流入海。
- (3) 湄公河，发源于中国，中国境内叫澜沧江，沿途流经缅甸、老挝、泰国、柬埔寨和越南5国。
- (4) 里海 贝加尔湖 巴尔喀什湖 死海

##### 【问题五】

- (1) 亚洲东部和南部以及欧洲的西部人口稠密，亚洲的西部和北部人口比较稀疏。
- (2) 提示：亚洲西部主要是热带和亚热带沙漠气候，终年炎热；而亚洲的北部属于寒带、亚寒带气候类型，气候寒冷。这些地方都不适合人类居住，因此人口稀疏。
- (3) 亚洲的人口问题是：人口数量多，人口增长过快，带来一系列的社会问题。欧洲的人口问题是：人口自然增长率低，人口老龄化严重。

#### 阅读思考

##### 【问题六】

- (1) 平原 低 小 南北 中部 冰川
- (2) 见下表：

|        | 亚洲              | 欧洲               |
|--------|-----------------|------------------|
| 平均海拔高度 | 较高, 仅次于南极洲      | 世界平均海拔最低的大洲      |
| 地面起伏状况 | 地面起伏大, 高低悬殊     | 地面起伏小            |
| 主要地形类型 | 高原、山地           | 平原               |
| 地形分布格局 | 中部为高原、山地; 四周多平原 | 南、北两侧多山地, 中部多为平原 |
| 特色地形   | 大陆外侧多岛弧         | 多冰川地貌            |

### 【问题七】

- (1) 1月气温越来越低, 7月气温越来越高。沿海向内陆降水量越来越少。  
 (2) 利物浦受海洋影响, 形成温带海洋性气候, 终年温暖湿润。漠河属于温带大陆性气候, 冬季寒冷。

### 实践探究

#### 活动一:

(1) 甲地的气温特点是全年温和, 降水特点是全年降水均匀, 属于温带海洋性气候; 乙地的气温特点是冬季温和, 夏季炎热, 降水特点是冬季多雨, 夏季干燥, 属于地中海气候。

- (2) B、C、D、E

#### 活动二:

(1) 每个时区跨15°经度。东十二区和西十二区合为一个区, 称为东西十二区, 范围是东经172.5°~西经172.5°。

(2) 我国采用的是北京所在的东八区的区时——北京时间(即东经120°的地方时, 而北京的经度为东经116°左右)作为全国统一使用的时间。

- (3) 布宜诺斯艾利斯的时间是9月7日17时, 东京时间是9月8日5时。

### 验收评价

#### 一、单项选择题

- B
- B 解析: 亚洲的地势特点是中部高, 四周低, 受地势影响河流呈放射状流向四周海洋。
- D 4. B 5. A
- B 解析: 日界线两边日期相差一天, 日界线东侧的日期比西侧的日期晚一天。
- C 解析: 亚洲东部自然条件优越, 所以人口稠密。
- D
- C 解析: 纬度位置、海陆位置和地形是影响亚洲气候的三个主要因素。
- A 解析: 欧洲的地形以平原为主, 地势低平。

#### 二、综合题

11. (1) 略 (2) 略 (3) 乌拉尔 乌拉尔 大高加索 苏伊士 红 白令 (4) 主要的内海有波罗的海、黑海等, 边缘海主要有北海。

12. (1) 西西伯利亚 蒙古 鄂毕 湄公 (2) 地形以高原、山地为主, 地势中部高、四周低。河流由中部发源, 顺地势呈放射状向四周奔流入海。

13. 欧洲与同纬度的亚洲地区相比: 冬季比较温和, 夏季比较凉爽, 降水的季节分配也比较均匀。原因是欧洲大部分地区处于北温带, 终年盛行西风, 欧洲西部沿岸有北大西洋暖流经过, 加上海岸线曲折, 山脉又多东西走向, 西风很容易把湿润的空气送进大陆内部。

## 第二节 非洲

### 自主学习

#### 【问题一】

- (1) 略
- (2) 东 南北 南北回归线 热 北温 南温 印度 大西 地中 直布罗陀 红 苏伊士
- (3) 埃及、埃塞俄比亚、利比亚

#### 【问题二】

- (1) 略
- (2) 海湾——几内亚湾，半岛——索马里半岛，岛屿——马达加斯加岛。
- (3) 见下表。非洲的海岸线要平直些。

|    | 海岸线长度/千米 | 陆地面积/万千米 <sup>2</sup> | 平均每1万千米 <sup>2</sup> 陆地拥有的海岸线长度/千米 |
|----|----------|-----------------------|------------------------------------|
| 欧洲 | 37900    | 1016                  | 约37.3                              |
| 非洲 | 30500    | 3020                  | 约10.1                              |

(4) 提示：从地形图上可以看出非洲高原面积广大，海拔500~1000米的高原占全洲的60%以上，比较典型的高原有埃塞俄比亚高原、东非高原和南非高原等。

#### 【问题三】

- (1) ①北 热带草原 全年高温，有明显的干湿两季变化 ②多 湿 少 干
- (2) ①热带雨林气候 热带草原气候 热带沙漠气候 热带雨林气候 热带沙漠气候 地中海气候  
②A点位于赤道附近，地势低  
③热带雨林 热带草原  
④赤道 对称 赤道穿过中部，纬度南北对称 热带草原气候

### 阅读思考

#### 【问题四】

- (1) 全年高温干燥的热带沙漠气候。热带沙漠气候主要在南北纬20°~30°间的大陆内部和西岸地区。
- (2) 太阳能、石油、天然气、铁锰等资源丰富。
- (3) 提示：终年受副热带高压带和信风带控制，加上受寒流的影响，降水稀少，在高温干燥的气候环境下形成了热带沙漠。(合理即可)

#### 【问题五】

- (1) 提示：土地退化、沙漠化，粮食紧缺，人口增长快，经济发展缓慢等问题。
- (2) 提示：粮食缺乏，营养不良导致贫困人口不断增加。(合理即可)
- (3) 提示：过度开荒、放牧，过度砍伐森林树木；长期殖民统治，经济落后；科技、教育、文化水平低；政局不稳，制约经济发展；人口的过快增长等。(合理即可)

### 实践探究

#### 活动一：

- (1) A、H——热带沙漠气候 B、J——高山气候 C、I——热带草原气候 D、G——热带雨林气候 E、K——地中海气候 F——亚热带季风性湿润气候
- (2) G处纬度较低，热量充足，全年气温高；地处东南信风的迎风坡，多地形雨；有暖流经过，增温增湿，所以形成了热带雨林气候。

#### 活动二：

- (1) 表格如下：

|     |    |     |       |     |     |
|-----|----|-----|-------|-----|-----|
| 国家  | 埃及 | 利比亚 | 阿尔及利亚 | 突尼斯 | 摩洛哥 |
| 矿产品 | 石油 | 石油  | 石油    | 铁   | 磷灰石 |
| 农产品 | 棉花 |     |       | 磷灰石 |     |

(2) 提示：非洲矿产资源丰富，不仅种类多，而且储量大，其中不少矿产占世界重要地位，特别是金刚石、黄金的储量和产量一直占世界第一位；非洲的动植物资源也极为丰富，大型野生动物的种类和数量均居世界各州之冠；非洲还是咖啡、枣椰和油棕的原产地，各种热带经济作物丰富多样。

(3) 提示：①人口自然增长率最高。②长期的殖民统治形成了单一商品经济。③科学技术水平落后，限制了非洲农业的大规模发展。④不稳定的气候加剧了对环境的破坏，自然环境恶劣。⑤动荡不安的政局使得政府无法安心发展经济。

### 验收评价

#### 一、单项选择题

1. B 2. B 3. C 4. A

5. D 解析：黄金和金刚石的储量和产量居世界首位，但石油的产量不居世界首位。

6. B

7. D 解析：非洲大陆高原面积广大，地势东南高、西北低，东部有世界陆地上最大的断裂带——东非大裂谷。

8. A 9. B

10. D 解析：玉米是农村居民的主食，小麦和稻米的产量不能自给，需要大量进口。

#### 二、综合题

11. (1) 热带雨林气候 热带草原气候 热带沙漠气候 地中海气候 高山气候

(2) 热带草原气候 热带雨林 以赤道为中心呈南北对称分布

(3) 赤道附近和几内亚湾 南北回归线两侧 很不平衡

12. 南非——黄金 刚果民主共和国——金刚石 利比里亚——铬铁矿

摩洛哥——磷酸盐 赞比亚——铜 几内亚——铝土

## 第三节 美洲

### 自主学习

#### 【问题一】

(1) 提示：很早以前，生活在亚洲、欧洲的居民，几乎不知道这块大陆的存在。15—17世纪的“地理大发现”，才确定了这是一块“新大陆”，从此结束了亚欧大陆与美洲“新大陆”之间的“隔绝”局面。这块大陆以巴拿马运河为界，分为南、北美洲。

(2) 略

(3) 中美地峡是指墨西哥以南、哥伦比亚以北的狭长陆地，又称中美洲。拉丁美洲是指美国以南的美洲地区。

【问题二】如下表：

|          |                                |
|----------|--------------------------------|
| 名称       | 巴拿马运河                          |
| 所属国家     | 巴拿马                            |
| 地理位置     | 南北美洲交界处                        |
| 沟通的海洋    | 太平洋和大西洋                        |
| 可不必绕道的航线 | 麦哲伦海峡航线                        |
| 意义       | 大大缩短了太平洋和大西洋之间的航程，具有重要的经济和战略意义 |



### 【问题三】

加勒比海 大西洋 古巴

### 【问题四】

(1) 山脉：落基山脉、海岸山脉、阿巴拉契亚山脉等。高原：拉布拉多高原。平原：大平原、密西西比平原等。

(2) 分为三大南北纵列带：西部是高大的山地和高原，中部是平原，东部是低缓的山地和高原。

### 【问题五】

(1) 山脉：安第斯山脉。高原：圭亚那高原、巴西高原、巴塔哥尼亚高原。平原：奥里诺科平原、亚马孙平原、拉普拉塔平原。

(2) 西部是安第斯山脉；东部地域辽阔，平原和高原相间分布。

### 【问题六】

(1) 大 小 纬度

(2) 多(丰富) 充沛 湿润

(3) ①北温带 北寒带 北温 温带大陆性 ②热带雨林气候 热带草原气候 温暖 酷暑

### 【问题七】

(1) 黄色人种

(2) 提示：北美洲是典型的移民国家，南美洲是“世界人种大熔炉”。美洲移民大多来自于欧洲的英国、西班牙、葡萄牙等国。(合理即可)

### 【问题八】

(1) ①③④是正确的，②是错误的。

(2) 提示：哥伦比亚的咖啡，智利的铜，巴西的咖啡，委内瑞拉的石油等。

## 阅读思考

### 【问题九】

(1) 温带海洋性气候。由于受北美洲西部高大山系的阻挡，使西部暖湿气流只能影响太平洋沿岸的狭长地带。

(2) 寒冷。北美洲中部是平原地区，东部是低矮的高原和山地，没有足够高的地形可以阻挡北方气流南下。

(3) 墨西哥湾。北美降水从墨西哥湾沿岸即北美的东南沿海向西北内陆逐渐递减。

### 【问题十】

(1) 亚洲与北美洲的分界线，俄罗斯与美国的分界线，国际日期变更线。

(2) 有可能，他们出生时，女孩出生在180°日界线的东侧，男孩子出生在180°日界线的西侧。根据日界线的变化规律，西侧的日期比东侧的日期早一天，所以女孩要叫男孩哥哥。

## 实践探究

活动一：

加勒比 太平 大西 火地 巴拿马 安第斯 巴西 亚马孙 亚马孙 麦哲伦

活动二：

(1) 多 少 7 1

(2) A地位于山脉的西侧，冬季处于太平洋暖湿气流①的迎风坡地带，多地形雨。B地位于山脉东侧的背风坡，降水稀少。

(3) 地中海气候。夏季高温少雨，冬季温和多雨。

活动三：

| 大陆  |        | 对比                             | 亚欧大陆                  | 北美大陆 |
|-----|--------|--------------------------------|-----------------------|------|
| 相同点 | 纬度位置   | 北回归线、北极圈分别穿过大陆的南部和北部，绝大部分位于北温带 |                       |      |
|     | 海陆位置   | 大陆东、西、北三面均濒临大洋                 |                       |      |
|     | 自然环境   | 气候复杂多样，以温带气候类型为主，森林、草原广阔       |                       |      |
| 不同点 | 东西半球位置 | 东半球                            | 西半球                   |      |
|     | 面积     | 5000多万千米 <sup>2</sup>          | 2000多万千米 <sup>2</sup> |      |
|     | 热带范围   | 广阔                             | 狭窄                    |      |
|     | 山脉走向   | 山脉多呈放射状走向                      | 山脉多呈南北走向              |      |

## 验收评价

### 一、单项选择题

1. C  
 2. B 解析：中美地峡是指墨西哥以南、哥伦比亚以北的狭长陆地，是联结南北美大陆的天然陆桥，又称中美洲。  
 3. D 4. C 5. D  
 6. A 解析：安第斯山脉纵贯南美大陆，全长9000多千米，是世界上最长的山脉。  
 7. C 解析：北美洲大部分地区位于温带，以温带大陆性气候和亚寒带针叶林气候为主；南美洲则以热带草原气候和热带雨林气候为主。  
 8. B 9. A 10. A

### 二、综合题

11. (1) 略 (2) 太平 暖 科迪勒拉 落基山脉以西的沿海 (3) 暖 冷 广阔的平原 (4) 温带大陆性和亚寒带针叶林 冰原

## 第六章测试题

### 一、单项选择题

1. D 2. A 3. C 4. A 5. B 6. D 7. C  
 8. D 解析：北半球夏季，越往北白天越长；有峡湾风光的国家是挪威。  
 9. B 10. D 11. B 12. C 13. B 14. C 15. C 16. B 17. D 18. A 19. D

### 二、综合题

20. (1) 太平 印度 (2) 喜马拉雅 乌拉尔 大高加索 西西伯利亚 斯堪的纳维亚 苏伊士 印度 阿拉伯 (3) 东 北  
 21. (1) 热带雨林气候 热带沙漠气候 热带草原气候 地中海气候  
 (2) A D (3) C是高原，A为盆地，受地形因素的影响。  
 (4) 热带雨林。位于赤道地区，终年受赤道低压控制。  
 (5) 热带草原气候，全年高温，一年分为明显的干湿两季。  
 (6) 由赤道向南北两侧呈对称性分布  
 22. (1) 落基山脉 麦金利山 (2) 安第斯山脉 阿空加瓜山  
 (3) 科迪勒拉山系高大绵长，阻挡了来自太平洋的水汽进入美洲大陆内部，使山系的西部形成了狭长的地中海气候和温带海洋性气候，导致山系两侧气候差异很大。  
 (4) 科迪勒拉山系位于环太平洋火山、地震带上。西部位于太平洋板块与美洲板块交界处，南部位于南

极洲板块与美洲板块交界处，地壳不稳定，所以多火山、地震。

## 第七章 了解地区

### 第一节 东南亚

#### 自主研习

##### 【问题一】

(1) 略

(2) 见下表：

| 河流名称  | 流向         | 注入的海洋     |
|-------|------------|-----------|
| 红河    | 西北向东南（或向南） | （北部湾）太平洋  |
| 湄公河   | 向南         | （南海）太平洋   |
| 湄南河   | 向南         | （泰国湾）太平洋  |
| 萨尔温江  | 向南         | （安达曼海）印度洋 |
| 伊洛瓦底江 | 向南         | （安达曼海）印度洋 |

(3) 热带雨林气候，终年高温多雨，因位于赤道地区，受赤道低压控制。

(4) 热带季风气候，终年高温，有明显的旱雨两季，由于海陆热力差异，每年的11月一次年5月，盛行来自亚洲大陆内部的东北风，性质干燥，降水偏少，成为旱季；6—9月，盛行来自海洋上的西南风，性质湿润，降水多，成为雨季。

(5) 见下表：

| 地区   | 地形特征         | 气候类型   | 河流特征                        |
|------|--------------|--------|-----------------------------|
| 中南半岛 | 山河相间，纵列分布    | 热带季风气候 | 自北向南流，上游水力资源丰富，下游形成冲积平原和三角洲 |
| 马来群岛 | 地势崎岖，多山岭，平原少 | 热带雨林气候 | 河流短促湍急                      |

(6) 地处亚欧板块、太平洋板块、印度洋板块交界处，地壳比较活跃。

##### 【问题二】

(1) ①纬度位置：南北回归线之间，赤道穿过，属低纬度地区。②海陆位置：位于中国以南，地处亚洲与大洋洲、太平洋与印度洋之间的“十字路口”。

(2) 马六甲海峡沟通了太平洋和印度洋，是亚洲东部到印度洋最短航线的必经之地。向西可到欧洲、非洲、西亚、南亚，向东可到亚洲的东部和大洋洲，是联结欧洲、印度洋沿岸港口与太平洋西岸港口的重要通道，是世界上重要的海上航线之一。

(3) 提示：马六甲海峡是连接太平洋和印度洋的重要海上通道。日本每年从非洲和中东地区进口的90%的石油、大量原料和出口商品都由此输送，因此马六甲海峡被日本视为“海上生命线”。

(4) 提示：在马来半岛上开挖运河。因为马来半岛两侧就是印度洋和大西洋，且半岛南北狭长，东西距离较短，在半岛地势低洼处开挖运河工程量小、投资不大，但效益可观。（其他建议合理即可）

##### 【问题三】

①——C ②——D ③——A ④——B ⑤——B

##### 【问题四】

(1) 提示：主要分布在湄公河、红河、湄南河、伊洛瓦底江河流的中下游平原和三角洲地区，这里地势平坦，土壤肥沃，为热带季风气候。

(2) ABC (3) 石油 天然气 锡矿 泰国 马来西亚 (4) 由于东南亚的气候、土壤十分适宜橡胶树的生长，更重要的是有大量廉价的劳动力，加上集中种植和科学管理，使这里的橡胶产量很大。

#### 【问题五】

(1) 略 越南、老挝、缅甸。

(2) 见下表：

| 国家  | 首都  | 河流    |
|-----|-----|-------|
| 越南  | 河内  | 红河    |
| 老挝  | 万象  | 湄公河   |
| 柬埔寨 | 金边  | 湄公河   |
| 泰国  | 曼谷  | 湄南河   |
| 缅甸  | 内比都 | 伊洛瓦底江 |

(3) 不一样，中国人旅居国外，取得了所在国国籍的是华人，还保留中国国籍的是华侨。举例略。

### 阅读思考

#### 【问题六】

(1) 曼谷5—10月月降水量在150毫米以上，而11月—次年4月则在100毫米以下，分雨季和旱季，月平均气温25℃左右。从以上数据可以总结，热带季风气候特点是全年高温，降水集中在5—10月，降水季节分配不均。

(2) 新加坡全年各月降水量大都在200毫米以上，月平均气温25℃左右。从以上数据可以总结，热带雨林气候特点是终年高温多雨。

(3) 提示：热带雨林气候区，农作物随时可以播种，四季都有收获；热带季风气候区，雨季播种，旱季收获。

(4) 提示：早晨6时太阳升起。水汽蒸发，逐渐成云，云越集越多，至下午2、3时开始下雨，傍晚雨过天晴，晚6时太阳落山。

### 实践探究

#### 活动一：

(1) 越南，老挝，缅甸。

(2) 老挝

(3) 越南、老挝、柬埔寨、泰国、缅甸位于半岛上，菲律宾、马来西亚、文莱、新加坡、印度尼西亚、东帝汶位于马来群岛上。

(4) 越南，柬埔寨，泰国，缅甸，菲律宾，马来西亚，文莱，新加坡，印度尼西亚，东帝汶。

(5) 菲律宾，马来西亚，文莱，新加坡，印度尼西亚，东帝汶。

#### 活动二：

一、1. 泰国 2. 对流雨 3. 泰国 4. 新加坡 位于板块交界地带，地壳运动活跃，多火山、地震。

二、提示：火山爆发时，灼热的岩浆和碎石会摧毁周围的田园、建筑、道路和各种设施，给附近人民的生命财产造成巨大的损失。但由于火山喷出的火山灰，形成了肥沃的土壤，人们都愿意到这里耕种，造成了火山周围的地少人多、人口稠密的情况。(合理即可)

### 验收评价

#### 一、单项选择题

1. B 解析：东南亚包括中南半岛和马来群岛的大部分。

2. D 解析：中国的澜沧江流到东南亚叫湄公河，流经柬埔寨的首都金边和老挝的首都万象。
3. D
4. C 解析：水稻是一种喜温喜湿的农作物，在生长过程中需要充足的光照和热量，尤其需要大量的水分。
5. A 6. A 7. B
8. C 解析：东南亚地区物产富饶，石油和锡在东南亚矿业中占主要地位。
9. D 10. A

## 二、综合题

11. (1) 由北向南 (2) 热带雨林气候 终年高温多雨 (3) 印度尼西亚。因为印度尼西亚位于板块交界处，地壳运动频繁，因此多火山、地震。
12. (1) 高温多雨 (2) 隔热、防风、防潮、排水

## 第二节 南亚

### 自主学习

#### 【问题一】

- (1) 南亚位于喜马拉雅山和印度洋之间，东濒孟加拉湾，西临阿拉伯海。
- (2) 南亚大部分位于 $0^{\circ}\sim 37^{\circ}\text{N}$ 之间。
- (3) 内陆国：尼泊尔，不丹；临海国：巴基斯坦，印度，孟加拉国；岛国：斯里兰卡，马尔代夫；陆地邻国：巴基斯坦，印度，尼泊尔，不丹。
- (4) 印度和巴基斯坦。

#### 【问题二】

- (1) 略
- (2) 西高东低。依据德干高原上河流的流向。
- (3) A是喜马拉雅山，B是恒河平原，C是德干高原。
- (4) 见下表：

| 河流名称 | 发源地   | 流经的国家          | 注入的海洋 |
|------|-------|----------------|-------|
| 印度河  | 中国西藏  | 印度、克什米尔地区、巴基斯坦 | 阿拉伯海  |
| 恒河   | 喜马拉雅山 | 印度、孟加拉国        | 孟加拉湾  |

#### 【问题三】

- (1) 东北季 少 西南季 多
- (2) 西部 东北 ①③
- (3) 提示：地处西南季风的迎风坡，多地形雨。
- (4) 见下表：

| 西南季风的时间变化 | 西南季风的强弱程度 | 灾害 |
|-----------|-----------|----|
| 来得早、退得晚   | 较强        | 涝灾 |
| 来得晚、退得早   | 较弱        | 旱灾 |

- (5) D

#### 【问题四】

|      |                |
|------|----------------|
| 宗教   | 流传的国家          |
| 佛教   | 斯里兰卡、不丹        |
| 印度教  | 印度、尼泊尔         |
| 伊斯兰教 | 巴基斯坦、孟加拉国、马尔代夫 |

### 【问题五】

- (1) 数量多，分布密集。全世界人口上亿的有10个，南亚就有印度、巴基斯坦、孟加拉国3个国家。  
 (2) 见下表。

| 农作物 | 分布                  | 与地形、气候的关系                       |
|-----|---------------------|---------------------------------|
| 水稻  | 印度东北部、西部沿海地区、孟加拉国西部 | 水稻需较多的水，上述地区是平原，降水充足            |
| 小麦  | 德干高原西北部、恒河上游地区      | 小麦、棉花耐旱能力强。这些地区地面起伏平缓，降水较少，日照充足 |
| 棉花  | 德干高原西部地区            |                                 |
| 黄麻  | 恒河下游地区              | 地势低平，气候湿热                       |

- (3) 信息 航空航天

### 阅读思考

#### 【问题六】

(1) 提示：南亚因喜马拉雅山脉的高大山体而与亚洲其他地区隔开，形成一个相对独立的地理单元。它的面积小于大陆，所以被称为南亚次大陆。南亚指位于亚洲南部喜马拉雅山脉中、西段与印度洋之间的广大地区。南亚包括南亚次大陆。

- (2) 印度 恒 印度 阿拉伯 孟加拉 印度河 德干

#### 【问题七】

- (1) 巴基斯坦 斯里兰卡 印度 尼泊尔 孟加拉国 不丹  
 (2) 热带季风气候 西南季风  
 (3) 德干高原 棉花  
 (4) 恒河 黄麻  
 (5) 阿拉伯  
 (6) 北部山地，中部平原，南部高原。

### 实践探究

#### 活动一：

- (1) 4—6月气温较高。因为降水少，天空中云少，气温上升快。  
 (2) 降水多，天空中云层厚，大大削弱了太阳直射。  
 (3) 11月—次年2月，北半球为冬季，又受东北季风影响。
- (1) 孟买全年高温，各月平均气温均在20℃以上。  
 (2) 6—9月多雨，10月—次年5月少雨。有明显的旱、雨季之分。  
 (3) 热带季风气候，特点：全年高温，分热、雨、凉三季。
- 差异：孟买全年高温，温差小，降水总量大；安拉阿巴德冬季温度较低，4、5、6月温度超过30℃，全年温差大，降水总量较孟买少。原因：孟买位于沿海，纬度偏低，受西南季风影响明显；安拉阿巴德位于内陆，纬度偏高，西南季风影响较弱。(合理即可)
- 提示：大部分地区为热带季风气候，西北印度河流域的中下游地区为热带沙漠气候，北部山地为高山高原气候，西北边缘地带有一部分温带大陆性气候。

### 活动二:

提示:科技是第一生产力,没有科技的创新,就没有经济的发展。科技发展来源于教育的发展,发展教育是国家发展的根本。

## 验收评价

### 一、单项选择题

1. C 2. A

3. B 解析:南亚是世界古文明发源地之一,是佛教、印度教的发源地。

4. C

5. B 解析:南亚热带季风气候显著的特征是一年分三季,每年6月到10月,西南季风带来大量的雨水。

6. D 7. D 8. A 9. B

10. C 解析:中国的春节是每年的2月左右,是南亚的凉季,盛行东北季风。

### 二、综合题

11. (1) 1 陆地 海洋 东北 (2) 7 海洋 陆地 西南 (3) 雨 西南 湿热多雨

12. 因为南亚北部有高大的喜马拉雅山脉,阻挡了北方的冷空气。

## 第三节 西亚

### 【问题一】

(1) 略

(2) 略

(3) 见下表:

| 海峡(运河) | 沟通的海洋           |
|--------|-----------------|
| 土耳其海峡  | 黑海与地中海          |
| 霍尔木兹海峡 | 波斯湾与印度洋         |
| 苏伊士运河  | 红海与地中海(印度洋与大西洋) |

(4) 最近的航线是:印度洋—阿拉伯海—曼德海峡—红海—苏伊士运河—地中海—直布罗陀海峡—大西洋。其他航线有:印度洋—好望角—大西洋。

(5) ①丝绸之路 ③苏伊士运河

### 【问题二】

(1) 热带沙漠气候,地中海气候,温带大陆性气候。

(2) 因为阿拉伯半岛降水稀少,是世界著名的干旱地区,大部分地表为热带沙漠,许多国家根本就没有河流,成为“无流之国”。

(3) ①畜牧 ②河谷平原 绿洲

(4) 安卡拉羊毛—土耳其,紫羊羔皮—阿富汗,地毯—阿富汗、伊朗等。

### 【问题三】

(1) 波斯湾及其沿岸地区。

(2) 沙特阿拉伯,伊朗,科威特,伊拉克等。

(3) 波斯湾→霍尔木兹海峡→印度洋→马六甲海峡→南海→台湾海峡→东海→太平洋→日本。

(4) ①波斯湾→霍尔木兹海峡→印度洋→曼德海峡→红海→苏伊士运河→地中海→直布罗陀海峡→大西洋→欧洲西部(美国)

②波斯湾→霍尔木兹海峡→印度洋→非洲好望角→大西洋→欧洲西部(美国)

第①条航线航程较短,第②条运量最大。

### 【问题四】

(1) 白色人种 主要是阿拉伯语

(2) 伊斯兰教 麦加（或麦地那、耶路撒冷）

(3) 伊斯兰教、基督教和犹太教 耶路撒冷

### 阅读思考

#### 【问题五】

(1) 石油储量最多，石油产量最多，石油输出量最多。

(2) 储量大、开采成本低、出油多、油质好、埋藏浅。

(3) 提示：生产量远大于消费量。

(4) 石油输出国组织简称“欧佩克”，是发展中国家的部分石油生产国为协调和统一成员国的石油政策，确定以适宜手段来维护成员国的利益而建立的。

(5) 提示：在稳定生产的同时，积极扩大经济发展的多元化趋势，如发展沙漠旅游、开发太阳能资源等。（言之有理即可）

#### 【问题六】

① 西亚的水资源不充足。② 西亚的主要资源是石油。③ 里海是内陆湖。④ 枣椰主要生产国是伊拉克。⑤ 麦加清真寺属于沙特阿拉伯。

### 实践探究

活动一：略

活动二：

1. 提示：干旱的气候，降水少且分布不均，水资源严重匮乏，节水灌溉成为以色列发展农业的关键。（言之有理即可）

2. 提示：① 加大使用循环水的力度。② 不断增建集水设施。③ 推广普及使用喷灌与滴灌的技术和方法等。（言之有理即可）

3. 提示：以色列非常缺水，但是却有非常好的供水措施来发展农业，实现了最高效地利用水资源。而我国水资源的利用基本都是粗放式的，以漫灌为主，很浪费水资源，所以我们要提高节水的意识、加大科技的投入、借鉴和引用以色列的农业节水灌溉技术，实施自动化、节约化的农业灌溉方式。（开放性问题，言之有理即可）

### 验收评价

#### 一、单项选择题

1. B 解析：里海是世界上面积最大的湖泊。 2. B 3. D 4. A

5. B 解析：恒河和印度河平原位于南亚地区，图兰平原位于中亚地区。

6. D 解析：西亚大部分地区属于干旱的热带沙漠气候，降水稀少，水资源是当地重要的战略资源。

7. C

8. A 解析：马来群岛降水丰富，塔克拉玛干沙漠和撒哈拉沙漠地区人烟稀少。

9. C 10. A

#### 二、综合题

11. (1) 枣椰 (2) 水资源、石油

12. (1) 西亚 (2) 沙特阿拉伯、伊朗、科威特、伊拉克 伊朗 (3) 西欧、美国、日本 波斯湾—阿拉伯海—印度洋—好望角—大西洋—西欧

## 第四节 欧洲西部

### 自主学习

#### 【问题一】

(1) 略



- (2) 都位于本区的南部地区。  
 (3) 北临北冰洋，南临地中海，西临大西洋，东南临黑海。  
 (4) 大部分位于36°N~70°N之间，属于北半球温带地区。

**【问题二】**

- (1) 世界上经济发达地区（或经济发展水平居世界前列）。  
 (2) 工业大国德国、法国、英国、意大利，它们的工业规模大，工业部门较为齐全，综合实力雄厚。  
 (3) 海运 航空  
 (4) A——③ B——④ C——② D——⑤ E——①

**【问题三】**

- (1) 伦敦大本钟——英国 水城威尼斯——意大利 巴黎凯旋门——法国 阿尔卑斯山滑雪——瑞士 峡湾风光——挪威 巴特农神庙——希腊  
 (2) 欧洲西部自然条件多样，历史文化悠久，为旅游业的发展提供了良好的条件；经济发展水平高，交通便利，国家之间距离近等促进了旅游业的发展。（其他答案言之有理即可）

**阅读思考**

**【问题四】**

- (1) 本区国家数量多，但国土面积狭小，资源和市场相对有限，这与地大物博的经济大国相比是劣势，所以，联合是欧洲西部国家的最明智的选择。（合理即可）  
 (2) 本区内的国家地理位置相近，经济基础类似，发展水平基本相当。（合理即可）  
 (3) 提示：加强了经济的合作，扩大了市场，减低了成本，促进了内外贸易的发展，强化了区域的政治、经济、外交等的合作，提升了各国在国际社会中的政治、经济和外交地位与影响力。（开放性题，合理即可）

**【问题五】**

- (1) 提示：欧洲西部地处高纬度地区，冷湿的气候不利于谷物的生长，而广阔的平原和温暖湿润的海洋性气候有利于多汁牧草的生长。  
 (2) 提示：欧洲西部经济发达，人口稠密，城市集中，城市化水平高，居民有喜食乳畜产品的习惯，市场广阔。便利的交通运输又为畜牧业的发展提供了有利条件。（合理即可）

**实践探究**

活动一：

1. 挪威 2. 瑞典 3. 芬兰 4. 英国 5. 爱尔兰 6. 法国 7. 比利时 8. 卢森堡 9. 荷兰 10. 德国  
 11. 瑞士 12. 意大利 13. 西班牙 14. 葡萄牙 15. 波兰 16. 斯洛伐克 17. 匈牙利 18. 罗马尼亚 19. 保加利亚 20. 希腊

活动二：

- (1) ① (2) ② (3) ⑤ (4) ④ (5) ③

**验收评价**

一、单项选择题

1. A 2. D 3. B  
 4. B 解析：欧洲西部的农业生产水平高，但在经济中所占比重不大。  
 5. D 解析：丹麦畜牧业发达，猪肉、牛肉、奶酪、火腿、香肠等乳肉制品行销国际市场。  
 6. A 解析：欧洲西部的温带海洋性气候，气候温凉、潮湿，多雨多雾，日照较少，有利于多汁牧草的生长。  
 7. C 解析：瑞士本国缺少工业原料，主要生产消耗原材料少而技术水平要求高的钟表和精密仪器。  
 8. C 解析：梵蒂冈、摩纳哥、圣马力诺、列支敦士登、马耳他、安道尔被称为“袖珍国”，是欧洲著名的旅游胜地。  
 9. D 10. B

## 二、综合题

11. A—埃菲尔铁塔—法国 B—风车—荷兰 C—古罗马斗兽场—意大利 D—斗牛—西班牙

12. (1) 地中 苏伊士 (2) 冰川 (3) A

## 第五节 北极地区和南极地区

### 自主学习

#### 【问题一】

- (1) 位于地球最北端，纬度最高的大洋。周围大洲是亚洲、欧洲和北美洲。
- (2) 北极地区的中心是北冰洋，四周是陆地。站在北极点上，四周都是南方。
- (3) 因纽特人和拉普人。
- (4) 石油 天然气
- (5) 北冰洋周围大陆架面积广阔，海岸线曲折，多半岛、岛屿、边缘海，是世界上面积最小、最浅、最寒冷的大洋。格陵兰岛是世界上最大的岛屿。

#### 【问题二】

- (1) 南极 大西 印度
- (2) 北

#### 【问题三】

- (1) 北极地区主要有北极熊、北极狐、海象等；南极地区主要有企鹅、磷虾、海豹等。
- (2) 有非常厚的毛皮和皮下脂肪，可以抵御严寒。
- (3) 不正确。①北极熊是非常珍稀的野生动物，在没有危及科考队员生命的情况下，不应该猎杀北极熊。②这种做法会破坏那里的食物链，从而导致生态失衡。

#### 【问题四】

- (1) 天然实验室
- (2) ①乔治王 长城站 ②中山站 ③黄河站 ④昆仑站
- (3) 因为2月分太阳直射点位于南半球，南极地区出现极昼且气温较高，有利于科考。

### 阅读思考

#### 【问题五】

- (1) 酷寒、干燥、烈风。
- (2) 严寒、干燥。
- (3) 南极。因为南极地区以陆地为主，北极以海洋为主，陆地放热和冷却比海洋快，降温幅度比海洋大；南极大陆海拔比北极高；南极地区一年内的日照时间比北极短。
- (4) 提示：南极大陆降水同沙漠地区差不多，这里又是白色的冰雪世界，白色是南极地区永恒的基色，故从降水这个角度讲，称南极为白色荒漠，但称为荒漠有些不妥，南极大陆有巨厚的冰层，是世界上水资源最丰富的地区。南极大陆是世界上风力最大和风暴最多的地方，每年约有2/3的时间刮大风，称其为“风库”或“世界风极”名副其实。
- (5) 提示：由于南极地区气候酷寒，蒸发微弱，降雪到地面后很快结冰，长年累月积存下来就形成巨厚的冰层。

### 实践探究

#### 活动一：

- (1) 文森峰 (2) A (3) B (4) A

#### 活动二：

1. 提示：先确定学校所在的纬度，求出与北极点的纬度差，再运用纬度差×111千米，即可得出。
2. 提示：煤本应形成于温带地区，目前却出现在寒冷的南极，说明南极洲在煤炭形成的地质年代应该是最

温暖湿润的气候，能生长高大植物，这些茂密的森林被埋在地下经地质作用形成了煤田，后随大陆漂移至现在的位置。（合理即可）

3. 提示：难度很大，因为环境恶劣：酷寒、烈风，还有十分可怕的暴风雪，还要战胜高山、深谷、冰裂缝等艰难险阻。而南极地区丰富的资源和科学考察的极好环境，都对人类的可持续发展具有重要意义。（合理即可）

## 验收评价

### 一、单项选择题

1. D

2. D 解析：南极地区与北极地区相似的地方是淡水资源丰富；北极地区有人类——因纽特人居住，南极地区没有常住人口。

3. D 4. D 5. C

6. A 解析：四大洋中，北冰洋位于极点附近，所以纬度最高。

7. B 解析：南极大陆上覆盖着巨厚的冰盖，海拔也比较高。

8. B 解析：受海陆因素影响，世界上最冷的地区是南极。

9. C

10. A 解析：根据大陆漂移假说和板块学说分析，南极地区很早以前曾经位于温带，有过茂密的森林。

### 二、综合题

11. (1) ③ (2) A (3) 南极地区是世界上最寒冷的地区，没有春夏秋冬之分，只有暖季和寒季之别，每年11月到次年3月为暖季，气温相对高一些，有利于开展科学考察活动。

12. (1) B (2) A

## 第七章测试题

### 一、单项选择题

1. D 2. A

3. C 解析：东南亚纬度低，主要有热带季风和热带雨林两种气候类型，不可能出现丰富的寒带自然景观，也不会出现著名的高山滑雪场；泰姬陵是印度著名的佛教建筑，在南亚；东南亚很多国家的居民信仰佛教，如泰国把佛教定为“国教”。

4. C 解析：马六甲海峡介于马来半岛和苏门答腊岛之间，是沟通太平洋与印度洋的天然水道，同时也是西亚、南亚通往大洋洲的必经之地。

5. A

6. A 解析：非洲注入地中海的河流是尼罗河，它是世界上最长的河流。

7. B 解析：读图乙，得出该地7月炎热干燥，1月温和多雨，是地中海气候。该气候主要分布于地中海沿岸。

8. D 9. D 10. A 11. B 12. A 13. C 14. A 15. D 16. D 17. C 18. C

### 二、综合题

19. 挪威 意大利 瑞士 奥地利 法国 英国

20. (1) 略。（位于中南半岛上，在缅甸、老挝、泰国交界地区） (2) 山河相间，纵列分布 热带季风气候 (3) 远离毒品，拒绝毒品。

21. (1) 地中海 西奈半岛 (2) 白色人种 伊斯兰教 (3) 波斯湾及其沿岸地区和北非地区 (4) 石油之争，淡水之争，宗教矛盾，领土之争等。