

板块一 中国古代史


(一) 史前时期：中国境内早期人类与文明的起源

【能力提升】

1 在研究中国早期人类的代表——北京人时，小丽和同学们针对下面几幅图片展开对北京人生活的讨论。你认为据此可以得出的结论有 ()



北京人使用的石器 北京人头部复原像



北京人狩猎场景想象图

①北京人会制造粗糙的石器 ②北京人已经可以直立行走 ③他们的面部保留有猿的特征 ④北京人已经掌握了原始农耕

- A. ①②③ B. ①②④
C. ②③④ D. ①③④

2 历史遗址、遗迹是我们了解历史的重要途径之一。下列历史遗址、遗迹中，有助于我们了解史前农耕社会生活的是 ()

- A. 周口店北京人遗址
B. 河姆渡和半坡遗址
C. 殷墟和都江堰遗址
D. 陕西秦始皇陵兵马俑

3 (2019·江苏苏州) 许倬云在《万古江河》中提到，现在常说的“新石器”与“旧石器”时代，以人类生产食物来维持生计的方式为分界线，从旧石器时代采集食物，到新石器时代生产食物。许倬云认为划分新、旧石器时代的分界线是 ()

- A. 天然火的运用

- B. 打制石器的使用
C. 群居生活出现
D. 原始农业的兴起

4 传说是在文字尚未发明的时代，人们利用口耳相传的方式对历史所做的记录。因此，传说通常不一定可靠。下列属于传说的是 ()

- ①炎帝神农氏曾在山西高平地区尝百草、种五谷 ②商朝龟甲卜辞记载，王室征伐、问吉凶
③黄帝造宫室、车船、兵器 ④河姆渡居民已会种植水稻

- A. ①② B. ②③
C. ①③ D. ②④


5 历史图片被称为“凝固的历史”。对下列图片中历史信息的解读，不正确的是 ()



图一 河姆渡遗址出土的稻谷 图二 黄帝(汉画像石)



图三 司母戊鼎



图四 春秋铁农具

- A. 图一是我国长江流域原始农耕的实物证据
B. 图二证明了中国历史上确有黄帝这一人物
C. 图三反映了我国古代青铜铸造的高超工艺
D. 图四说明春秋时期已经用铁农具耕种土地

6 (2019·广东) 《周易·系辞下》记载，“黄帝、尧、舜……舟楫之利以济不通”。以下考古发现能够印证记载中“舟楫”的是 ()

- A. 辽宁建平出土的彩陶罐
B. 河南舞阳出土的七孔骨笛



- C. 重庆巫山出土的筒形瓶
D. 陕西宝鸡出土的船形彩陶壶

【拓展延伸】

阅读材料，回答问题。

材料一：



图一 北京人头盖骨化石 图二 北京人牙齿化石



图三 北京人使用的石器

材料二：河姆渡原始居民主要使用磨制石器，用来耒耜耕地，种植水稻，住干栏式的房子，过着定居生活。他们已经会挖掘水井，饮水比以前方便了。他们会饲养家畜，会制造陶器，还会制作简单的玉器和原始乐器。

半坡原始居民普遍使用磨制石器，他们用磨光的石器和木质的耒耜耕地，用石刀收割庄稼。他们的主要粮食作物是粟。半坡原始居民饲养猪和狗等动物，还打猎捕鱼。半坡原始居民住在半地穴式的圆形房子里。他们能制造色彩鲜艳的彩陶，上面绘有各式各样的美丽图案。半坡居民已学会纺线、织布、制衣。

材料三：相传右图人物是五六千年前的部落联盟首领，他曾联合一些部落，在阪泉之战中打败炎帝部落，后来两大部落联盟打败蚩尤部落。



(1) 材料一中的古人类化石和石器发现于哪一地点？它们的发现有什么重要价值？

(2) 材料二中的两段话分别代表了我国哪两个流域原始居民的农耕生活？根据材料二概括他们的农耕生活有哪些共同特点。

(3) 材料三中的人物被后人尊称为什么？相传他的发明有哪些？（列举两例）

(4) 综合上述材料，你认为了解史前社会的重要途径有哪些？

(二) 夏商周时期：早期国家与社会变革

【能力提升】

1 (2019·江西)《礼记·礼运》认为，在“天下为公”的“大同”之世之后，社会进入“天下为家”的“小康”之世。“大人世及以为礼，城郭沟池以为固，礼义以为纪。”中国最早具备以上“小康”之世特征的王朝是 ()

- A. 夏朝 B. 商朝
C. 周朝 D. 秦朝

2 夏、商、周三代是中华文明的第一个高峰时期，为后代文明的发展奠定了基础。下列对这一时期的文明成就表述正确的是 ()

- A. 夏朝是中国历史上第一个封建王朝
B. 西周的地方管理制度是郡县制
C. 青铜器主要用于祭祀的礼器和农具
D. 商朝出现了体系较为完整的甲骨文

3. 某班同学在参观某博物馆时，讲解员指着一块刻有文字的兽骨残片告诉同学们说：“这些文字记录 and 反映了商王室的活动和商朝的政治、经济情况，对研究商朝的历史有重要的价值。”据此判断，这块残片上的文字应该是 ()

- A. 刻画符号
- B. 甲骨文
- C. 隶书
- D. 小篆

4. (2019·山东青岛) “至于商朝的历史，则因有近代殷墟出土的遗物为佐证，已大体可以列入信史的范围。”下列出土的遗物可以佐证商朝历史的是 ()

- A. 棉纺织品
- B. 景德镇的瓷器
- C. 刻有文字的甲骨
- D. 圆形方孔半两钱

5. 对血缘、制度、价值取向和家国的认同，便是对文化的认同。“西周”所处的时代，体现出这些文化认同的主要特征是 ()

- A. 封邦建国、制礼作乐
- B. 社会变革、百家争鸣
- C. 国家分裂、民族交融
- D. 皇权强化、闭关锁国

6. (2019·山东聊城) 《诗经》中的“千耦其耘”是对西周时期大规模集体耕作的形象描述。当时实行大规模集体耕作的原因主要是 ()

- A. 劳动力充足
- B. 技术落后
- C. 生产工具简陋
- D. 农作物品种单一

7. 成语典故是我国历史文化遗产中的一颗璀璨明珠。下列成语典故与其对应的战役，发生在今山西境内的是 ()

- A. 围魏救赵——桂陵之战
- B. 破釜沉舟——巨鹿之战
- C. 纸上谈兵——长平之战
- D. 草船借箭——赤壁之战

8. 公元前 636 年，在外颠沛流离了 19 年的重耳，历经千辛万苦，在秦国的帮助下，回到晋国做了国君。后来，他在大臣的辅佐下，进行了一系列政治、经济改革，为晋国走上富强、成就霸业创造了条件。城濮之战，晋国打败楚国，成为天下霸主。这段话中描述的主人公是 ()

- A. 秦孝公
- B. 晋文公
- C. 楚庄王
- D. 晋献公

9. 位于太原汾河西畔的山西博物院，其基本陈


列以“晋魂”为主题，由文明摇篮、夏商踪迹、晋国霸业、民族熔炉、佛风遗韵、戏曲故乡、明清晋商七个历史文化专题构成。小朱同学为其中的四个专题寻找相关的史实，其中不正确的是 ()

选项	专题	史实
A	文明摇篮	甲骨文发祥地
B	晋国霸业	晋楚城濮之战
C	民族熔炉	北魏孝文帝迁都
D	佛风遗韵	山西大同云冈石窟

10. 生产工具和生产技术的革新是推动社会经济发展的重要标志。下列由于运用了先进技术而成为我国农业发展史上一次革命的是 ()



A. 耒耜



B. 牛耕



C. 曲辕犁



D. 筒车

11. (2019·湖南益阳) 我国古代儒家主张“仁”“信”、墨家主张“兼爱”、法家主张以“法”治国；社会主义核心价值观中有“和谐”“诚信”“友善”“法治”等内容。这表明社会主义核心价值观 ()

- A. 照搬了春秋战国时期的思想
- B. 是现代中国建设的经验总结
- C. 植根于优秀的中华优秀传统文化
- D. 是马克思主义中国化的产物

【拓展延伸】

1. 夏、商、西周是我国早期国家产生和发展的重要阶段，创造了灿烂的文明。阅读材料，结合所学，回答问题。

材料一：夏传子，家天下。四百载，迁夏社。汤伐夏，国号商。六百载，至纣亡。周武王，始诛纣。八百载，最长久。

——《三字经》

(1) 根据材料一和所学知识，填写下面表格中所缺的内容。



朝代	开国之君	亡国之君	都城
①	禹	桀	阳城
商	②	纣	亳
西周	周武王	③	镐京

材料二：大道之行也，天下为公，选贤与能，讲信修睦。故人不独亲其亲，不独子其子，使老有所终，壮有所用，幼有所长……是故谋闭而不兴，盗窃乱贼而不作，故外户而不闭，是谓大同。今大道既隐，天下为家，各亲其亲，各子其子，货力为己，大人世及以为礼，城郭沟池以为固……故谋用是作，而兵由此起。禹、汤、文、武、成王、周公，由此其选也。……是谓小康。

——《礼记》

(2) 材料二所描述的从“大同”到“小康”，社会发生了怎样的变化？

材料三：3900多年前，殷商国力强盛。工匠们正在铸造一个巨大的青铜器。这项大型工程在当时堪称尖端科技，从采矿、冶炼、运输、合金、铸造到修饰成形，过程漫长。它就是我们熟知的后母戊鼎，因鼎身的三字铭文而得名。铸造这件832.84千克的青铜器，前后各道工序均需大量熟练工人协作配合。所需金属原料至少在1000千克以上，而且必须有巨大的熔炉。

——《国宝会说话》解说词

(3) 材料三中国宝“后母戊鼎”的制作过程说明了什么？

材料四：周初的分封，一定程度上摧毁了中原地区原有的氏族部落壁垒，将中央王朝的统治伸展到了中原各地，也将周人的文化传播到了中原地区的每一个角落，由此拉开了中国历史上第一次民族大融合的序幕，也极大地推动了中国统一多民族国家的发展。

——韦东超《朝贡体制和分封制对我国统一多民族国家形成的作用》

(4) 根据材料四，简述周初分封制的内容及所

起的作用。

2 春秋时期，随着战乱纷争局面的出现，社会经济、政治、思想等领域都发生了大的变化。阅读下列材料，结合所学知识，回答问题。

材料一：古书上记载，春秋时期，人们已使用铁农具来耕种土地。在湖南、河南、江苏等地的春秋墓葬中，发掘出一批铁农具。此外，至迟在春秋末年，人们已使用牛来耕地。

材料二：春秋时期，各诸侯国为了自身利益，相互之间展开激烈的争斗。一些强大的诸侯国为取得优势，以“尊王攘夷”的名义进行征战，争夺霸主的地位。战国时期，强大的地方诸侯国各自为政，扩充军队，力图拓展疆域。当时的战争规模很大，参战兵力多，交战区域广，持续时间长。

材料三：百家争鸣促进了思想和学术的繁荣，成为中国古代第一次思想文化发展的高峰，为中国古代文化的发展奠定了基础，对后世有十分重要而深远的影响。

——上述材料均摘自人教版七年级上册历史教科书

材料四：秦孝公用商君，坏井田，开阡陌，急耕战之赏……倾邻国而雄诸侯。……至于始皇，遂并天下。

——《汉书·食货志》

(1) 材料一中铁制农具和牛耕的出现，对当时社会发展起了什么作用？

(2) 根据材料二的描述，说明春秋战国时期的战争有何利弊。

(3) 材料三中“百家争鸣促进了思想和学术的

繁荣”的原因是什么？

(4) 根据材料四，总结“商君”改革的措施，并分析改革是如何为“始皇”“并天下”奠定基础的。

(5) 综合上述材料，概括春秋战国时期的阶段特征。

(三) 秦汉时期：统一多民族国家的建立和巩固

【能力提升】

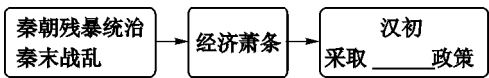
1. 2018年3月，全国人大表决通过，在“国家机构”中新增“监察委员会”，监察委员会依照法律规定独立行使监察权。两千多年前，秦朝负责监察百官的是 ()

- A. 丞相
- B. 御史大夫
- C. 市舶司
- D. 军机处

2. (2019·湖北孝感) 秦始皇统一全国后，先后设立了40多个郡，郡下设县，由中央直接进行管辖。该措施的主要作用是 ()

- A. 形成了森严的等级制度
- B. 专制主义集权达到顶峰
- C. 解除诸侯王国对中央的威胁
- D. 直接有效地控制地方

3. 下面图示是某学习小组整理的汉朝初年的发展线索，你认为画线处应填写的是 ()



- A. 文景之治
- B. 光武中兴
- C. 独尊儒术
- D. 休养生息

4. (2019·江苏泰州) 为汉代大一统国家的巩固和发展打下坚实基础，被称为中国古代第一个治世的是 ()


- A. 文景之治
- B. 光武中兴

- C. 贞观之治
- D. 开元盛世

5. 西汉的律法规定贾人不得衣丝乘车；隋唐律法规定工商之子不当仕；明朝的律法规定普通百姓可以穿绸、纱、绢、布四种布料的衣服，而商贾只能穿绢和布两种布料的衣服。这说明古代社会 ()

- A. 提倡节俭
- B. 服饰潮流演变
- C. 重农抑商
- D. 法律条文烦琐

6. (2019·山东济宁) 下图漫画反映的加强中央集权的措施，与其实施者对应正确的是 ()



- A. “削藩”——汉景帝
- B. “推恩令”——汉武帝
- C. 休养生息——隋炀帝
- D. “杯酒释兵权”——宋徽宗

7. “秦代和汉代对儒学采用的手段大相径庭，秦代重在‘禁’，汉代重在‘尊’，但两者反映的本质



都是加强思想控制，巩固统治。”材料中对儒学的“禁”和“尊”的史实分别是 ()

- A. 焚书坑儒 “罢黜百家，独尊儒术”
- B. 焚书坑儒 八股取士
- C. 八股取士 “罢黜百家，独尊儒术”
- D. 八股取士 百家争鸣

8 (2019·湖北襄阳) 习近平总书记在纪念改革开放40周年的讲话中，称赞中国古代人民“谱写了万里驼铃万里波的浩浩丝路长歌”。习总书记称赞的历史事件是 ()

- A. 修建都江堰
- B. 修筑长城
- C. 开辟丝绸之路
- D. 开通大运河

9 有人说：“东汉王朝就是在外戚与宦官的打来斗去，皇帝像走马灯似的换来换去的过程中走向灭亡的。”与这句话描述的历史现象无关的是 ()

- A. 东汉皇帝在位时间短
- B. 东汉争夺帝位斗争激烈
- C. 东汉外戚宦官交替专权
- D. 东汉王朝存在时间短

10 自古以来，历届中央政府就重视加强对新疆的管辖。下列机构的设置，可以印证这一事实的是 ()

①西域都护府 ②宣政院 ③伊犁将军 ④驻藏大臣

- A. ①②
- B. ②③
- C. ①③
- D. ②④

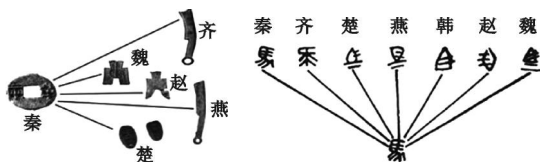
【拓展延伸】

1 阅读材料，回答问题。

材料一：“秦王扫六合，虎视何雄哉！挥剑决浮云，诸侯尽西来。”

——李白

材料二：



材料三：“及至始皇……废先王之道，焚百家之言，以愚黔首。隳名城，杀豪杰，收天下之兵……以弱天下之民……然陈涉……斩木为兵，揭竿为旗，天下云集响应……山东豪俊遂并起而亡秦族矣。”

——贾谊《过秦论》

(1) 材料一中李白所盛赞的“秦王”是谁？它

反映了秦王的主要功绩是什么？

(2) 据材料二两幅图片所示，秦朝为巩固统一采取的两项重要措施是什么？这两项措施起到什么作用？

(3) 材料三中“斩木为兵，揭竿为旗”指的是什么？“亡秦”的根本原因是什么？秦亡的原因给后世带来了什么启示？

2 影响经济发展的因素多种多样，经济的发展推动社会的进步。下面两个板块分别呈现的是两汉和魏晋南北朝时期经济发展的相关问题，请你完成学习任务。



图一 耒车



图二 五铢钱



图三

板块一 【释读图片——再现两汉经济】

(1) 图一耒车的用途是什么？

(2) 图二五铢钱是哪位皇帝在位时期统一的货币？除此之外，他在经济上还采取了哪些措施？

(3) 图三是一块汉代反映集市贸易的画像砖：

左上端一酒店内两个卖主正在打酒给买主；左下端两个卖肉摊贩与买主正作互言、互换或互答之状。右上端另一买主挑着酒担悠然离去；右下端一卖鱼摊贩正在与买主商谈。好一个热闹兴隆的集市！从对图的解读中可以得到怎样的信息？

(4) 下表是丝绸之路开通后，在这条贸易路线上传播的物品和技术。据此说明当时贸易有何特点？丝绸之路的开通起了什么作用？

汉朝传到西域	丝绸、漆器等物品，开渠、凿井、铸铁等技术
西域传入中国	良种马、香料、玻璃、宝石；核桃、葡萄、石榴、苜蓿；乐器、歌舞

板块二 【研读史料——认识魏晋南北朝经济】

(5) 《晋书·食货志》记载东晋后期南方的情形：“天下无事，时和年丰，百姓乐业，谷帛殷阜，几乎家给人足矣。”材料中描述的南方社会经济发展的原因是什么？

(6) 结合所学知识，从农业方面举出南方经济发展的至少两个事例。

(四) 三国两晋南北朝时期：政权分立与民族交融

【能力提升】

1 《三国志》中说曹操“广纳贤士，擅用人才，施行仁政于民，超世之杰矣”。而《三国演义》中说曹操是“乱世之奸雄”。以下关于史书与历史小说的评论，正确的是 ()

- A. 史书通常以历史小说为依据
- B. 历史小说与史书内容基本一样
- C. 历史小说的人物经过了艺术加工
- D. 史书带有强烈的个人感情色彩

2 我国古代不乏以少胜多的著名战役，其中为三国鼎立局面的形成奠定基础的是 ()

- A. 赤壁之战
- B. 巨鹿之战
- C. 官渡之战
- D. 淝水之战

3 西晋结束了三国鼎立局面，完成全国统一，但它也是中国历史上二世而亡的短命王朝之一。下列对西晋短期而亡原因的叙述，不正确的是 ()

- A. 大贵族、大地主在治国方略上缺乏雄才大略

- B. 晋惠帝昏庸无能，统治阶级生活极为腐化
- C. 地方上的“八王之乱”推翻了西晋政权
- D. 内迁各少数民族反抗西晋的民族压迫

4 (2019·广东) 公元3世纪，西域商人只有得到魏国敦煌太守仓慈发给的专门许可证，才可以去洛阳从事商业贸易。这种现象说明 ()

- A. 西北地区民族关系紧张
- B. 丝绸之路仍在发挥作用
- C. 中外文化交流基本中断
- D. 政权分立影响经济发展

5 东晋在 _____ 中战胜前秦，解除了来自北方的威胁。相对稳定的局势，使社会经济有所发展，江南出现了“荆扬晏安，户口殷实”的景象。这段话中的横线处应填 ()

- A. 昆阳之战
- B. 官渡之战
- C. 赤壁之战
- D. 淝水之战

6 (2019·湖北孝感) “皇帝对胡汉联姻非常高



兴，在御座上指派各皇弟与汉族官僚的女儿联姻；他还把自己的鲜卑姓氏改为‘元宏’。”材料反映的历史史实是 ()

- A. 商鞅变法
- B. 孝文帝改革
- C. 回族的形成
- D. 唐蕃“和同为一家”

7. 5世纪末，北魏孝文帝迁都洛阳，采用汉族官制、律令。此举 ()

- A. 促进了民族交融
- B. 确立了三国鼎立局面
- C. 加快了江南地区开发
- D. 实现了南北方的统一

8. 图片是历史学习的重要资料。如果为下面这组图片拟定一个主题，最恰当的是 ()



西晋时汉人使用的
方凳和胡床



穿汉族服装的
少数民族贵族



汉族妇女在制
作蒸馍与胡饼



穿裤褶服(胡服)的
南朝乐队

- A. 对外交往开放频繁
- B. 民族交融蔚然成风
- C. 多民族国家的巩固
- D. 社会经济繁荣发展

9. 东汉末年书法逐渐成为一门艺术。下列推动书法艺术持久发展的原因有 ()

①造纸术的发明，使书写的载体变得快捷方便
②人们对书法美的不懈追求 ③《兰亭集序》达到收放自如、浑然天成的境界 ④书法艺术是中华民族的文化瑰宝

- A. ①②
- B. ③④
- C. ①③
- D. ②④

【拓展延伸】

1. 秦汉至三国两晋南北朝的几百年间，中华文化不断创新与发展，传承着中华文明。围绕这一时期的“科技成就”，回答下列问题。

秦汉时期



图一 蔡伦



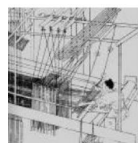
图二 张仲景坐堂

每逢农历初一、十五，他都会在大堂上摆开桌子，专为百姓看病。

(1) 图一人物有何重大贡献？写出这一贡献对世界文明产生的影响。

(2) 请为图二主人公写一段人物推介。(提示：从时代、身份、主要贡献、品行、后世评价等角度介绍)

魏晋南北朝时期



织布



农耕



炼水银

图三



图四 祖冲之纪念币

(3) 根据图三，判断这些插图出自魏晋时期的哪部科技著作，并简述其历史地位。

(4) 图四是中国在1986年发行的祖冲之纪念币，请用史实说明纪念他的理由。(至少两点)

2 魏晋南北朝是我国境内各民族之间交往、交流与交融的重要时期。阅读下列材料，结合所学知识，回答问题。

材料一：西晋统治腐朽，向内迁的各族人民收取重税，征兵派役，甚至掠卖少数民族人民为奴婢。这些暴政激起了内迁各族人民的强烈反抗。一些少数民族首领乘机起兵反晋，316年，西晋被匈奴族刘渊部所灭。

材料二：拥有先进农业、手工业技术的汉族劳动人民和具有封建传统文化修养的汉族士人的流入，壮大了拓跋氏政权的实力。北魏孝文帝在位时期，提倡儒学治国，认为鲜卑族必须学习先进的汉文化才能巩固政权。他将都城从平城迁到洛阳，推行了一系列改革措施。

——材料一、二均摘自部编版七年级历史教材

(1) 西晋时期内迁到今天山西境内的少数民族主要有哪些？

(2) 根据材料一，简析西晋短期灭亡的原因。

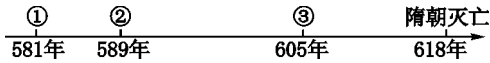
(3) 材料二中北魏孝文帝认为学习汉文化的目的是什么？列举其推行改革的汉化措施。

(4) 综上所述，除民族交融外，请写出魏晋南北朝时期的另一个阶段特征。

(五) 隋唐时期：繁荣与开放的时代

【能力提升】

1 在隋朝重大历史事件的时间轴上，与①②③处时间相对应的历史事件分别是 ()



- A. ①建立隋朝 ②统一全国 ③开通运河
- B. ①灭亡陈朝 ②建立隋朝 ③开通运河
- C. ①开通运河 ②建立隋朝 ③灭亡陈朝
- D. ①建立隋朝 ②开通运河 ③统一全国

2 “穿越剧”“伪历史剧”的流行，引起了历史学者的担忧和批判。下列情节均选自当下热门的电视剧，其中情节明显与历史史实不符的是 ()

- A. 秦将白起在长平之战后坑杀赵国军队 40 多万人
- B. 西汉时期，司马迁因仗义执言被关入狱中
- C. 唐玄宗将哥窑冰裂纹瓷器赏赐给日本遣唐使
- D. 清朝晋商乔致庸设立“票号”经营汇兑业务

3 唐太宗时制定的《贞观律》规定：对官员、地主“占田过限”“在官侵夺私田”等不法行为，予以惩治；擅自加重赋敛的要坐以赃罪或枉法罪。这反映了 ()


- A. 唐太宗时社会出现了治世局面
- B. 唐朝初年政府征收苛捐杂税
- C. 唐朝官员贪赃枉法的严重后果
- D. 唐朝对官员的刑罚过于严苛



4. 唐朝是我国诗歌创作的黄金时代。唐诗内容丰富，风格多样，才华横溢的诗人层出不穷。祖籍山西太原的白居易是其中成就最高的诗人之一。“慈恩塔下题名处，十七人中最少年”是他29岁及第时写下的诗句。上述情景的出现主要得益于 ()

- A. 八股取士制度
- B. 九品中正制
- C. 科举考试制度
- D. 三省六部制

5. “川中水车如纺车，以细竹为之，车骨之末，缚以竹筒，旋转时低则舀水，高则泻水。”这是对下图所示古代生产工具的描述，可见其主要作用是 ()



- A. 纺织
- B. 排洪
- C. 耕作
- D. 灌溉

6. 1999年，在印度尼西亚海域“黑石号”唐代沉船上打捞到近7万件中国瓷器，包括数量不等的越窑青瓷、北方白瓷等。瓷器种类多样，部分瓷器的形制、图案、色彩有明显的西亚、波斯艺术风格。这一考古发现可以说明 ()

- ①唐代制瓷业规模大，行销范围广
 - ②景德镇已成为唐代制瓷业中心
 - ③青瓷、白瓷是唐朝瓷器的代表
 - ④唐代瓷器风格受到外部的影响
- A. ①②③
 - B. ①③④
 - C. ①②④
 - D. ②③④

7. 唐朝时期的社会风气比较开放，社会充满活力，人们多显示出一种昂扬进取、积极向上的精神风貌。当时的一些妇女受过诗书、音乐等方面的教育，喜好骑马、打球、拔河、射箭、弈棋等活动。下列对唐朝出现这种现象原因的表述，不正确的是 ()

- A. 强盛的国力
- B. 开明宽容的民族政策
- C. 广泛的对外交流
- D. 男女平等的思想理念

8. 张敏同学学习了唐朝对外交往的史实后，对鉴真和玄奘的事迹进行了对比。下面是她归纳出的两人的共同之处，其中正确的是 ()

①都是唐朝的高僧 ②都是中外友好交流的使者 ③都为完成使命历尽艰辛 ④都应日本政府之邀前往传播佛法

- A. ①②④
- B. ②③④
- C. ①③④
- D. ①②③

9. 唐诗宋词是中华民族的文化基因，为了弘扬民族文化，中央电视台推出了《中国诗词大会》节目，引起了全国收视热潮。张亮同学从内容题材丰富、数量众多、作者广泛的唐诗作品中，归纳出如下唐朝的精神风貌。结合所学，你认为正确的有 ()

①昂扬进取，积极向上 ②风花雪月，沉迷山水 ③开放包容，兼容并蓄 ④思想保守，谨慎对外

- A. ①②
- B. ①③
- C. ②③
- D. ②④

【拓展延伸】

1. 诗词在唐宋时期发展到顶峰，是中国文学的璀璨明珠；诗词也从侧面反映了当时的社会发展状况。阅读和欣赏下列诗词，结合所学知识，回答问题。

材料一：忆昔开元全盛日，小邑犹藏万家室。稻米流脂粟米白，公私仓廩俱丰实。

——唐·杜甫《忆昔》

材料二：待到秋来九月八，我花开后百花杀。冲天香阵透长安，满城尽带黄金甲。

——唐·黄巢《不第后赋菊》

材料三：山外青山楼外楼，西湖歌舞几时休？暖风熏得游人醉，直把杭州作汴州。

——宋·林升《题临安邸》

材料四：怒发冲冠，凭栏处、潇潇雨歇。抬望眼，仰天长啸，壮怀激烈。三十功名尘与土，八千里路云和月。莫等闲、白了少年头，空悲切。

靖康耻，犹未雪。臣子恨，何时灭！驾长车，踏破贺兰山缺。壮志饥餐胡虏肉，笑谈渴饮匈奴血。待从头、收拾旧山河，朝天阙。

——宋·岳飞《满江红》

(1) 材料一描绘了开元时期什么样的情景？

(2) 材料二抒发了作者等待时机，改天换地的愿望。为了实现这一愿望，他做了什么事？

(3) 从唐朝“开元全盛”到唐末“冲天香阵透长安”，导致唐朝国势由盛转衰的标志性事件是什么？

(4) 材料三、材料四的诗词分别反映出南宋怎样的社会状况？并简述岳飞“收拾旧山河”的事迹。

(5) 赏析以上诗词后，你认为诗词在社会发展中起了什么作用？

2 七年级某班研究性学习小组的同学，在复习唐宋时期的经济发展时，设计了如下的学案，请你一起完成学习任务。

任务一 【读文释史】

(1) 根据下面描述，在括号中分别写出对应的工具名称。

描述一：设计精妙，轻便灵巧，操作时可自如地控制入土深浅，回转省力，适于精耕细作。

()

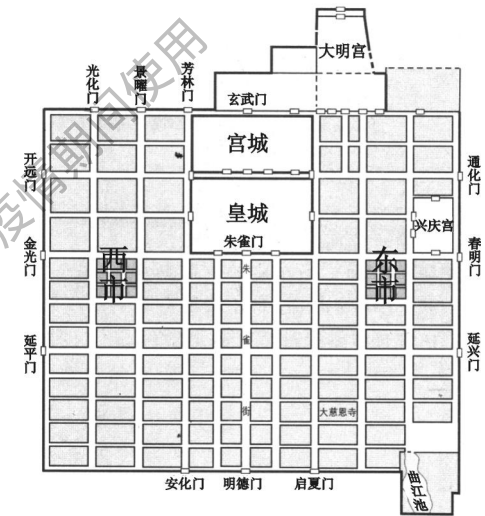
描述二：如纺车，以细竹为之，车骨之末，缚以竹筒，旋转时低则舀水，高则泻水。()

(2) “苏湖熟，天下足”是宋代流行的谚语，说的是当时长江下游和太湖流域成为富饶的粮仓。据此简析宋朝农业发展的原因。

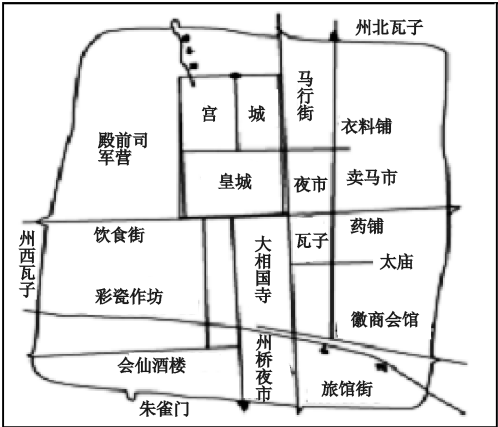
任务二 【对比学史】

(3) 我国是世界上最早发明瓷器的国家。分别列举唐、宋两朝在陶瓷业方面的典型成就各一例。

(4) 观察图一、图二，结合所学知识，分别指出唐、宋在城市规划或市场分布上的不同特点。



图一 唐朝长安城平面图



图二 宋代东京城平面图




任务三 【文物辨史】

(5) 下列两组文物或实物的存在，分别说明了什么？



一组：唐朝墓葬出土的文物



二组：宋代留存实物

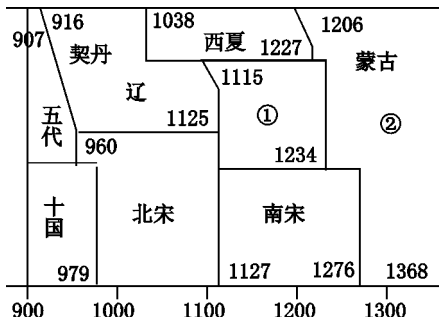
(六) 辽宋夏金元时期：民族关系发展和社会变化

【能力提升】

1. 山西民间有“六郎站在雁门关，一箭射到大青山（位于内蒙古）”的传说。下列对这一传说的理解，说法最合理的是（ ）

- A. 杨六郎勇武过人，这种传说完全可能发生
- B. 当时与杨六郎发生冲突的是成吉思汗率领的蒙古军
- C. 历史传说多虚拟夸张，不可作为历史研究资料
- D. 传说虽有夸张，但可以推测出北宋与北方民族处于战争状态

2. 下图为中国历史某一时段纪年表，图中①②所指的朝代分别是（ ）



- A. ①北魏 ②南宋
- B. ①北周 ②陈
- C. ①金 ②元
- D. ①东晋 ②唐

3. 市舶收入在宋朝政府财政收入中占有重要的地位，在宋高宗南渡初年表现得尤为突出。那时，南宋政府的年收入不满 1000 万缗（缗：古代铜钱计量单位），而市舶收入已达 150 多万缗，竟占南宋政府财政收入的 15%。材料主要说明（ ）

- A. 人口南迁带来大量劳动力和先进生产技术
- B. 海外贸易是宋朝政府财政收入的重要来源
- C. 南宋时期，我国的经济重心南移正式完成
- D. 造船和航海技术的进步是宋代海外贸易兴盛的重要原因

4. “国家根本，仰给东南”“丝织业、棉纺织业、造纸业中心及对外贸易港口多集中在南方”“苏湖熟，天下足”。这些现象说明了（ ）

- A. 魏晋时期江南地区得到开发
- B. 安史之乱以后北方人口南迁
- C. 两宋时期经济重心南移完成
- D. 明清时期城市商品经济活跃

5. 下列有关山西古代的史实中，表述不正确的

- 是 ()
- A. 长平之战加速了秦国统一中国的进程
 - B. 北朝时期开凿的云冈石窟堪称宏伟精巧的雕刻艺术品
 - C. 李渊在太原起兵反隋，敲响了隋朝灭亡的丧钟
 - D. 元朝时，在山西设行中书省加以管辖

6. 分封制、郡县制、行省制是我国古代史上重要的地方管理制度。下列对其相同点的表述，正确的是 ()

- ①都是为了加强对地方的控制，巩固统治
- ②都有效加强了中央集权，维护了国家统一
- ③官员都由君主直接任免，不得世袭
- ④都在一定时期内产生过积极作用

- A. ①②
- B. ③④
- C. ①④
- D. ②③

7. 为了对辽阔的疆域进行有效的治理，元朝的统治者根据各地区的情况，采取因地制宜的方式，在东北、西北、东南、西南等地区设置相应的管理机构加强中央对这些地区的统治。下列相关史实与元朝的管辖无关的是 ()

- A. 在东南地区设澎湖巡检司，管辖澎湖和琉球（今台湾）
- B. 对西藏地区行使行政管理权，由宣政院直接统辖
- C. 在西藏设置地方机构，征收赋税，屯驻军队
- D. 在北部蒙古边境开设贸易场所“榷场”，进行互市

8. 在北宋的开封城内有许多娱乐兼营商业的场所，叫作“瓦子”。大的瓦子，可容几千人。瓦子中圈出许多专供演出的圈子，称为“勾栏”。勾栏内商业广告琳琅满目，有各种艺人在这里卖艺谋生，如说书的、唱曲的、演杂剧的、耍杂技的、表演蹴鞠的，令人眼花缭乱。这一现象说明了开封城 ()

- A. 城市规模大
- B. 市民生活丰富
- C. 贸易往来频繁
- D. 文学艺术繁荣

9. 某文学兴趣小组对宋词繁荣的原因进行了探究，形成以下四种看法，其中不正确的是 ()

- A. 吟唱宋词日益成为宋代节日庆典的主要形式之一
- B. 宋代实行重文轻武政策，文人地位提高，创作热情高涨
- C. 印刷业和教育事业发展，推动文化领域的空前繁荣
- D. 城市经济的繁荣，为词的兴盛提供雄厚的物

质基础

10. 2005 年香港邮政发行一套 4 枚“中国古代四大发明”特别邮票，展示中国的四大划时代发明——指南针、造纸术、火药和印刷术。下列关于四大发明的解读，不正确的是 ()



- A. 指南针推动了航海事业的发展
- B. 活字印刷术是唐朝毕昇发明的
- C. 火药在宋元时期广泛用于军事
- D. 造纸术促进了世界文化的传播

11. 《元史·地理志》记载：“元有天下，薄海内外，人迹所及，皆置驿传，使驿往来，如行国中。”对这种现象的理解，不正确的是 ()

- A. 元朝建立了遍布全国的驿站
- B. 中外交通发达
- C. 造船技术和航海技术有了较大发展
- D. 元朝统治严厉

【拓展延伸】

12. 从古代丝绸之路到现今的“一带一路”，中国对外交流日益深入和扩大。阅读下列材料，结合所学知识，回答问题。

材料一：宋元时期，在工商业发达的基础上，海外贸易有所发展。由于当时西夏、辽、金、蒙古与宋对峙，宋军费支出浩大，不能不谋求广开财源，注重发展海外贸易。南宋偏安江南之后，中西陆路交通几乎断绝，海外交通空前发达。

——摘编自《中外文化交流史》

材料二：明朝前期，社会安定，国力雄厚。从 1405 年到 1433 年，郑和率船队 7 次下西洋，先后到过亚洲、非洲的 30 多个国家和地区，最远到达红海沿岸和非洲东海岸。

材料三：清朝……开放四个港口，作为对外通商口岸，并对出口的商品种类和出海船只的载重量做出严格的限制。（后）下令只开广州一处作为对外通商口岸，关闭了其他港口。

——材料二、三摘编自部编版历史教材七年级下册

材料四：古丝绸之路绵亘万里，延续千年，积



淀了以和平合作、开放包容、互学互鉴、互利共赢为核心的丝路精神。这是人类文明的宝贵遗产。

——习近平在“一带一路”国际合作高峰论坛开幕式上的演讲

(1) 根据材料一，指出宋元时期海外贸易和海外交通发展的原因。

(2) 根据材料二概括郑和能够实现远航的条件有哪些，并简述郑和下西洋的积极意义。

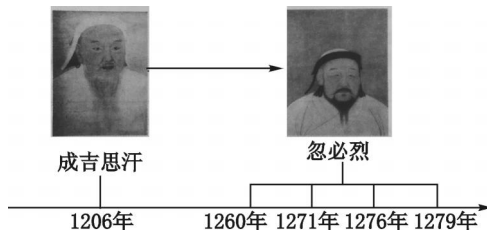
(3) 材料三中清朝的对外政策给中国社会带来了哪些影响？

(4) 材料四中“丝路精神”的核心是什么？请你概括影响国家对外交往的因素。

2 某校七年级(1)班的历史学习兴趣小组，编制了下面有关元朝的学案，请你参与完成。

活动一 【史实再现——探寻蒙古崛起】

(1) 依据下面的年代尺，简述成吉思汗和忽必烈的主要活动。



活动二 【提取信息——概括交融途径】

(2) 从下面的材料中，可以概括出元朝民族交融的哪些方式？

元朝时候，边疆各族包括蒙古族，大量迁入中原和江南，同汉族等杂居相处。原先进入黄河流域的契丹、女真等族，经过长期共同生活，已同汉族没有什么区别。唐朝以来，不少来自波斯、阿拉伯的人，同汉、蒙、畏兀儿等族，长期杂居相处，互通婚姻，逐渐交融，开始形成一个新的民族——回族。元朝境内大规模的人口流动，促进了各族经济、文化的发展与交融。

活动三 【列举成就——树立时空观念】

(3) 分别写出元朝的都城与元朝管理西藏的机构。

活动四 【总结提升——归纳元朝贡献】

(4) 根据以上内容，概述元朝在我国历史上的重要贡献。

(七) 明清时期：统一多民族国家的巩固与发展

【能力提升】

1. 君主专制中央集权是中国古代政治制度的一个重要特征。下列措施中，有利于加强君主专制中央集权的是 ()

- ①汉初分封同姓王 ②元朝设立行省制度
③明朝罢丞相，权分六部 ④清朝雍正设立军机处
A. ①②③ B. ①②④
C. ②③④ D. ①③④

2. 据史料记载，凡有紧急事务，雍正则命(张)廷玉立刻入宫，自己口授大意，张廷玉则于御前伏地书写，或是隔着门帘在案几书写，文稿书写完毕即呈雍正预览，随即颁行。……军机大臣“只供传述缮撰，而不能稍有赞画于其间也”。上述材料反映出军机处实质上 ()

- A. 是处理政务最重要的中枢机构
B. 军机大臣的主要工作是撰写文稿
C. 军机大臣与皇帝关系十分密切
D. 标志着我国君主专制进一步强化

3. 康熙时有人修《明史》，对南明的史事使用了明朝纪年，结果朝廷下令把参与编写、印刷、销售的70多人全部处死，总共处罚了200多人。清朝统治者这样做的根本目的是 ()

- A. 打击知识分子
B. 维护集权统治
C. 提倡尊孔读经
D. 严禁文化交流

4. 史料一般包括文献史料、实物史料、口述史料三大类，它是我们发现历史、解释历史的依据。下列史料所属的类别不正确的是 ()

- A. 司母戊鼎和唐三彩骑驼乐舞俑是实物史料
B. 《三国演义》和《西游记》是文献史料
C. 抗战老兵的回忆录音是口述史料
D. 《本草纲目》和《天工开物》是文献史料

5. 下列对明朝北京城的描述，不正确的是 ()

- A. 以木结构为主呈现出中轴对称的建筑特点
B. 明太祖朱元璋建都于此
C. 紫禁城是北京城的核心
D. 紫禁城是当时世界上最辉煌的皇家建筑群

6. 李自成领导的农民起义军所到之处，得到广大人民的热烈欢迎和拥护。其根本原因是 ()

- A. 明末土地兼并严重，赋税沉重
B. 农民觉悟高，拥护起义军
C. 陕西北部一带连年自然灾害
D. “均田免赋”口号的提出

7. 明朝鼎盛时期，全国人口达到1亿多。到康熙时，全国人口总数已达到1.5亿。乾隆末年，全国人口发展到3亿，占当时世界总人口的1/3。清前期人口增加的原因是 ()

- ①耕地面积不断扩大 ②粮食产量大幅提高
③社会秩序安定 ④城镇商品经济发展
A. ①②③④ B. ①②③
C. ②③④ D. ①②④

8. 晋商以雄厚的资金实力、先进的经营管理模式、诚信为本的商业文化，广拓经营领域和活动范围。他们经营的盐、铁、棉、布、皮毛、丝绸、茶叶、金融等商号，遍及全国各地并远涉欧洲、日本、东南亚和阿拉伯国家，称雄国内商界长达500年之久。从上述材料中可以得到的信息有 ()

- ①先进的经营理念是晋商成功的重要秘诀
②第一次世界大战期间，晋商达到鼎盛时期
③晋商一度是世界上实力最雄厚的商帮
④晋商经营领域广泛，销售市场广阔
A. ①② B. ②③
C. ①④ D. ③④

9. 下列作者与作品的对应关系，正确的是 ()

- ①李时珍——《本草纲目》 ②徐光启——《农政全书》
③施耐庵——《西游记》 ④吴承恩——《水浒传》
A. ①③ B. ③④
C. ①② D. ②③④

10. (2019·四川宜宾) 明清时期，小说和戏剧深受人民喜爱，主要是因为 ()

- A. 人民文化素质很高
B. 封建社会走向衰落
C. 内容反映现实生活
D. 题材高雅不落俗套

【拓展延伸】

1. 我国历代政府都非常重视民族团结和注重对边疆地区的有效管辖。结合所学，回答下面问题。

(1) 元朝和清朝政府为了加强对西藏地区的管



辖，分别采取了什么措施？

(2) 台湾在明朝后期被哪国侵占？到了清朝统治期间，台湾的回归经历了怎样的过程？

(3) 分别列举清朝为了巩固西北和东北这两个边疆地区的安全所做出的重大斗争。

2 明清时期是我国古代君主专制中央集权不断强化的时期。阅读下列材料，结合所学知识，回答问题。

材料一：经过春秋战国时期的诸侯争霸，到秦朝统一多民族国家的形成，以皇权为中心的中央集权制度建立起来。历经汉魏至明清，皇帝与宰相之间的权势此消彼长，中央与地方争权斗争接连不断，最终皇权不断强化，中央集权逐渐得到巩固。中央集权制度作为古代中国政治制度的突出特色，对中国历史产生了深远影响。中国统一多民族国家的形成与发展，官僚政治与行政管理以至文化教育传统，无不与此有着密切的关系。

——摘编自人教版高中历史教材必修1

材料二：（军机大臣）只供传述缮撰，而不能稍有赞画于其间也。

——赵翼《檐曝杂记》卷一

材料三：“明月有情还顾我，清风无意不留人。”雍正皇帝时的一位进士因写了这两句诗而被斩首。大臣胡中藻写的诗中有“一把心肠论浊清”之句，

乾隆帝看了竟说“加‘浊’字于国号‘清’之上，是何居心？”胡中藻被杀，友人也受到牵连。

——摘编自部编版历史教材七年级下册

(1) 材料一中皇权与相权之争结束于何时？列举这一时期为强化皇权采取的措施。

(2) 根据材料二，简述军机处的职能及其作用。

(3) 材料三反映了清朝统治者在思想上实行了怎样的举措？这一举措对思想和文化造成什么样的后果？

(4) 综上所述，概括明清时期加强君主专制中央集权表现出的特点。

板块二 中国近代史

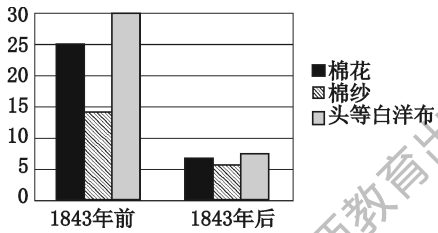
(一) 中国开始沦为半殖民地半封建社会
近代化的早期探索与民族危机的加剧

【能力提升】

1 (2019·甘肃武威) “英国不但在本国实行自由贸易政策，而且也要求外国实行这个政策……英国统治集团不惜发动侵略战争打开外国的大门。”英国发动的首次打开中国大门的侵略战争是 ()

- A. 鸦片战争
- B. 第二次鸦片战争
- C. 甲午战争
- D. 八国联军侵华战争

2 (2019·湖北咸宁) 下图是 1843 年前后我国主要进口货物关税税率统计表。导致图中税率发生剧变的主要原因是 ()



- A. 割地赔款
- B. 五口通商
- C. 协定关税
- D. 公使进京

3 (2019·四川达州) 有史学家指出：“如果说鸦片战争的震撼主要冲击了沿海地区的话，那么持续四年之久的第二次鸦片战争则把沉重的震撼带到了中国的社会中枢。”下列图片能对此进行佐证的是 ()



A. 虎门销烟



B. 圆明园遗址



C. 侵略者坐在清朝皇帝的宝座上



D. 日军在旅顺屠杀中国居民

4 (2019·江苏南京) “打下了清王朝的大半江山……领导者内讧，加之清政府的围剿……最终以失败告终。”材料描述的是 ()

- A. 林则徐查禁鸦片
- B. 太平天国的兴亡
- C. 英法火烧圆明园
- D. 义和团反帝斗争

5 (2019·四川自贡) 以下表格内容反映的历史事件的意义 ()

内容	起止时间：19 世纪 60—90 年代
	代表人物：奕訢、曾国藩、李鸿章
	近代企业：江南制造总局、汉阳铁厂

- A. 是中国近代化的开端
- B. 促进民族工业的进一步发展
- C. 确立了民主共和制度
- D. 促使封建自然经济开始解体

6 (2019·浙江湖州) 史学家蒋廷黻认为，同治年间起始的自强运动，虽未达到目的，然能有相当的成绩，已经费了九牛二虎之力。下列能印证“相当的成绩”的有 ()

- ①创建北洋水师 ②创办京师大学堂 ③创办轮船招商局 ④创办江南制造总局

- A. ①②③
- B. ①②④
- C. ①③④
- D. ②③④

7 (2019·湖南衡阳) 中国近代史上发生的一系列侵华战争，使中国一步步沦为半殖民地半封建社



会。如下所示，括号处签订的条约是 ()

鸦片战争 第二次鸦片战争 () 八国联军侵华战争
1840 1856 1894 1900

- A. 《南京条约》 B. 《马关条约》
C. 《北京条约》 D. 《辛丑条约》

8 (2019·江苏苏州) 观察下图，从帝国主义列强对中国态度的变化，可以判断出这种情况出现在 ()



- A. 鸦片战争后
B. 第二次鸦片战争后
C. 甲午中日战争后
D. 八国联军侵华战争后

9 (2019·江苏泰州) 小华同学在图书馆读到康有为《上清帝第六书》中的一段文字：“变则能全，不变则亡；全变则强，小变仍亡。”他据此判断康有为主张 ()

- A. 实行洋务运动
B. 推行维新变法
C. 进行暴力革命
D. 开展新文化运动

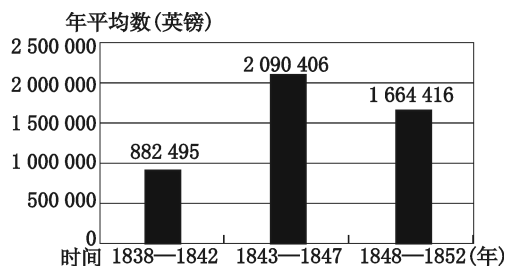
10 (2019·山东济宁) “甲午战败损失惨，洋务运动弊端显。中国面临被瓜分，民族危机特空前。”这首歌谣描写的是 ()

- A. 《南京条约》的影响
B. 戊戌变法的背景
C. 洋务运动的背景
D. 《辛丑条约》的影响

11 (2019·江苏泰州) 近代某条约第七款：“大清国国家允定各使馆境界以为专与住用之处，并由使馆管理。中国民人，概不准在界内居住。……中国国家应允诸国分应自主，常留兵队分保使馆。”该条约是 ()

- A. 《南京条约》
B. 《北京条约》
C. 《马关条约》
D. 《辛丑条约》

12 (2019·江苏苏州) 阅读下图《1838—1852年英国制造品输华值》(严中平《中国近代经济史》)。对图表信息解读正确的是 ()



- A. 鸦片战争后英国对华商品输出持续增长
B. 五口通商便利了英国对中国的商品输出
C. 英国发动两次鸦片战争占领了中国市场
D. 中国的民族资本抵制了英国的商品倾销

13 (2019·山东青岛) 李鸿章认为中国正处于“外国猖獗至此，不亟亟焉求富强，中国将何以自立耶”的局面。为此，清朝统治集团内部一些比较开明的官员，掀起了一场强兵富国的运动。关于这场运动，下列说法错误的是 ()


- A. 在客观上促进了中国民族资本主义的产生
B. 对外国资本的入侵起到一定的抵制作用
C. 是中国历史上第一次近代化运动
D. 使中国走上富强的道路

14 (2019·四川内江) 戊戌变法在中国历史上第一次提出了由传统走向近代的系统方案，倡导博爱、平等、自由、人权。这些思想观念并没有因变法失败而消失，相反更加深入人心，体现在变法 ()

- A. 对中国社会起到了思想启蒙的作用
B. 推翻了以慈禧为首的顽固派的统治
C. 使中国走上了发展资本主义的道路
D. 虽最终失败但挽救了中华民族危机

【拓展延伸】

15 中国近代史既是一部民族屈辱史，又是一部中华民族的探索史。读图，回答下列问题。



①



②



③



④

(1) 图①是洋务运动在什么口号下创办的企业？
列举一位该运动在地方上的代表人物。

(2) 与图②有关的历史事件是什么？

(3) 图③人物是谁？图④杂志的诞生，是哪一事件兴起的标志？

(4) 请给以上图片所反映的内容拟一个恰当的时代主题。

2 阅读下列材料，回答问题。

材料一：著名学者辜鸿铭说：“咸同以来，经粤匪扰乱……（清廷）如一丛病之躯，几难着手。当时得一时髦郎中湘乡曾姓者，拟方名曰‘洋务清火汤’，服若干剂未效。”

材料二：甲午战争失败后，李鸿章伤感地说：“我办了一辈子的事，练兵也，海军也，都是纸糊的老虎……不过是勉强涂饰，虚有其表。”

(1) 依据材料一和所学知识，概述咸同年间清廷多“病”缠身的原因。

(2) 辜鸿铭为什么称“湘乡曾姓者”为“时髦”的郎中？

(3) 依据材料二和所学知识，指出李鸿章“伤感”的主要原因。

3 阅读下列材料，回答问题。

材料一：1898年，顽固派教训康有为说，祖宗之法是不能变的！康有为应辩，祖宗之法是用来治理祖宗之地的，时代变了，祖宗之法非变不可！

材料二：康有为求学之初，就特别留心中国政治制度的沿革和各种经世之学。他到过香港、上海，看见西洋人地方行政整齐，觉得这种行政必有文化思想的背景和源泉。

材料三：维新变法运动失败了，但在社会上起了思想启蒙的作用。在那个时期的新式学堂和开设西学的书院里，出过黄兴、蔡锷等民主革命的风云人物；而随之兴起的学会，为广开民智介绍了西方的科学知识，这些知识在近代中国几乎必然地会转化为政治力量；维新人士还提出了“论白话为维新之本”的主张，早了胡适20年，可以说，后来的许多进步主张，在戊戌维新的时候都已露出了端倪。


(1) 材料一中的“祖宗之法”主要指什么？维新派为改变“祖宗之法”所做的努力有哪些？

(2) 据材料一和材料二，概括指出康有为主张变“祖宗之法”的原因。

(3) 据材料三，谈谈你如何理解维新运动在社会上的“思想启蒙”作用。

4 历史认识是人们对历史事物的描述、看法和评价。阅读下列材料，回答问题。

【看图说史】洋务运动部分图片资料



江南制造总局制炮厂



轮船招商局



京师同文馆



赴美留学幼童

(1) 根据图片提示的信息，简述洋务运动的



目的。

【读文析史】洋务运动后，一些有识之士认识到，学习西方并不是引进“坚船利炮”那么简单，他们开始寻求新的强国之道……

(2) 列举 19 世纪末 20 世纪初有识之士寻求“新的强国之道”的历史事件和主张。

【综合评史】有人说洋务运动是失败的，也有人说洋务运动是成功的。

(3) 你的观点是什么？请说明理由。

(二) 资产阶级民主革命与中华民国的建立

【能力提升】

1. (2019·江苏无锡) 某学者指出：“这次革命的目标是：民族独立、人民民主和普遍富裕。这次革命的成果是：皇冠落地，中国历史从帝制走向共和。”下列哪一选项最符合上述材料？()

- A. 自强求富 B. 维新变法
C. 民主科学 D. 三民主义

2. (2019·湖南娄底) “新礼服兴，翎顶补服灭；剪发兴，辫子灭；……鞠躬礼兴，跪拜礼灭……”这首民谣反映了某个重大历史事件引起的社会风俗的变化。这一事件是 ()

- A. 洋务运动 B. 戊戌变法
C. 辛亥革命 D. 新文化运动

3. (2019·山东青岛) 历史漫画以一种独特的方式诠释历史，让人在轻松活泼的氛围中引发对历史的思考。与下图漫画反映的历史事件不相符的是 ()



- A. 宣告了中国君主专制制度的终结
B. 领导者是孙中山

- C. 结束了中国半殖民地半封建社会
D. 推翻了清王朝的反动统治

4. (2019·山东烟台) 下图所示内容是陈独秀关于辛亥革命的言论。该言论表明他认为辛亥革命失败的原因是 ()

我们中国多数国民口里虽然是不反对共和，脑子里实在装满了帝制时代的旧思想。欧美社会国家的文明制度，连影儿也没有，所以口一张，手一伸，不知不觉都带有君主专制的臭味。

- A. 旧思想根深蒂固
B. 民族资产阶级力量弱小
C. 革命果实被窃取
D. 没有彻底的反帝反封建纲领

5. (2019·四川德阳) 下图所示内容是一本历史著作中某一章的小标题，这一章的大标题应是 ()

……
大清帝国“墙倒众人推”
建立民国，以美国为模范
“老孙”“小黄”合作的开始
鞑虏易驱，民国难建
三权已足，五权不够

- A. 洋务运动

B. 戊戌变法
- C. 辛亥革命

D. 新文化运动
6. (2019·四川自贡) 辛亥革命作为 20 世纪中国历史的第一次巨变，是中华民族伟大复兴征程上的里程碑。下列说法正确的是 ()

①建立了资产阶级共和国

②结束两千多年的封建君主专制

③改变了中国社会性质

④促进了人们思想解放

A. ①②③

B. ①②④

C. ①③④

D. ②③④
7. (2019·浙江舟山) 1912 年，美国一学者评论中国某一事件时说：“中国目前的局势正以一种系统、科学的方式向前发展，出现了一种带有西方理想的政治模式。”他评论的这一事件 ()

A. 彻底改变了中国的社会性质

B. 是共和制度在中国的实践

C. 实现了平均地权的革命纲领

D. 高举着民主与科学的大旗

8. 在历史学习过程中，明确历史事件发生的时代背景能够有效帮助我们理解历史上的人和事。下列事件与其背景搭配相符的是 ()

选项	背景	事件
A	《马关条约》允许日本在华投资设厂	张謇等人提出“实业救国”的口号
B	出于镇压义和团运动的需要	清政府同列强签订了《辛丑条约》
C	为了广泛宣传三民主义	陈独秀创办《青年杂志》
D	19 世纪 60 年代清政府急需外交、军事、科技人才	政府创办了京师大学堂

9. (2019·四川成都) 历史叙述包括对历史事件的客观描述和主观评述。下列属于客观描述的是 ()

A. 洋务运动开启了中国近代化的进程

B. 戊戌变法中光绪帝颁布了《定国是诏》

C. 辛亥革命推动了民族资本主义的发展

D. 新文化运动促进了知识青年的觉醒

10. (2019·广东) 有学者认为，维新变法、辛亥革命等失败的共同原因在于没有发动普通民众；五四运动中，年轻的工人阶级为站在潮头的青年知识

分子先锋队提供了可靠而强大的后盾。该学者旨在说明 ()

A. 维新变法主张君主立宪

B. 辛亥革命缺乏社会基础

C. 五四运动具有爱国性质

D. 政治革命需要民众参与

11. 下列事件发生的先后顺序是 ()

①袁世凯称帝

②护国战争

③二次革命

④宋教仁遇刺

A. ①②③④

B. ④③①②

C. ②③④①

D. ④①②③

12. 1912 年元旦，中华民国正式成立。同年，孙中山辞去临时大总统职务，由袁世凯继任。就任后，袁世凯于 1914 年修改总统选举法，不但自己可以终身担任总统，还可以由他的子孙继任，这与封建帝制已无多少差别，体现辛亥革命成果的资产阶级民主制度遭到破坏，“中华民国”只剩下一块空招牌。上述材料中，“辛亥革命成果”遭到破坏的时间是 ()

A. 民国元年

B. 民国二年

C. 民国三年

D. 民国四年

【拓展延伸】

1. 阅读材料，回答问题。
材料：倾覆满洲专制政府，巩固中华民国，图谋民生幸福，此国民之公意，文实遵之，以忠于国，为众服务。至专制政府既倒，国内无变乱，民国卓立于世界，为列邦公认，斯时文当解临时大总统之职。谨以此誓于国民。

中华民国元年元旦 孙文
——《大总统誓词》
材料中的“中华民国元年”是公元哪一年？结合所学知识指出上述誓词是在什么革命中出现的？利用材料内容完整指出孙文所遵循的革命理想是什么？

2. 近代中国人民为摆脱外来侵略，进行了救国救民的不懈探索。阅读下列材料，回答问题。

材料一：美国历史学家马士说：“当中国人实行一种激烈的禁烟运动而使危机加剧的时候，战争果然就到了。”
——摘自百度文库

21



材料二：对于许多未经历过帝王之治的青年，辛亥革命的政治意义又是常被过低估计的……因为他们没看到推翻几千年沿袭下来的专制政体是多么不易的一件事。

——摘自人民网

材料三：20世纪初，上海的女学生已经开始觉悟，抵制学校开设的修身课《女诫》或《列女传》等女学教材。他们常常聚在一起，为包办婚姻争得面红耳赤，后来由争论变成抗婚、逃婚，以实际行动反抗旧礼教，争取婚姻自由……为此，一场思想解放运动在全国展开了。……到1919年5月，五四运动爆发，爱国成为人们普遍关注的话题，思想解放之风进一步在全国传播开来，把先前的思想解放运动推向更深层次。

——摘编自1919年上海《良友》杂志和周策纵《五四运动史》

(1) 材料一中马士所说的“战争果然就到了”是指什么战争？这场战争发动者的目的是什么？

(2) 据材料二和所学知识，说明辛亥革命的政治意义是什么？辛亥革命后，孙中山改组的国民党为了培养革命骨干，建立一支可靠的革命军采取的重大举措是什么？

(3) 材料三中所说的20世纪初的“一场思想解放运动”是指什么？怎样看待材料三中上海女学生的言行？据材料三说明五四运动的突出贡献是什么？

3. 在中国近代历史上，先进的中国人不断进行救国道路的探索。阅读下列材料，回答问题。

材料一：中国文武制度，事事远出西人之上，独火器万不能及。……中国欲自强，则莫如学习外

国利器；欲学习外国利器，则莫如觅制器之器。

——摘自李鸿章《筹办夷务始末》

材料二：1905年，中国同盟会成立，其纲领为：驱除鞑虏，恢复中华，创立民国，平均地权。后来，孙中山在《民报·发刊词》上把这十六字纲领阐发为三民主义。

——改编自《中国近代史》

材料三：秋收起义后，毛泽东率部队到达井冈山，开展土地革命，进行武装斗争，努力发展生产，最终探索出一条正确革命道路，指引中国革命取得最终胜利。

——改编自《中国共产党的七十年》

(1) 分别概述材料一、材料二中的救国方案的核心内容。

(2) 材料三中的“正确革命道路”一般被称作什么道路？中国革命为什么会走这条道路？

4. 历史上每一次重大运动都有纲领性的口号或主张，它们体现着时代的印记。请根据下面内容探究有关问题。

口号或主张：①“师夷长技” ②三民主义 ③民主、科学 ④外争主权，内除国贼 ⑤停止内战，联共抗日

(1) ①②③的纲领分别指导了哪三次运动？请你选择其中一次运动的结局和影响作一简要评价。

(2) “外争主权，内除国贼”是中国近代一次重大运动中的口号。说出这一运动的性质及其对中国革命进程的影响。

(3) 1936 年 12 月,“停止内战,联共抗日”的主张得到了国共两党认可,这在当时产生的意义是什么?

(4) 请你为以上五个纲领性口号或主张拟定一个主题。

(三) 新民主主义革命的兴起 从国共合作到国共对立

【能力提升】

1 (2019·湖南郴州) 巴黎和会上中国外交代表顾维钧先生说:“我很失望!最高委员会无视中国人民的存在,出卖了作为战胜国的中国,我很愤怒!我很愤怒!你们凭什么?凭什么把中国的山东省送给日本人?中国人已经做到了仁至义尽,我想问问这份丧权辱国的和约,谁能接受?所以,我们拒绝签字!”这份“丧权辱国的和约”直接导致了()

- A. 五四运动的爆发
- B. 新文化运动的兴起
- C. 辛亥革命的爆发
- D. 中国共产党的成立

2 (2019·河北) 1925 年 3 月 12 日孙中山抱憾而逝,革命给民国并未带来预期的和平与秩序,民国时期较以前经历更多的痛苦与失序。但孙中山为进步奠定了基础,其追随者得以在此基础上继其遗业。材料中的“痛苦与失序”不包括()

- A. 武昌起义
- B. 袁世凯独裁统治
- C. 尊孔复古的逆流
- D. 北洋军阀混战

3 (2019·内蒙古呼和浩特) 右图最初是一本面向知识分子发行的杂志,最有可能刊登在这期杂志里的内容是()

- A. 蔡元培倡导兼容并包
- B. 陈独秀号召民主科学
- C. 胡适主张使用白话文
- D. 李大钊宣传十月革命



4 (2019·四川泸州) 在中国古文中没有第三人称的女性代词。提倡白话文以后,刘半农勇于破旧立新,以一句话为例,创造了“她”字——她说:“他来了,诚然很好;不过我们总要等她。”“她”字的创造反映了()

- A. 洋务运动创办新式学堂
- B. 戊戌变法改革科举制度
- C. 辛亥革命传播民主共和
- D. 新文化运动倡导文学革命

5 (2019·湖北荆门) 五四运动时期一篇文章这样写道:“君等四年以来之国耻纪念,至今仍有一线之良知,满腔热血存焉否乎?如有存也,请父告其子,姊告其妹……毋忘此国耻纪念日。”这主要体现了()

- A. 科学精神 B. 自由精神
- C. 民主精神 D. 爱国精神

6 (2019·山东济宁) 2019 年是五四运动爆发 100 周年。对下面材料解读不正确的是()

学生罢课半月,政府不惟不理,且对待日益严厉。乃商界罢市不及一日,而北京被逮之学生释;工界罢工不及五日,而曹、章、陆去。

——《上海学联告同胞书》

1919 年 6 月 12 日

- A. 这场运动在上海爆发
- B. 运动是由学生最先发起的
- C. 运动后期的主力军由学生转变为工人
- D. 这场运动取得了初步胜利

7 (2019·安徽) “国民政府秉总理之遗嘱出师北伐……革命成功唯一之要素,在得民众扶助。”这



次革命的重任是 ()

- A. 推翻清政府统治
- B. 反对袁世凯独裁
- C. 打倒列强除军阀
- D. 打败日本侵略者

8. (2019·甘肃天水)《毛泽东选集》中写道：“由于两党在一定纲领上的合作，发动了一九二四年至一九二七年的革命……在仅仅两三年之内，获得了巨大的成就。”“巨大的成就”是指 ()

- A. 创办黄埔军校
- B. 北伐战争取得重大胜利
- C. 成立南京国民政府
- D. 实现全国统一

9. (2019·四川内江)1927年10月，毛泽东率领秋收起义的队伍到达湘赣边界，并在1928年上半年，创建了第一块农村革命根据地，其名称和革命对象是 ()

选项	根据地名称	革命对象
A	晋察冀根据地	日本帝国主义
B	井冈山革命根据地	日本帝国主义
C	晋察冀根据地	国民党反动派
D	井冈山革命根据地	国民党反动派

10. (2019·山东青岛)伍修权在某次会议期间特作《七律·历史转折》一诗，表达他当时兴奋激动的心情：“娄山关前鏖战急，遵义城头赤帜竖。舵手一易齐桨橹，革命从此上新途。”这次会议是 ()

- A. 遵义会议
- B. 中共七大
- C. 中共十四大
- D. 中共十六大

11. (2019·山东威海)下面是为纪念长征胜利80周年发行的部分邮票中的画面，其中，成为党的历史上生死攸关的转折点的事件是 ()



A. 胜利会师



B. 遵义会议



C. 四渡赤水



D. 过雪山草地

12. (2019·浙江衢州)如图反映的是我国近代史上两次重要的历史事件，下列对这两次事件看法正确的是 ()



图一

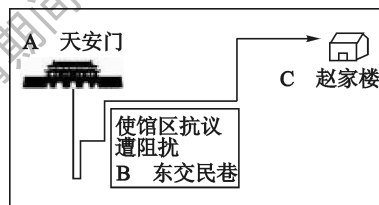


图二

- A. 始终坚持马克思主义为指导思想
- B. 图一事件将图二事件推向了高潮
- C. 图二事件加速了图一事件的步伐
- D. 都是发生在新民主主义革命时期

【拓展延伸】

13. (2019·浙江绍兴)百年五四，精神铸魂。阅读材料，回答问题。



5月4日学生游行路线示意图

(1) 请写出北京学生在图中A处或C处的主要活动，并指出东交民巷使馆区的设置源于哪一条约的规定。

(2) 请运用所学知识，联系下列史料(下图)，阐释五四运动中学生行为的正义性。



①学生口号



②拒签和约的报道



③参加示威的上海女学生

2 (2019·山东青岛) 近百年来,中国青年满怀爱国之心,积极投身中国共产党领导的革命、建设和改革伟大事业,谱写了一曲曲壮丽的青春之歌。阅读下列材料,回答相关问题。

材料一: 中国因1917年对德宣战与以后派遣劳工服役于战场,已站在战胜国一边……可是在凡尔赛,中国不仅无法分得任何胜利后果,反要将本身领土之完整作为特权转让去满足另一战胜国,这是前所未有的例子,也更令人发指。

——黄仁宇《中国大历史》

材料二: 5月4日,示威者散发传单申明中国人决不承认卖国贼将国家主权转让与人。他们游行到东交民巷,将通知送交各国使馆。

——黄仁宇《中国大历史》

(1) 材料一中的“反要将本身领土之完整作为特权转让去满足另一战胜国”具体是指什么?

(2) 材料二中的“示威者”主要指哪个群体? 根据材料分析这次运动的性质。

(3) 请你结合所学历史知识,以“传承中国精神”为主题,谈谈新时代的中国青年怎样才能成为中华民族伟大复兴的先锋力量,写一篇不少于200字的小论文。

要求: 题目自拟,观点明确,重点突出,史论结合,条理清晰。

(四) 中华民族的抗日战争

【能力提升】

1 (2019·四川自贡) 某校在校园文化建设中,准备推出一期“抗日战争”板报,设计“抗战爆发”“正面战场”“敌后战场”三个板块,下列可入选“抗战爆发”板块的是 ()

- A. 九一八事变
- B. 七七事变
- C. 百团大战
- D. 八一三事变

2 (2019·重庆A卷) 西安事变爆发后,有人主张将蒋介石“交付人民审判”,但中共中央认为应争取国民党亲英美派接受“停止内战、共同抗日”的主张,为此制定了和平解决西安事变的方针。这表现出中国共产党 ()

- A. 消除了与国民党的矛盾
- B. 以民族利益为重的伟大胸怀

- C. 开始组建东北抗日联军
- D. 努力维护抗日民族统一战线

3 (2019·山东淄博) 1937—1938年间山东省内发生了一系列起义(如下表)。这说明 ()

1937.10	无棣	冀鲁边起义
1937.11	聊城	鲁西北起义
1937.12	文登	天福山起义
1938.1	泰安	徂徕山起义
1938.3	枣庄	鲁南起义
1938.5	单县	湖西起义

- A. 山东军民呼应北伐战争
- B. 山东的土地革命如火如荼



- C. 齐鲁大地燃起抗日烽火
D. 国民党在山东统治的瓦解

4. (2019·浙江湖州) 嘉业堂藏书楼是民国以来中国规模最大的私家藏书楼。20世纪30年代, 为避免古籍因战乱而流失, 藏书楼主人刘承干将大部分珍贵书籍运往上海租界保存。这场战乱指的是

- ()
A. 甲午战争
B. 八国联军侵华战争
C. 北伐战争
D. 日本侵华战争

5. (2019·重庆A卷) 抗日战争期间, 重庆人民广泛开展了为抗战献金和献机的活动。1940年, 全市参加献金活动的有数十万人。1943年, 重庆妇女界捐献飞机13架。材料表明重庆人民

- ()
A. 踊跃参军参战保家卫国
B. 积极参与抗战的物质运输
C. 努力生产抗战军用物资
D. 支援前线抗战的热情高涨

6. (2019·重庆A卷) 1946年, 重庆经济面临崩溃。据不完全统计, 停产或半停产的工厂达1200家以上, 大量工人失业, 造成商业萧条。出现这一现象的原因是

①四大家族疯狂抢夺物资 ②美国大量倾销商品 ③一部分内迁工厂迁回原地 ④国民政府将重庆定为中华民国陪都

- A. ①②③ B. ①②④
C. ①③④ D. ②③④

7. (2019·江苏南京) “太平洋战争爆发后, 盟军在太平洋和东南亚地区受挫的情况下, 中国军队取得对日作战的胜利, 在国内外引起热烈反响。”材料评述的是

- ()
A. 台儿庄战役
B. 保卫大武汉
C. 百团大战
D. 第三次长沙会战

8. (2019·山东青岛) 《李宗仁回忆录》中写道: “我军人数虽少, 装备虽差, 但是我们是保国卫民与侵略者作殊死战的哀兵……加以我们在指挥上对本军量力而用, 上下一心对敌情判断正确, 发挥了内线作战的最高效能, 故有台儿庄的辉煌战果。”这个“辉煌战果”是

- ()
A. 粉碎了日军“不可战胜”的神话
B. 日本企图迅速灭亡中国的既定战略彻底破灭
C. 打破了日本三个月灭亡中国的迷梦

D. 抗战以来中国正面战场取得的最大一场胜仗

9. (2019·山东德州) 某同学利用网络进行自主学习, 他在搜索引擎输入如下关键词, 他最有可能正在学习的是

Baidu 敌后战场的抗战 百度一下

- A. 台儿庄战役
B. 保卫大武汉
C. 第三次长沙会战
D. 百团大战

10. (2019·四川自贡) 某校学生就“抗日战争胜利的原因”展开探究, 以下符合这一主题的是


()
①抗日民族统一战线建立和发展 ②辽沈、淮海、平津三大战役的胜利 ③正面战场与敌后战场相互配合 ④中国共产党的中流砥柱作用

- A. ①②③ B. ①②④
C. ②③④ D. ①③④

11. 丘吉尔在谈到中国远征军入缅作战时说: “如果日本进军西印度洋, 必然会导致我方在中东的全部阵地崩溃, 能防止上述局势出现的只有中国。”这一材料直接反映了

- ()
A. 全民族抗战是中国抗日战争胜利的根本保证
B. 中国抗日战争得到了世界人民的大力支持
C. 中国人民取得了反帝斗争的第一次完全胜利
D. 中国的抗日战争是世界反法西斯战争的重要组成部分

12. (2019·湖北孝感) 宣传画可以代表政府或某政府组织的态度。下列宣传画体现的政治态度是



- ()
A. 踊跃参军, 抗美援朝
B. 团结起来, 一致抗日
C. 联合英美, 坚持抗战
D. 发动民众, 支援北伐

13. (2019·四川泸州) 下页表是中华人民共和国民政部公布的《300名著名抗日英烈和英雄群体名录》(部分), 据此可知

姓名	身份	牺牲时间	牺牲原因
诺尔曼·白求恩	援华医疗队医生	1939 年	抢救伤员感染病毒
张自忠	国民革命军陆军第 33 集团军总司令	1940 年	枣宜会战
左权	国民革命军八路军副参谋长	1942 年	反“扫荡”
戴安澜	国民革命军陆军第五军 200 师师长	1942 年	赴缅参战

- ①中国的抗日战争开始时间最早且持续时间最长
②中国共产党在全民族抗战中发挥中流砥柱作用 ③
在抗日民族统一战线旗帜下国共两党合作抗日 ④抗日
战争是世界反法西斯战争的重要组成部分
- A. ①② B. ②④
C. ③④ D. ①④

【拓展延伸】

🌸 (2018·广西钦州) 近代以来，日本发动的侵华战争，给中国人民带来了深重的灾难。阅读下列材料，回答问题。

材料一：日本海军司令伊东祐亨致书大清北洋水师提督丁汝昌阁下：

时局变化太大了，我和阁下友谊不减，今天我给你写（劝降）信不是私仇，只为国事……清国海陆二军，连战连败，如果虚心平气考察一下，原因很简单。……清朝之所以会有今天的失败，不是某位大臣一己之罪呀，这都是因为你们朝廷上下墨守成规不知变通导致的。（注：此信写于 1895 年 1 月 23 日。19 天后丁汝昌自杀，此后北洋舰队全军覆没。）

——摘编自唐德刚《从晚清到民国》

材料二：



驻守宛平县城的中国军队奔赴前线

材料三：在中华民族危机空前严重的时刻，国共两党实现了第二次合作，正式建立抗日民族统一战线，领导全民族的抗战。经过浴血奋战，中国人民克服了重重困难，付出了巨大牺牲，终于同美、英、苏等反法西斯同盟国一道打败了日本帝国主义，取得了抗战的最后胜利。

——摘编自中华书局版《中国历史》

(1) 材料一的这封信写于哪次战争期间？这次战争失败后，清政府被迫签订了什么条约？从材料看，伊东祐亨认为“清朝之所以会有今天的失败”的原因何在？

(2) 材料二照片记录的情景与日本侵略者制造的哪一事变有关？这一事件有何影响？

(3) 根据材料三并结合所学知识，概括指出中国取得抗战胜利的原因。结合所学知识，你认为中国军民在抗战过程中表现出了哪些优秀品质？

🌸 (2017·广东) 19 世纪末以来，中国人民为民族独立和国家富强不断奋斗，中国国际地位日益提升。阅读下列材料，回答问题。

材料一：一年前（1894 年）郑观应还只能把他的书名称作《盛世危言》；一年后，严复就在《救亡决论》中第一次呼唤“救亡”这一口号，要求通过



改革改变现状，寻求新的出路。
——金冲及《20 世纪中国史纲》

材料二：

北洋政府为解决山东问题的系列外交活动

年份	外交大事
1917 年	中国对德宣战，为收回利权，积极参与和会
1918 年	为能参与和会争取主动，中国倾向联美制日
1919 年	参加巴黎和会，中国收回利权的要求遭拒绝

材料三：1943 年 12 月 1 日，《开罗宣言》正式发表，宣称：（苏、美、英）三国之宗旨……在使日本所窃取于中国之领土，例如东北四省、台湾、澎湖群岛等，归还中国。

——王建朗《两岸新编中国近代史》（上）

材料四：进入 21 世纪，中国的国际地位被认为已达到 19 世纪以来之巅峰……（因）中国日益增加的经济、军事和政治的巨大实力……西方人认为中国是亚太地区的区域性强国。

——徐中约《中国近代史：1600—2000 中国的奋斗》

（1）根据材料一并结合所学知识，指出引发“救亡”口号提出的事件。这一事件对中华民族产生了怎样的影响？

（2）根据材料二，概括北洋政府外交活动的目的是什么？其“要求遭拒绝”在中国社会引起了什么反响？

（3）对比材料二和材料三，国际社会对中国所提出的领土主权要求的态度发生了什么变化？结合所学知识分析这一变化的原因有哪些？

（4）综合以上四则材料，指出促成中国国际地位提高的主要因素。

3 阅读材料，完成下列要求。

材料：对于中国近代史的基本线索，有学者认为从 1840 年起 110 年的历史，就是西方侵略的冲击，以及中国有识之士为应对冲击开展的抗争和探索。历次侵略战争都对中国造成了严重冲击，在这样的冲击之下中国政治、经济、思想领域发生了变革，即“冲击——反应”模式。

（1）举出近代前期（1840—1919）“冲击——反应”的相应历史事件两例，并作简要解释。（不得照抄本题示例）

[示例]

事件：鸦片战争——魏源主张开眼看世界。

解释：鸦片战争失败后，思想家魏源等认识到闭关锁国政策的危害和中国的落后，主张学习外国的长处，他编成《海国图志》，主张“师夷长技以制夷”。

（2）历史学习中，常常需要认识历史事件的因素联系，以揭示历史发展的进程。请你写一段 150 字左右的短文，包含“九一八事变”“西安事变”“七七事变”“抗日民族统一战线建立”四个事件，体现抗日战争由局部抗战到全面抗战的发展过程。

(五) 人民解放战争

【能力提升】

1. (2019·四川南充) 有一首诗这样写道：“天下安危系一身，弥天大勇壮军威。双十协定应运生，中华民主沉浮。”该诗反映的历史事件是 ()

- A. 西安事变
- B. 重庆谈判
- C. 淮海战役
- D. 解放南京

2. (2019·四川凉山) 1947年，中共中央公布了一个彻底的反封建的土地革命纲领是 ()

- A. 《中华人民共和国土地改革法》
- B. 《中华人民共和国经济法》
- C. 《家庭联产承包责任制》
- D. 《中国土地法大纲》

3. 蒋介石认为中共某一军事举动“东可威胁京畿（指南京），西可威胁武汉，南可阻碍长江运输，在战略上对于国民政府来说，是一个很大的顾虑”。此军事行动 ()

- A. 标志着解放战争的开始
- B. 解放了长江以北的地区
- C. 揭开了战略反攻的序幕
- D. 结束了国民党反动统治

4. 了解因果关系，是历史学习的基本要求之一。以下因果关系表述错误的是 ()

- A. 洋务运动——为中国的近代化开辟了道路
- B. 辛亥革命——结束了我国两千多年的封建制度
- C. 西安事变和平解决——抗日民族统一战线初步形成
- D. 刘邓大军挺进大别山——人民解放军转入战略进攻

5. 1948年辽沈战役中，某国民党军官在锦州被解放军俘获后，感叹说：“锦州好比一条扁担，一头挑东北，一头挑华北，现在是中间折断了。”据此可知，解放军攻克锦州 ()

- A. 截断了东北国民党军队的退路
- B. 为解放长江以南各省奠定了基础
- C. 基本消灭了国民党军队的主力
- D. 宣告了国民党在大陆统治的覆灭

6. (2019·湖南岳阳) 解放战争时期，三大战役基本消灭了国民党军队的主力，奠定了人民解放战争在全国的胜利的基础。三大战役是指 ()

- ①辽沈战役 ②渡江战役 ③淮海战役 ④平

津战役 ⑤台儿庄战役

- A. ①③④
- B. ①②③
- C. ③④⑤
- D. ②④⑤

7. (2019·江苏盐城) 4月23日的那一晚，整个南京城的人们恐怕都难以入眠，等待着这个城市的又一次历史交替，国民党的军队和警察都撤了……与上述情景相关的战役是 ()

- A. 辽沈战役
- B. 淮海战役
- C. 平津战役
- D. 渡江战役

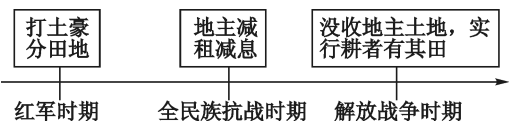
8. (2019·山东济宁) 下列战役，发生在解放战争时期的有 ()

- ①淞沪会战 ②渡江战役 ③淮海战役 ④孟良崮战役
- A. ①②③④
- B. ②③④
- C. ①③④
- D. ①②④

9. (2019·山东烟台) 淮海战役的胜利 ()

- A. 标志着人民解放军转入战略进攻
- B. 使东北全境解放
- C. 奠定了解放长江以南各省的基础
- D. 标志着国民党政权垮台

10. (2019·山东潍坊) 下列年代尺反映了中国共产党在不同时期的土地政策。这表明中国共产党 ()



- A. 不断扩大农村革命根据地
- B. 放弃攻打中心城市计划
- C. 建立根据地抗日民主政权
- D. 重视发挥农民革命作用

【拓展延伸】

结合图片，回答下列问题。



图一

图二

(1) 与图一、图二相关的历史事件分别是什么？



(2) 这两个历史事件有何共同之处？

2 中国近现代历史丰富多彩，外国学者用自己的眼光看待这一变化。阅读材料，回答问题。

自从帝国主义势力在中国的影响日益强大，一个民族反对派开始出现。多次起义失败后，国内的不满情绪终于在1911年凝聚成了一场革命，皇帝不得不退位，中国成了共和国。

各种不同的派别都想按照自己的意愿改造这个国家。《新青年》派从马克思主义中看到了希望。1921年夏，他们成立了中国共产党，领袖是毛泽东（1893—1976）。他虽然遵循马克思和列宁的学说，但主张走中国自己的道路。

（共产党和国民党）两个政治阵营都组建了自己的军队，相互进行了多年的战争……在1946年爆发的内战中，共产党得到了千百万农民的支持，战胜了国民党。1949年10月1日宣告中华人民共和国成立。

——摘编自 [德] 曼弗雷德·马伊《世界历史》

(1) 材料中提及哪几个重要历史事件？

(2) 结合材料和所学知识，指出中国共产党取得革命胜利的原因。

(3) 材料对于“1946年爆发的内战”叙述简略，请你提供三件事供其补充时使用（每件事写出名称即可）。

3 在近代中国的历史进程中，面对西方列强的入侵，无数仁人志士上下求索，探寻中华崛起之路。阅读材料，回答问题。

【器物之路】

材料一：19世纪60年代，洋务派采用西方生产技术，创办了一批近代企业，著名的有安庆内军械所、江南制造总局等。这些企业经费由清政府调拨，产品分配给军队。19世纪70年代，洋务派创办了另一批企业，如轮船招商局、汉阳铁厂等，他们希望通过创办这类企业，将产品投放市场，同外国人竞争，“分洋商之利”。

(1) 根据材料分析，19世纪60年代和70年代洋务派创办的企业有什么不同？器物探索之路有何意义？

【制度变革】

材料二：1895年，北京1000多名举人在“公车上书”的呐喊声中展示了近代先进知识分子的觉醒，也由此揭开了一场政治变革运动的序幕。

材料三：革命尚未成功，同志仍须努力！

——孙中山

(2) 材料二中“政治变革运动”指什么？材料三中的“革命”有何历史贡献？为什么孙中山还说“革命尚未成功”？

【思想解放】

材料四：在中国近代化探索的历程中，中国人首先学习西方的技术，结果甲午一战，证明只学技术不好使……所以就开始学制度。学制度问题又更大了……那么好的制度拿到中国来就变样……后来中国人就开始琢磨最该彻底改变的是中国人的思想。

(3) 为了改变中国人的思想，知识分子掀起了什么运动？随着运动的深入发展和国际新形势的出现，他们宣传的思想又有了什么新发展？

【新的征程】

材料五：1921年中国共产党诞生，带领中国人民经历28年艰苦卓绝的奋斗，建立新中国，并逐步走上了社会主义道路。这是中国近代历史上最深刻、最伟大的社会变革。

(4) 新中国的成立在中国近代探索历程中有何重要意义？

(5) 综合上述材料，近代化道路的探索过程给了我们什么启示？

(六) 近代经济、社会生活与教育文化事业的发展

【能力提升】

1 (2019·湖南怀化) “他一生孤独，最大的精神支撑是内心崇高的社会理想，是一个状元告别仕途后仍念念不忘的兴国之梦。”这是对晚清状元张謇的真实评价，其“兴国之梦”是指 ()

A. 实业救国 B. 民主科学
C. 民主共和 D. 变法图强

2 毛泽东曾经说过：“讲到重工业不能忘记张之洞，讲到轻工业不能忘记张謇。”下列关于两人共同点的表述，正确的一项是 ()

A. 都是洋务派的地方代表
B. 都大力主张“实业救国”
C. 都为中国近代工业的发展做出了贡献
D. 都提出了“自强”和“求富”的口号

3 近代以来很多仁人志士都有自己最重要的选择，康有为选择了变法，孙中山选择了革命，张謇选择了实业。三人的选择都是为了 ()

A. 推翻清朝统治
B. 实行君主立宪制
C. 挽救民族危亡
D. 建立民主共和国

4 学习历史要求我们思考原因与结果的关系，以获得合理的历史解释。下列因果关系对应正确的是 ()

选项	因	果
A	南昌起义爆发	清王朝土崩瓦解
B	日本制造卢沟桥事变	东北三省完全沦陷
C	刘邓大军挺进大别山	人民解放军转入战略进攻
D	第一次世界大战爆发	中国民族工业处于崩溃边缘

5 (2019·甘肃天水) 近代中国历史最长、规模最大的文化出版机构是 ()



- A. 京师同文馆
- B. 商务印书馆
- C. 《民报》报社
- D. 《申报》报社

6 (2019·江苏盐城) 第二次世界大战即将结束之际,《义勇军进行曲》赫然名列在盟军凯旋的曲目表中,其作曲者是 ()

- A. 田汉
- B. 冼星海
- C. 聂耳
- D. 徐悲鸿

7 (2019·湖北孝感) 梁实秋在《过年》一文中曾回忆,早在民国建立前一两年,家中除岁方式已然做了“维新”。“我不再奉派出去挨门磕头拜年,我从此不再是磕头虫儿。”促使春节习俗变化的主要是因为 ()

- A. 辛亥革命使民主共和观念深入人心
- B. 西方文化和民主思潮的影响
- C. 民国政府移风易俗,革除陋习
- D. 新文化运动的影响

8 近代中国海禁大开,外来事物从四面八方滚滚而来,逐渐改变了人们的社会生活。下列现象不可能出现在20世纪20年代初北京居民日常生活中的是 ()

- A. 出行可以乘坐火车
- B. 可以用上詹天佑研制的纯碱
- C. 可以看到无声电影
- D. 用电报和亲友联系

9 某导演筹拍电视连续剧《1908年北京故事》,剧本中有以下场景,你认为其中明显的历史错误有几处? ()

①几个来京参加科举考试的读书人正在找客栈住宿 ②何先生到东交民巷看望父母 ③王先生在街上遇到两个京师大学堂的学生 ④朋友相见多行握手、鞠躬礼 ⑤清军到处搜捕革命党人,见到剪了辫子的就重点盘查

- A. 两处
- B. 三处
- C. 四处
- D. 五处

10 报纸、杂志是人们获取信息,了解社会,进行舆论宣传的重要工具。下列表述有误的是 ()

- A. 鸦片战争后,在北京创办的《申报》是近代中国最著名的中文报刊
- B. 孙中山在《民报》发刊词中,把同盟会纲领阐发为“三民主义”
- C. 陈独秀等以《新青年》杂志为主要阵地,掀起新文化运动
- D. 李大钊创办《每周评论》,宣传马克思主义

11 一部反映19世纪末期中国某富商家族兴衰历史的电视剧正在热播,剧中有这样几组镜头,你认为其中与史实不相符的是 ()

- A. 镜头一:商人在街头谈论科举制的废除
- B. 镜头二:商人的儿子在京师大学堂读书
- C. 镜头三:商人正在读《申报》,了解新闻
- D. 镜头四:商人见到政府官员称“老爷”“大人”

12 近代以来,随着时代的发展,教育方式和社会生活也在发生着变化。关于以下四幅图的说法,正确的一项是 ()



图一



图二



图三

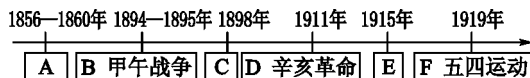


图四

- A. 图一是创办于广州的近代中国最著名的中文报纸
- B. 图二是在南京创办的近代中国历史最长、规模最大的文化出版机构
- C. 图三是中国近代第一所国家建立的最高学府
- D. 图四人物主持修建了近代中国第一条正式投入运营的铁路——京张铁路

【拓展延伸】

1 【图解历史】阅读材料,回答问题。



【注】中国产业工人:1894年约10万,辛亥革命前约50万~60万,五四运动前约200万。

(1) 写出发生在A处与B处之间体现近代化的重大历史事件。

(2) 分析从C处、D处到E处,中国近代化探

索的内容发生了什么变化？

(3) 指出 1919 年工人阶级登上历史舞台与近代民族工业发展的关系。

(4) 结合近代中国国情，分析中国近代化道路始终与“救亡图存”相结合的原因。

2 中国企业自诞生起，即以国强民富为己任，助推国家发展、民族复兴。阅读材料，回答问题。

材料一：



材料二：光绪七年（1881）李鸿章奏称：“该局船不时驶往东南两洋，今且频频开驶赴西洋之先路。直、晋、豫等省旱灾之时，该局船承运赈粮，源源接济，救活无数灾民。往岁台湾、烟台之役，近日山海关、洋河口之役，该局船运送兵勇迅赴机宜，均无贻误，洵于时事大局有裨。”

——朱荫贵《朱荫贵论招商局》

材料三：“抗日战争期间，招商局广大员工深明大义……在江阴、上海十里铺、马当等六处沉船塞港，招商局共献出船舶 18 艘……招商局员工冒着敌人的炮火，日夜兼程，抢运人员物资入川，千方百计开展敌后军事运输与商货运输，为争取抗战的最后胜利竭尽了全力。”

——张后铨《试论招商局在中国近代化进程中的作用》

材料四：1978 年中国进入改革开放的新时代，招商局再次勇立潮头，独资开发了中国第一个对外开放的工业园区——蛇口工业区，并相继创办了招

商银行、平安保险、中集集团等一大批知名企业……反映了中国企业在中国近现代历程中的精神与风貌，因而“极具标本价值”。

——李建红《书写中国自己的企业史》

(1) 根据材料一，指出“招商局”的诞生与哪一重要历史事件有关？结合所学知识指出这一重要历史事件的地位。

(2) 根据材料二，概括招商局有益于“时事大局”的依据。

(3) 根据材料三，归纳招商局“大义”的主要表现，并指出“大义”之举在当时的历史作用。

(4) 根据以上材料，指出招商局跨越了哪几个历史阶段？谈谈你对招商局“极具标本价值”这一结论的理解。

3 近代以来，铁路成为现代化的代名词，许多历史人物以此寄寓理想和追求。阅读材料，回答问题。

材料一：李鸿章明确提出铁路乃自强根本，是修筑铁路的积极主张者。19 世纪 70 年代，他在致友人的一封信中说：“我曾拜谒过恭亲王（奕訢），向他说明修筑铁路的好处。他也深以为然，但却说没有人敢牵头主持修路事宜。我又恳请他向两宫皇太后禀明，他说她们受到的压力很大，也不能决定是否该支持修筑铁路，自此就再也没有下文了。”



——摘编自徐中约《中国近代史》

(1) 据材料并结合所学知识，说明李鸿章主张修筑铁路的目的，概括材料反映的时代特点。

材料二：辛亥革命后，孙中山认为民族、民主革命俱已完成，遂积极倡导铁路建设。他曾说：“国家之贫富，可以铁道之多寡定之；地方之苦乐，可以铁道之远近计之……修筑铁路，实为目前唯一之急务。民国之生死存亡，系于此举。”他提出了修筑10万英里（约16万千米）铁路的宏图伟略，但整个民国时期不过勉强修筑了区区1万余千米。

——摘编自岳麓书社《经济成长历程》

(2) 据材料二，概括孙中山对铁路作用的认识。结合所学知识，指出其“宏图伟略”在民国时期难以实现的原因。

材料三：1978年10月22日至29日，邓小平正式访问日本。这次访日正值中共十一届三中全会前夕，作为中国改革开放的总设计师，他心中正在勾画着改革开放的宏伟蓝图。10月26日，邓小平乘坐新干线高速列车，有记者问他有何感想，他说：“就感觉到快，有催人跑的意思，我们现在正合适坐这样的车……我们现在很需要跑。”

——据央视大型文献纪录片《旗帜》

(3) 据材料三并结合所学知识，应怎样理解“我们现在很需要跑”？我们是如何“跑”起来的？

板块三 中国现代史

(一) 中华人民共和国的成立和巩固

【能力提升】

1. 刘少奇在某次政协会议上指出：“这是目前时期全国人民的大宪章。”“它是如此的坚定明确，清楚地指出了哪些事是应该做而且必须做的，哪些事是不应该而且不允许做的。”被刘少奇称为“大宪章”的是 ()

- A. 《中华民国临时约法》
- B. 《中国人民政治协商会议共同纲领》
- C. 《中华人民共和国宪法》
- D. 《土地改革法》

2. (2019·湖北荆州) 1949年9月下旬，毛泽东在中国人民政治协商会议第一届全体会议开幕式上庄严宣告：“我们的工作将写在人类的历史上，它将表明：占人类总数四分之一的中国人从此站立起来了。”“中国人从此站立起来了”的含义是 ()

- A. 三大改造顺利完成
- B. 实现民族独立和人民民主
- C. 开始向工业化迈进
- D. 人民解放军转入战略进攻

3. 杨凯在《中国梦的方位》中说：“洋务派、改良派、立宪派、国民党、共产党……一路走到1949年，五星红旗迎风飘扬，中国人民站起来，中国梦的基础牢靠起来。”那么，“中国梦的基础牢靠起来”的依据是 ()

- A. 中华人民共和国成立
- B. 渡江战役胜利
- C. 社会主义制度基本建立
- D. “一五”计划完成

4. 下面两幅图片反映了20世纪上半期中国社会的两次历史性巨变。其共同点是 ()



图一 南京临时政府成立




图二 开国大典

- A. 实现了中华民族的独立
- B. 实现了人民当家作主

- C. 推动了中国民主化进程
- D. 结束了封建君主专制

5. 下图拍摄于1951年，结合图片内容给它起一个符合实际的名称 ()



- A. 人民解放军攻占布达拉宫
- B. 西藏和平解放办法签订仪式
- C. 人民解放军和平进驻拉萨
- D. 西藏僧、民欢迎解放军进驻

6. 美国将军克拉克在回忆录中说：“我获得了一项不值得羡慕的荣誉，我是美国历史上第一位在没有取得胜利的停战协定上签字的司令官。”令克拉克将军遗憾的这场战争是 ()

- A. 第一次世界大战
- B. 世界反法西斯战争
- C. 美国独立战争
- D. 抗美援朝

7. 下表中对历史史实因果关系的表述对应正确的是 ()

选项	因	果
A	第一届政协会议的召开	中国真正成为独立自主的国家
B	西藏和平解放	祖国获得统一，各民族实现了大团结
C	抗美援朝战争的胜利	大大提高了中国的国际地位
D	土地改革的完成	我国进入社会主义初级阶段

8. 实现好、维护好广大农民群众的根本利益历来是中国共产党农村工作的重中之重。辽宁省某县



农民在给毛泽东主席的一封信中说：“我们祖祖辈辈做梦都在想着有一天自己能有三亩五亩的地……现在这个梦想实现了。”农民实现“这个梦想”的途径是 ()

- A. 加入农业生产合作社
- B. 开展土地改革运动
- C. 参加“大跃进”运动
- D. 实行家庭联产承包责任制

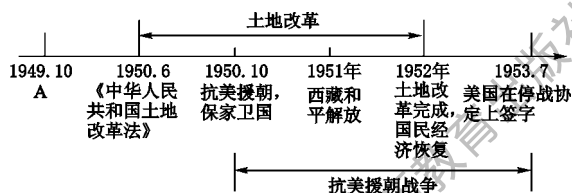
9. 阅读历史书籍需要关注章节标题，从而把握内容的主旨。根据图中的内容，你认为最适当的标题是 ()

第一节 中国人民站起来了
第二节 抗美援朝，保家卫国
第三节 土地改革

- A. 中华人民共和国成立
- B. 新中国的成立和巩固
- C. 社会主义道路的探索
- D. 建设中国特色社会主义

【拓展延伸】

1. 观察下列年代尺，回答问题。



(1) 写出发生在年代尺 A 处的重大历史事件，这一事件对当时的国际格局产生了什么重大影响？

(2) 土地改革和抗美援朝是在怎样的背景下发生的？

(3) 此阶段年代尺反映了怎样的时代特征？

2. 阅读下列材料，回答问题。

材料一：1949年3月23日，毛泽东率中央机关离开西柏坡前往北平。出发时，毛泽东回过头来对周恩来说，今天是进京的日子，进京“赶考”去。

周恩来笑着答应，我们应当都能考试及格，不要退回来。毛泽东说，退回来就失败了。我们决不当李自成，我们都希望考个好成绩。

材料二：在朝鲜的每一天，我都被一些东西感动着，我的思想感情的潮水，在放纵奔流着。它使我想把一切东西都告诉给我祖国的朋友们。但我最急于告诉你们的，是我思想感情的一段重要经历，这就是：我越来越深刻地感觉到谁是我们最可爱的人！

——魏巍《谁是最可爱的人》

材料三：废除地主阶级封建剥削的土地所有制，实行农民的土地所有制。

——《中华人民共和国土地改革法》

(1) 材料一中，“进京‘赶考’”是什么意思？

(2) 魏巍认为“谁是最可爱的人”，为什么？

(3) 根据材料三法律文件，农民得到了哪些实惠？

(4) 以“1949—1953年”的史实为例，说明毛泽东等人的“考试”成绩如何？

3. 新中国成立初期短短的三年内，经受了军事、政治、经济等方面的严峻考验，巩固了新生的人民政权。让我们一起来探究这段历史。

任务一 图说历史



图一



图二

(1) 图一为中国人民政治协商会议第一届全体会议会址。这次会议通过的起临时宪法作用的纲领性文件是什么？

(2) 请为图二图片作注。

(3) 写出图一、图二所反映重大事件之间的关系。

任务二 读文说史

材料一：新中国成立前，中国的土地制度极不合理。占乡村人口不到 10% 的地主和富农，占有 70%~80% 的土地；而占乡村人口的 90% 的贫农、雇农和中农，却只占有约 20%~30% 的土地，他们终年劳作，仍不得温饱。

材料二：1950 年，朝鲜内战爆发。美国即采取武装干涉政策，并把战火烧到鸭绿江边，对我国东北边境的城市和乡村实行狂轰滥炸，严重威胁着我国的安全。

——改编自课本

(4) 根据上述材料，结合所学知识，自拟题目，写一篇 150 字左右的小短文。

任务三 反思历史

(5) 新中国的成立标志着中国新民主主义革命的胜利。谈谈新民主主义革命胜利的原因。

(二) 社会主义制度的建立与社会主义建设的探索

【能力提升】

1 下图所反映的经济建设成就是我国工业发展史上的奇迹之一，使长春市成为我国具有战略意义的工业城市。该成就出现于 ()



第一辆解放牌汽车试制成功

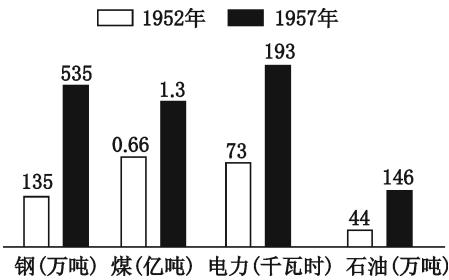
- A. 20 世纪 50 年代 B. 20 世纪 60 年代
C. 20 世纪 70 年代 D. 20 世纪 80 年代

2 (2019·聊城) “一五”计划期间，我国以苏联帮助兴建的 156 个项目为中心，先后施工 1 万多个工业项目。这些项目的实施意义重大，主要表现在 ()

- A. 促进了国民经济的恢复

- B. 保障了土地改革的完成
C. 奠定了工业化的初步基础
D. 标志着三大改造的结束

3 促使下图中我国工业主要产品产量变化的因素有 ()



① “一五”计划的顺利实施 ② 工业生产“以钢为纲”
③ 人民建设新中国的热情 ④ 苏联对工业项目的援建

- A. ①②③ B. ①②④



- C. ①③④ D. ②③④

4. “青春、健康，无挂无碍的农业社里的生活，同男子同工同酬的满意的工分……无一不是她们快乐的源泉。”这是作家周立波写于1957年的小说《山那面人家》中的片段。文中的“农业社”是指 ()

- A. 农民的个体经济组织
B. 农业生产的合作社组织
C. 人民公社的生产组织
D. 个人承包制的经济组织

5. “恒源祥”创始人沈莱舟曾对子女说：“现在我把厂都交给了国家，由国家去经营管理，我坐在家里不用花一点心思收股息，这又有什么不好？”这反映的是 ()

- A. 土地改革运动 B. 全行业公私合营
C. 手工业合作化 D. 人民公社化运动

6. (2019·甘肃武威) “英雄者，国之干，族之魂。”他出生于甘肃玉门，身上体现出来的“铁人精神”激励了一代代的石油工人，他是一个为民族争光争气、顶天立地的民族英雄。他是 ()



A



B



C



D

7. (2019·山东菏泽) 社会主义建设时期，涌现出了一批“感动中国”的英雄模范人物。王进喜、焦裕禄、雷锋、邓稼先成为这个时代的典型和象征。他们身上共同体现了 ()

- A. 开天辟地、立党为公的精神
B. 不怕牺牲、乐观主义的精神
C. 保家卫国、英雄主义的精神
D. 艰苦创业、无私奉献的精神

8. 时代特点会在社会生活的方方面面留下烙印，下面具有鲜明时代特征的名字出现的先后顺序是 ()

- ①任建国 ②张文革 ③李援朝 ④刘跃进

- A. ①②③④ B. ②①④③
C. ①③④② D. ④③②①

9. 1956—1966年是我国“探索社会主义道路”的十年，下列全面反映这一时期历史阶段特征的是 ()

- A. 遭到新中国成立以来最严重的挫折和失误
B. 社会主义经济持续和稳定发展
C. 自力更生、艰苦奋斗是时代主题
D. 正确与失误、成就与挫折共存

10. 下面是某同学整理的学习笔记，其反映的主题是 ()

1950年土地改革
武汉长江大桥
农业生产合作社

- A. 巩固新生政权
B. 新中国的建设
C. “一五”计划成就
D. 伟大的历史性转折

11. (2019·山东威海) 《人民日报》元旦社论见证了时代风云、书写了社会变迁，勾勒出国家民族发展的历史轨迹。依据所学知识判断，1967年《人民日报》元旦社论的标题应该为 ()

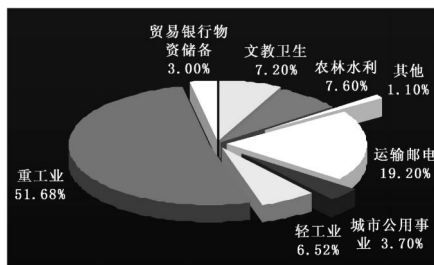
- A. 《将革命进行到底》
B. 《把无产阶级“文化大革命”进行到底》
C. 《把主要精力集中到生产建设上来》
D. 《迈进光辉灿烂的新世纪》

12. (2019·广西贵港) 邓小平指出：“过去的成功是我们的财富，过去的错误也是我们的财富。我们根本否定‘文化大革命’，但应该说‘文化大革命’也有一‘功’，它提供了反面教训。”这个“反面教训”是 ()

- A. 坚持“两个凡是”的方针
B. 急于求成，忽视了客观的经济规律
C. 过度依赖苏联政府
D. 以阶级斗争为纲和严重的个人崇拜

【拓展延伸】

1. 读图，回答问题。



图一 “一五”计划基本建设投资比重分配表


	1957 年产量	比 1952 年增加	比历史最高年产量增加
粮	1.95 亿吨	19%	30%
棉	164 万吨	26%	93%
钢	535 万吨	296%	580%
煤	1.3 亿吨	96%	210%
电	193.4 亿千瓦时	166%	320%
原油	146 万吨	235%	—

图二 1957 年工农业产品产量

(1) 从图一中你能得到哪些信息？分析图二中我国工农业产品产量变化的原因。



图三 北方某农村大办公共食堂的情景



图四 肥猪赛大象

(2) 图三情景出现在哪一历史时期？图四反映了这一时期的什么现象？

(3) 谈谈我们应从这段历史中吸取哪些经验教训。

民主法治是国家治理的基础、发展的保障。阅读下列材料，回答问题。

材料一：中华人民共和国境内各民族一律平等，实行团结互助……各少数民族聚居的地区，应实行民族的区域自治，按照民族聚居的人口多少和区域大小，分别建立各种民族自治机关。

——《中国人民政治协商会议共同纲领》

材料二：1953 年 1 月，中央人民政府决定成立以毛泽东为主席的中华人民共和国宪法起草委员会。宪法起草委员会经过一年多的努力，完成了宪法草案初稿，在此基础上又进行了历时 3 个月上亿民众参加的讨论、修改。1954 年 9 月，第一届全国人民代表大会召开，颁布了《中华人民共和国宪法》。

——摘编自郭大钧《中华人民共和国史》

材料三：从 1949 年到 20 世纪 50 年代中期，是中国社会主义法制的初创时期。这一时期中国制定了《中国人民政治协商会议共同纲领》和其他一系列法律、法令，对巩固新生的共和国政权，维护社会秩序和恢复国民经济，起到了重要作用。

在“文化大革命”开始后的 8 年时间里，全国人大及其常务委员会没有举行过一次会议，地方各级人民代表大会也被迫停止了活动。……各民主党派中央和地方组织的许多负责人遭到批判和斗争，各级政协相继停止了一切活动。

20 世纪 70 年代末，中国共产党总结历史经验，明确了一定要靠法治治理国家的原则。在发展社会主义民主、健全社会主义法制的基本方针指引下，现行宪法等一批基本法律出台，中国的法制建设进入了全新发展阶段。

——摘自国史网

(1) 依据材料一、材料二，写出新中国的主要政治制度。

(2) 根据材料二，概括《中华人民共和国宪法》起草过程的突出特点。该宪法出台之前，哪一文献起到了临时宪法的作用？



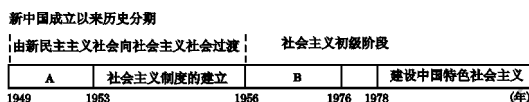
(3) 根据材料三，概述中国社会主义法制的进程。

(4) “文化大革命”期间，我国哪些政治制度遭到破坏？我们应从这段历史中吸取怎样的教训？

3. 新中国成立后，我国为实现工业化做出了不懈的探索。王老师以“艰辛探索与建设成就”为主题设计了下面的学习任务单。请你完成相关学习任务。

任务一 【时空观念——了解时代特点】

(1) 请将下面年代尺中 A、B 时期的时代特征补充完整。



任务二 【历史解释——阐述建设成就】

(2) 1953—1956 年，是我国建设文明国家的重要节点。结合年代尺信息及所学知识，自拟题目，写一篇 150 字左右的小短文。

任务三 【史料实证——吸取经验教训】

材料：60 年来奇迹和力量铸就的中国模式，不是一蹴而就的天方夜谭，而是在中国共产党领导下，在挫折、失误的曲折探索中形成的，是在改革开放中焕发生机并成熟的。在改革开放前的 30 年，我们尽管经历过严重脱离经济发展规律的“超英赶美”的“大跃进”，我们尽管遭遇过“文化大革命”致使国民经济濒临崩溃边缘，使我们失去了参与亚太经济腾飞的时机，但即使在这 30 年里，中国经济依然建立起了门类基本齐全的工业体系，为后来的发展奠定了物资技术基础，培养、造就了经济建设的骨干队伍。毫无疑问，如果失误小一点，弯路少一点，中国的经济和社会进步的成就将更大。

——摘编自《梦想与光荣：60 年强国之路》

(3) 请以史实说明改革开放前的 30 年，中国工业化建设的成就。

(4) 中国的经济建设既有成功的经验，也有失误的教训，你从中得到了怎样的认识？

(三) 中国特色社会主义道路

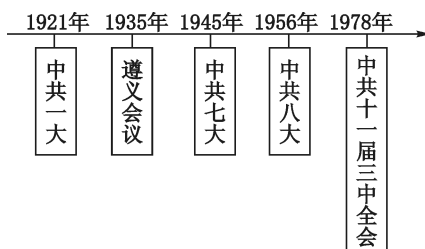
【能力提升】

1. 十一届三中全会是新中国成立以来党的历史上具有转折意义的会议，“转折”体现在 ()

- A. 从旧民主主义革命转向新民主主义革命
- B. 党的工作重心从城市转向农村
- C. 从“阶级斗争为纲”转向以经济建设为中心
- D. 挽救了党，挽救了中国革命

2. 年代标尺有助于我们了解事件的先后顺序和发展历程。下面是一位同学设计的年代标尺，这位

同学探究的课题是 ()



A. 新民主主义革命的探索

- B. 社会主义道路的探索
- C. 共产党在探索中逐渐成熟
- D. 中国近代化的艰难起步

3. (2019·江苏南京) 小岗村“大包干”带头人之一的严金昌曾说：“过去在生产队，上工一条龙，干活大呼隆，干多干少一个样，都是10分工……出勤不出力，光工分多有什么用呢？”他的诉说，表达了 ()

- A. 土地改革后的喜悦
- B. 对农业合作化的思考
- C. 对农村改革的肯定
- D. 国企改革前夕的期盼

4. (2019·广东) 邓小平说：“这些年来搞改革的一条经验，就是首先调动农民的积极性，把生产经营的自主权利下放给农民。”下列能够体现这一主张的是 ()

- A. 农业合作社
- B. 农业集体化
- C. 人民公社
- D. 家庭联产承包责任制

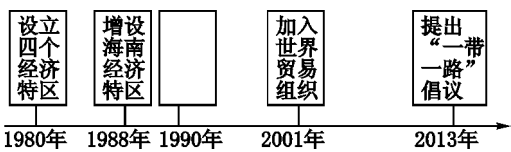
5. (2019·山东聊城) 1980年12月11日，温州市鼓楼工商所向章华妹颁发了由温州市工商行政管理局盖章的营业执照。这是改革开放后中国大陆第一份个体营业执照。这表明 ()

- A. 农村经济体制改革深化
- B. 国有企业改革起步
- C. 个体经济取得合法地位
- D. 市场经济体制确立

6. (2019·山东青岛) 2019年4月，智利总统在中国访问期间，考察了被称为对外开放“窗口”的城市，他不禁发出了这样的感叹：“还有什么是这个城市制造不出来的！”这个城市是 ()

- A. 南京
- B. 上海
- C. 深圳
- D. 青岛

7. 改革开放以来，我国实现了从“赶上时代”到“引领时代”的伟大跨越。某同学绘制了“对外开放进程”年代尺，在图中空白处应填写的正确内容是 ()



- A. 开发开放上海浦东
- B. 成立环渤海经济区

- C. 实施西部大开发战略
- D. 建立中国—东盟自由贸易区

8. (2019·山东滨州) 1980年，我国设立深圳等经济特区；1984年开放14个沿海城市；1985年，开辟沿海经济开放区；1988年，建立海南岛经济特区；1990年，开发开放上海浦东；1992年，开放内陆部分省会城市和沿江沿边城市；2001年，加入世界贸易组织；2013年，设立上海自由贸易区。以上史实主要说明了我国 ()

- A. 扩大开放，融入世界
- B. 成为全球第二大经济体
- C. 国际地位逐步提高
- D. 城乡一体化水平不断提高

9. (2019·河南) “它是一种多元的经济结构体，由公有经济、家庭作坊、私人企业和外资企业在平等的基础上共同组成……逐步放开价格控制，承认私有财产和私人企业，承认股票市场、外资与合资企业，并重建经济的公共部分。”材料中的“它”指的是 ()

- A. 公私合营
- B. 经济特区的建立
- C. 国有企业改革
- D. 社会主义市场经济体制

10. (2019·四川遂宁) 党的十八大首次高度概括了社会主义核心价值观。其中“法治”是社会层面的一个核心点。下面对我国近现代法律文献共性表述正确的一项是 ()

1912年	南京临时政府《中华民国临时约法》
1949年	中国人民政治协商会议《中国人民政治协商会议共同纲领》
1954年	第一届全国人民代表大会《中华人民共和国宪法》
1982年	全国人大五届五次会议《中华人民共和国宪法》

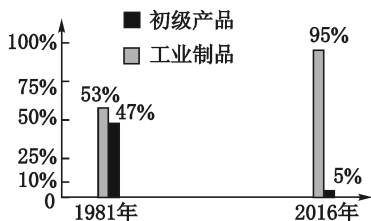
- A. 都推动了中国民主与法治建设的进程
- B. 都体现了社会主义的性质
- C. 都是民主与封建专制长期斗争的结果
- D. 都主要受欧美民主政治的影响

11. (2019·江苏苏州) 1979年11月，邓小平会见美国和加拿大友人时说：“我们不要资本主义，但是我们也不要贫穷的社会主义，我们要发达的、生产力发展的、使国家富强的社会主义。”还提出“社会主义也可以搞市场经济”的论断。邓小平的这一思想主张 ()



- A. 有利于推动我国经济体制改革的深化
- B. 表明市场经济体制改革取得显著成效
- C. 实现经济的协调发展和稳定高速增长
- D. 标志着中国特色社会主义理论体系形成

12 (2019·四川宜宾) 阅读下图《1981年和2016年中国出口商品总额与构成》，分析正确的是 ()



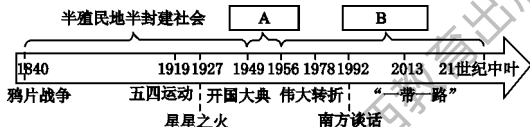
出口总额 367 亿元 出口总额 13.8 万亿元

【注】农产品和原材料等属于初级产品，机械设备等属于工业制品。

- A. 农轻重结构比例已严重失调
- B. 国际市场限制初级产品贸易
- C. 工业制造水平远远领先世界
- D. 改革开放推动出口结构变化

【拓展延伸】

1 中国近现代史，是一部中华民族怀揣强国之梦不懈追求奋斗的历史。阅读下面年代尺，回答问题。



(1) 思考 A、B 两个时期的社会发展状况，将年代尺上的信息补充完整。

(2) 从“星星之火”到“开国大典”、从“伟大转折”到“南方谈话”，毛泽东和邓小平在这两个历史时期分别为探索中国革命和建设道路做出了杰出贡献。请用具体史实加以论证，并谈谈其探索的共同特点。

(3) 今天的“一带一路”建设和两位伟人的实践都是为了追求中国近代以来最伟大的梦想。请表述这一梦想，并从经济和文化角度阐述实施“一带一路”建设对中国圆梦的重大意义。

2 改革是推动社会进步的重要方式。阅读材料，结合所学知识，回答下列问题。

材料一：新中国成立初期，党和政府担负起工业化建设的历史重任，为此，党和政府在发展生产力和改造生产关系方面分别采取了重大措施。

材料二：在经济政策上，我认为要允许一部分地区、一部分企业、一部分工人农民，由于辛勤努力、成绩大而收入先多一些，生活先好起来。一部分人生活先好起来，就必然产生极大的示范力量，影响左邻右舍，带动其他地区、其他单位的人们向他们学习。这样，就会使整个国民经济不断波浪式地向前发展，使全国人民都能比较快地富裕起来。……这是一个大政策，一个能够影响和带动整个国民经济的政策，建议同志们认真加以考虑和研究。

——摘自 1978 年邓小平在中央工作会议上的讲话

材料三：1978 年以后，实行改革开放政策。这项政策开创了中国经济年均增长率达两位数的新时代，为中国带来了重大变革。我国的经济体制经历了由“模仿”的社会主义到“中国特色”的社会主义的转变。

(1) 材料一中“党和政府在发展生产力和改造生产关系方面”分别采取了什么重大措施？意义如何？

(2) 根据材料二概括这个“大政策”所蕴含的经济思想。结合所学知识，指出我国在“大政策”的指引下开展了哪些具体的实践？

(3) 归纳上述具体实践对社会主义建设所起的共同作用。

(4) 材料三中“我国的经济体制经历了由‘模仿’的社会主义到‘中国特色’的社会主义的转变”指的是什么？

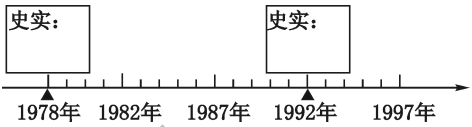
3 1978年，中共十一届三中全会实现了历史性伟大转折，此后中国共产党开辟了中国特色社会主义道路，创立了中国特色社会主义理论体系。请完成下列探究任务。

任务一 知识梳理

(1) 请将下表中“十一届三中全会的内容”补充完整。


思想上	
政治上	
组织上	实际上形成了以邓小平为核心的党中央领导集体

(2) 下面年代尺上的时间点见证了邓小平理论的形成过程。按要求将能够论证思想解放促进改革开放的相关史实填入对应的方框内。



任务二 解决问题

(3) 马克思主义的传播，给中国革命和建设带来了翻天覆地的变化。请根据下面年代尺提示信息，将A处内容补充完整，并结合社会主义建设的历史，简述马克思主义中国化的历程。



任务三 思考感悟

(4) 完成上述任务后，请把你的感悟写下来与同学们分享。



(四) 民族团结与祖国统一 国防建设与外交成就

【能力提升】

1 “中华人民共和国是工人阶级领导的、以工农联盟为基础的人民民主专政的社会主义国家……中华人民共和国的一切权力属于人民……各少数民族聚居的地方实行区域自治。”对材料理解正确的是 ()

①人民代表大会制度是我国的根本政治制度
②人民是国家的主人 ③民族区域自治是我国的基本政治制度 ④我国坚持人民民主专政

- A. ②③④ B. ①②④
C. ①③④ D. ①②③

2 澳门在回归祖国的20年中,取得了令人瞩目的发展成就。这一切主要得益于 ()

- A. 澳门经济的快速发展
B. 民族区域自治制度的实施
C. 两岸日益密切的交往
D. “一国两制”构想成功实践

3 下图是九年级(1)班同学所做的学习笔记。这篇学习笔记的主题是 ()

- (1) 公元前60年,西汉朝廷设置西域都护,西域正式归属中央政权。
(2) 唐朝在西域设置的最高统治机构是安西都护府和北庭都护府。
(3) 清朝在新疆实行军府制,设伊犁将军,统辖全疆军政事务。
(4) 1955年10月1日,新疆维吾尔自治区成立。

- A. 新疆历来是多民族聚居的地区
B. 新疆各民族文化是中华文化的组成部分
C. 新疆是中国领土不可分割的一部分
D. 新疆各民族是中华民族血脉相连的家庭成员

4 (2019·山东滨州) 与下面两幅图片相关的历史事件是 中国政府解决历史遗留问题的成功范例。它践行了 ()



- A. 人民代表大会制度
B. 民族区域自治制度
C. 和平共处五项原则

D. “一国两制”构想

5 (2019·江苏苏州) “海峡浅浅,明月弯弯。一封家书,一张船票,一生的想念。相隔倍觉离乱苦,近乡更知故土甜。”这是写给当选为“感动中国十大人物”之一的台湾老兵高秉涵的颁奖词。他曾把上百位老兵的骨灰带回大陆,使他们魂归故里。他当选为“感动中国人物”的主要原因是 ()

- A. 促成了“一国两制”
B. 消除了两岸隔阂
C. 发展了“九二共识”
D. 彰显了民族亲情

6 我国海军、空军和导弹部队建立与发展过程的相似之处不包括 ()

- A. 都经历了由弱到强的发展过程
B. 高科技不断地应用于军事
C. 都经历了抗美援朝战争的考验
D. 自主研发的武器逐渐增多

7 (2019·江苏苏州) “它取得了亚洲邻国的信任,取消了缅甸、泰国等周边国家对中国这个大国的‘恐惧’心理,与新独立的亚非国家结成了战略方阵,开创了中国外交的新天地。”与上述材料有关的史实是 ()

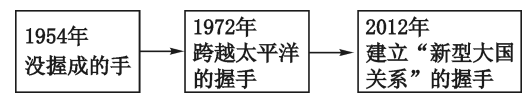
- A. 中国提出了和平共处五项原则
B. 中美两国关系开始正常化
C. 中国恢复了在联合国的合法席位
D. 中日正式建立了外交关系

8 (2019·四川泸州) 新中国的成立,结束了我国百年的屈辱外交,翻开了外交事业的新篇章。下图反映的历史事件 ()



- A. 确立了处理国际关系的基本准则
B. 促进了亚非国家之间的团结合作
C. 恢复了中国在联合国的合法席位
D. 标志着中美关系开始走向正常化

9. 下列中美关系图示说明了 ()



【注】1954 年日内瓦会议上美国国务卿杜勒斯拒绝与周恩来总理握手。

- A. 由敌对走向合作，不断深化发展
- B. 我国外交政策转变为寻求与大国结盟
- C. 我国积极参与全球化的经济活动
- D. 中国特别注重发展周边国家的友好关系

10. 1991 年，中国加入亚太经合组织，并于 2001 年、2014 年两次成功举办了亚太经合组织领导人非正式会议。这反映出我国 ()

- A. 促进同亚非各国团结协作
- B. 宣传新型地区安全观念
- C. 谋求恢复联合国合法席位
- D. 参与地区性多边外交活动

【拓展延伸】

1. 国家统一、民族团结是全体中华儿女的共同愿望。根据要求，完成下面各题。

(1) 请指出“邓小平会见撒切尔夫人”和“汪辜会议”这两次会谈解决的问题的不同之处。

(2) 依据下表，比较民族区域自治制度与“一国两制”的最根本不同，并简述我国当前解决台湾问题的有利和不利因素。

民族区域自治制度与一国两制的比较

比较内容	民族区域自治制度	“一国两制”
目的	解决民族问题	解决国家统一问题
适用地区	少数民族地区	香港、澳门、台湾
社会制度	社会主义制度	大陆社会主义制度，港澳台资本主义制度
主权	主权不变，属中国	港澳主权回归中国

(3) 谈谈你对祖国统一与民族团结的认识。

2. 科技强军是军队现代化建设的必然趋势。阅读下列材料，回答问题。

材料一：1953 年 1 月 7 日，毛泽东在高级步兵学校第一期开学典礼上的训词中指出，“为了保卫祖国免受帝国主义的侵略，依靠我们过去和较为落后的国内敌人作战的装备和战术是不够的，我们必须掌握最新的装备和随之而来的最新的战术，我们必须向苏联的军事科学学习，以便迅速把我军提高到足以在现代化的战争中取胜的水平……”

材料二：经过 60 年建设，海军已发展成为由水面舰艇、潜艇、航空兵、岸防部队、陆战队等组成的综合性军种，按照近海防御、远海防卫的战略要求……着眼打赢信息化条件下局部战争要求，全面提高战略威慑与反击能力、远海机动和近海综合作战能力、维护海洋权益和战略通道能力。海军发展成为兵种齐全、核常兼备的现代化军种，海军建设实现新的历史跨越。

材料三：习近平主席在中国人民解放军陆军领导机构、火箭军（以前的第二炮兵部队）、战略支援部队成立大会上的训词中指出：“成立陆军领导机构、火箭军、战略支援部队，是党中央和中央军委着眼实现中国梦强军梦做出的重大决策，是构建中国特色现代军事力量体系的战略举措，必将成为我军现代化建设的一个重要里程碑，载入人民军队史册。”同时，他还阐述了战略支援部队的重要作用，“战略支援部队是维护国家安全的新型作战力量，是我军新质作战能力的重要增长点”。

(1) 依据材料一和所学知识，指出当时人民军队建设主要是针对哪一不利国际因素而进行的。

(2) 材料二史实反映了我国海军怎样的军事实力？联系我国海军编队多次圆满完成远近海护渔护航任务以及“辽宁舰”航母正式列编的事实，你能得出什么结论？



(3) 根据材料三和所学知识，指出此次军队改革增添了什么新型作战力量。概括此次军队改革的直接目的。

(4) 上述材料和问题探究的主题是什么？

3. 老师以“走向世界舞台中心”为题设计了如下学习任务单，请你参与完成。

时间	外交特点	典型事例或成就
新中国成立第一年	外交新局面	① _____
20 世纪 50 年代	渐趋成熟	提出和平共处五项原则 ② _____
③ _____	外交发展	④ _____ 中美关系走向正常化 中日建交
21 世纪	走向世界，形成了⑤ _____ 的外交布局	⑥ _____

(1) 请在表格空白处填上合适的内容。

(2) 新中国成立后，中美关系经历了怎样的变化？导致这一变化的原因是什么？

(3) 你认为外交活动应遵循的基本原则是什么？

(五) 科技文化与社会生活

【能力提升】

1. (2019·山东烟台) “这次成功的实验，标志着我国国防现代化进入了一个新的阶段。这对美帝国主义核垄断、核讹诈的政策是一个有力的打击，对全世界一切爱好和平的人民是一个极大的鼓舞。”材料中“这次成功的实验” ()

- A. 打破了帝国主义的核垄断
- B. 在世界上首次育成籼型杂交水稻
- C. 是“863”计划的重要成果之一
- D. 得益于“科教兴国”战略的实施

2. 获得下面这枚奖章的是 ()



“两弹一星”功勋奖章

- A. 邓稼先
- B. 王进喜

- C. 焦裕禄 D. 袁隆平

3. (2019·湖北荆州) 20 世纪六七十年代, 我国在国防尖端技术研究方面取得巨大成就, 这不仅增强了我国的战略防御能力, 而且具有重大的政治意义。这项成就是 ()

- A. “两弹一星”的成功
B. 实施载人航天工程
C. 开创治疗疟疾新方法
D. 杂交水稻培育技术

4. 1970 年 4 月 25 日新华社电: “中国人民这一伟大胜利, 给正在坚持武装斗争的亚、非、拉各国人民和全世界革命人民以巨大的鼓舞, 给反革命的美帝国主义和社会帝国主义以沉重的打击, 粉碎了他们垄断空间技术的迷梦。”该电评论的是 ()

- A. 中国第一颗原子弹爆炸成功
B. 新中国重返联合国
C. 东方红一号卫星发射成功
D. 神舟五号实现载人航天

5. 《走向丰衣足食的世界》一书中写道: “他在农业科学上的成就击败了饥饿的威胁, 领导着人们走向丰衣足食的世界。”文中的“他”是指 ()

- A. 焦裕禄 B. 邓稼先
C. 袁隆平 D. 钱学森

6. “青蒿一握, 水二升, 浸渍了千多年, 直到你出现。为了一个使命, 执着于千百次实验。萃取出古老文化的精华, 深深植入当代世界, 帮人类渡过一劫。呦呦鹿鸣, 食野之蒿。今有嘉宾, 德音孔昭。”这一颁奖词充分说明了 ()

①中华文化的博大精深 ②屠呦呦对人类生命健康事业的重大贡献 ③青蒿素的研制成功彻底根除了疟疾 ④实践创新是取得成功的决定因素

- A. ①②③ B. ②③④
C. ①③④ D. ①②④

7. (2019·河南) 某历史兴趣小组在布置“新中国建设成就”的场馆时将屠呦呦、袁隆平的照片放在了一起。这一展台的标题应该是 ()

- A. 国防建设的成果
B. 科学技术的成就
C. 文化事业的发展
D. 社会生活的改善

8. (2019·山东青岛) 党的十八大以来, 国家建设不断取得丰硕成果, 天宫遨游、蛟龙探海、天眼探空、悟空探秘、墨子传信、大飞机一飞冲天、港珠澳大桥正式通车……这一系列重大成果, 主要体现了新发展理念中的 ()

- A. 创新 B. 开放
C. 协调 D. 共享

9. 近年来, 华为、中兴、航天科工、中芯国际等一批创新型企业脱颖而出, 领跑“中国制造”向“中国智造”加速转变, 使中国向“品牌大国”稳步迈进。这主要是由于我国 ()

- A. 大力发展高新技术产业
B. 高等教育迅速发展
C. 努力维护周边地区安全
D. 鼓励发展对外贸易

10. 流行语言是时代发展的一面镜子。20 世纪 80 年代以来, 下海、打工、跳槽、经济社会、出国留学等语言迅速流行起来, 这反映了我国 ()

- A. 文学艺术创作的繁荣
B. 互联网技术的迅速发展
C. 高等教育质量的提升
D. 改革开放后的社会变革

【拓展延伸】

11. (2019·河北改编) 阅读下列材料, 回答问题。

材料一: 20 世纪 80 年代以前, 自行车、缝纫机、手表、收音机传统的“四大件”是城乡的最高追求; 80 年代以后, 彩电、洗衣机、录音机、电冰箱新的“四大件”成为新的消费热点; 如今, 家用电脑、汽车、住房等又成为新的消费热点。

材料二: 原子能工业是我国在苏联单方面终止合同、撤走专家的情况下, 自力更生发展起来的。在核原料生产方面, 中国科技人员和工人克服了难以想象的困难, 先后建成了衡阳铀水冶厂和兰州气体扩散厂, 解决了浓缩铀的核心制造工艺, 确保了原子弹的试验成功。

当中国工人阶级和科学技术人员创造出这一伟大业绩的时候, 他们的工作环境、生活条件极端困难。自然灾害和严重的经济困难, 使人们的物质生活条件下降到最低点; 为在 1965 年以前偿还苏联 14 亿新卢布以上的债务, 所有中国人都勒紧裤带; 西方大国对中国的经济封锁、战争威胁和军事压力, 不但基本断绝了国家最需要的先进设备和技术交换, 而且也促使我国必须做好应对外敌的准备。中国人民就是在这种恶劣环境下, 默默地创造着奇迹。

——以上材料均摘编自《中国共产党历史》

材料三: 在一项由“一带一路”沿线二十国青年参与的评选中, 高铁、支付宝、共享单车和网购被称作中国“新四大发明”。曾以古代“四大发明”推动世界进步的中国, 正再次以科技创新向世界展



示自己的发展理念。

(1) 依据材料一，概括指出 20 世纪 80 年代以来国人物质生活发生的变化，并结合所学知识，说明我们物质生活发生翻天覆地变化的原因。

(2) 举出材料二中为我国原子弹的成功试验做出重要贡献的科学家代表，并据材料分析我国从原子弹的成功试验中得到的经验。

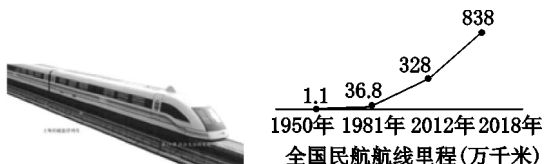
(3) 材料三说明了什么？

(4) 科技创新与经济发展密切相关，请举一例加以说明。

2 某校九年级（1）班的同学以“科技创新推动社会进步”为主题进行了历史探究活动，请你也来参与。

活动一 【图片解读——探寻科技力量】

(1) 简述下面科技发明及其运用对人类社会发展的推动作用。



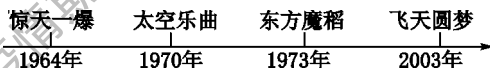
活动二 【纵向观察——解释历史现象】

(2) 观察下面图示，你认为下列通信工具对百姓生活影响最大的是哪个，举例说明。



活动三 【搜集资料——感悟中国制造】

(3) 下面年代尺见证了新中国科技方面取得一系列重大突破的历程。如果由你来介绍这段历程，可以通过哪些途径搜集材料？请你任选一个关键词对其进行介绍。



活动四 【学以致用——解决现实问题】

(4) 下面的宣传标语反映出人类怎样的美好愿景？请你也拟写一条与此美好愿景相关的宣传标语。

绿水青山，就是金山银山。
绿我山西，美我家乡，爱我中华。
构建和谐社会大环境，倡导文明环保新气象。
手拉手，创造美好环境；心连心，创建生态校园。

板块四 世界古代史

(一) 古代亚非文明与古代欧洲文明

【能力提升】

1. 有学者指出：“埃及人是在岩石上砍凿出他们的艺术的。”以下史实可以证明这一结论的是（ ）

- A. 建造金字塔和狮身人面像
- B. 发明楔形文字
- C. 建造巴黎圣母院
- D. 建造麦加清真寺

2. 古希腊历史学家希罗多德说过：“埃及是尼罗河的馈赠。”对此理解最准确的是（ ）

- A. 埃及奴隶制国家建在尼罗河边
- B. 埃及人是喝尼罗河的水长大的
- C. 尼罗河的自然环境孕育了古埃及文明
- D. 尼罗河是世界上最长的河流

3. 两河流域是人类文明的摇篮之一，属于这一地区文明的是（ ）

- A. 金字塔
- B. 种姓制度
- C. 《汉谟拉比法典》
- D. 佛教

4. 中印两国人民毗邻而居，有很多的相似点，如下面所说（ ）

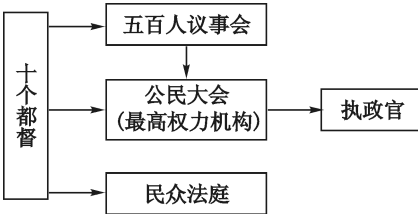
①都是亚洲文明古国 ②文明的产生都与大河流域相关 ③都创立有本民族的宗教 ④古代文明都从未中断地继承下来

- A. ①②③
- B. ②③④
- C. ①③④
- D. ①②④

5. 下列有关亚非四大文明古国的说法，正确的结论是（ ）

- A. 四大文明古国的文明几乎是同时出现的
- B. 四大文明古国都处于海洋，属于海洋文明
- C. 四大文明古国都处于大河流域，属于农业文明
- D. 四大文明古国都位于亚洲

6. (2019·福建) 如图所示的权力机构组织形式出现在（ ）



- A. 古代埃及
- B. 古代印度
- C. 古代雅典
- D. 阿拉伯帝国

7. (2019·辽宁) 蔚蓝色的爱琴海，孕育了辉煌灿烂的古希腊文明。下列文明成果属于古代希腊的是（ ）



A. 万神殿



B. 圆形竞技场



C. 帕特农神庙

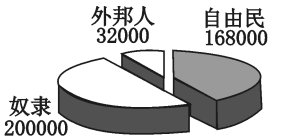


D. 《神曲》

8. 英国近代诗人雪莱曾说：“我们都是希腊人。”他这样说是因为（ ）

- A. 希腊人曾统治过欧洲
- B. 英国人都是希腊人的后裔
- C. 希腊是西方文明之源
- D. 英国人和希腊人生活习惯一样

9. 分析下图，对于雅典民主与居民的政治联系，下列说法正确的是（ ）



古代雅典居民结构比例图



- A. 超半数的居民能享受雅典民主
- B. 雅典民主的社会基础为自由民
- C. 少数奴隶主贵族独享雅典民主
- D. 外邦人享有雅典最广泛的民主

【拓展延伸】

1. 阅读下列材料，回答问题。

材料一：进入古典文明时代后，世界上有两个文明地区特别值得关注，一个是东亚文明，一个是地中海文明。公元前后，东方的汉朝和西方的罗马国家都出现了光辉的古典文明，其发展程度旗鼓相当，在生产水平、社会状态、文化创造等方面都达到古代文明的巅峰。这个时候的世界格局，呈现出东、西方平衡的态势。

(1) 依据材料指出，东西方两个国家在哪些方面“达到古代文明的巅峰”？此时的“世界格局”呈现出怎样的态势？写出当时连接东西方文明的重要通道。

材料二：希腊古典文明并非纯粹的原始文明。它和其他的所有文明一样，大量借用过去的文明，如中东文明。不过，希腊人所借用的，无论是埃及的艺术形式还是美索不达米亚的数学和天文学，都烙上了希腊人所独有的智慧的特征。

—— [美] 斯塔夫里阿诺斯《全球通史》

(2) 据材料二，你如何理解“希腊古典文明并非纯粹的原始文明”这句话？

材料三：中国是东方文明的重要代表，欧洲则是西方文明的发祥地。正如中国人喜欢茶而比利时人喜爱啤酒一样，茶的含蓄内敛和酒的热烈奔放代表了品味生命、解读世界的两种不同方式。但是，茶和酒并不是不可兼容的，既可以酒逢知己千杯少，也可以品茶品味品人生。中国主张“和而不同”，而欧盟强调“多元一体”。中欧要共同努力，促进人类

各种文明之花竞相绽放。

——摘自习近平主席在布鲁日欧洲学院的演讲

(3) 依据材料三，谈谈你对文明的理解。（不得摘抄材料原文）

2. 古代世界，东西方文明给我们留下了许多珍贵的历史文物，无声地记录了辉煌的文明成果。运用读图技能，回答下列问题。

【第一组】东方文明

		
金字塔	《汉谟拉比法典》石柱局部图	后母戊鼎
古埃及人认为国王死后要成为神，于是为其建造起登天之梯（金字塔）。金字塔的角锥形式既表示对太阳神的崇拜，又象征着皇权的至高无上	该浮雕讲述了太阳神沙玛什向汉谟拉比国王授予法典的故事。其文字内容明确表明了奴隶主阶级的统治地位	古代中国视“鼎”为立国重器，用于祭祀神灵、祈求丰收，是国家和君主权力的象征

(1) 观察上面的图片，说出三幅图所示文物和古迹的名称和用途。

(2) 阅读图片说明，结合所学知识，分析大河流域文明古国的统治有哪些共同点？

【第二组】西方文明



习艺的少年



陶片放逐投票（片段）



古代奥林匹亚赛会场景

(3) 请仔细观察上面这三幅希腊瓶画中的人物活动，描述古希腊人过着怎样的生活。

3. 学习过《西方文明之源》这一课后，小强对西方地中海文明充满了向往和憧憬。他决定利用假期参加境外旅游团组织的古代希腊和罗马所在地的三日游。旅游团给每位旅客发了一张调查表，目的是考查游客的知识水平，并调查游客的旅游意向，

以便导游了解情况，制订相应的导游计划。请你帮助小强来完成这个任务吧。

● 希腊罗马旅游调查表	
旅游知识小测试	<p>(1) 地理知识测试</p> <p>①了解西方文明之源应去的国家是：</p> <p>②了解雅典城邦的历史应去的国家是：</p> <p>③了解古代罗马城的建立历史应去的国家是：</p> <p>(2) 事件测试</p> <p>①列举出罗马共和国在称霸过程中发生的战争一例。</p> <p>②列举出罗马共和国后期爆发的一次奴隶大起义。</p>
旅游意向调查	<p>(3) 你在旅游中具体想参观的地点或古建筑是什么？并说明想去的理由。（一个地点即可）</p> <p>(4) 你最想详细了解哪个人物的历史？说一说理由。（古希腊和罗马各举一例）</p>



(二) 封建时代的东西方

【能力提升】

1. 大化改新是日本由奴隶社会向封建社会过渡的标志，主要是因为 ()

- A. 把部民转为平民
- B. 建立中央集权的国家
- C. 废除了世袭制，以才选官
- D. 把土地分给公民耕种，收取赋税

2. 下图为江苏人民出版社出版的由金宜久主编的《伊斯兰教史》，此书介绍了伊斯兰教兴起前的阿拉伯社会状况，在此书中不可能看到的内容是 ()



- A. 六世纪末七世纪初，阿拉伯半岛已经完成统一
- B. 为争夺水源和牧场，部落间相互仇杀
- C. 阿拉伯半岛内部矛盾丛生，外族入侵
- D. 阿拉伯半岛商路不畅，引起商业衰落

3. (2019·广东) 在西欧，庄园为领主提供日常消费的面粉、奶酪、火腿、蔬菜等食物，也为领主提供衣物、鞋帽等。庄园有铁匠、金银匠、皮鞋匠、面包师等各色工匠制造不同的物品。这说明西欧庄园 ()

- A. 具有自给自足的特征
- B. 是独立的政治单位
- C. 具有地方管理功能
- D. 是地方经济的中心

4. (2019·四川) 西方大学的兴起，曾被认为是欧洲中世纪教育“最美好的花朵”。以下对欧洲中世纪大学兴起的描述，不符合史实的是 ()

- A. 拥有自治地位
- B. 得到教皇和国王的支持
- C. 享有司法特权
- D. 课程不受基督教会的影响

5. (2019·四川) 请为以下三幅图片，选一个正确的主题 ()



劳动中的农奴



封臣宣誓效忠



西欧庄园

- A. 亚非的文明
- B. 欧亚的文明
- C. 封建的欧洲
- D. 封建的亚洲

6. (2019·山东) 以下是某学习小组在学习“封建时代的欧洲”这一单元时的交流内容，其中表述错误的一项是 ()

- A. 西欧主要国家的历史是从法兰克王国开始的
- B. 封君与封臣是以血缘为纽带形成的封建制度
- C. 西欧中世纪乡村的典型组织形式是庄园
- D. “城市的空气使人自由”是中世纪时形容城市的谚语

7. (2019·湖北) 7世纪中期，日本积极吸收中国文化，仿效唐朝的典章制度，进行了一系列改革，发展成为一个中央集权的封建国家，史称 ()

- A. 查理·马特改革
- B. 大化改新
- C. 明治维新
- D. 彼得一世改革

8. (2019·山东) 德国的一位法学家说：“罗马曾经三次征服世界：第一次以武力，第二次以宗教，第三次则以法律。而第三次征服也许是其中最为平和、最为持久的一次。”“最为平和、最为持久”说明罗马法 ()

- A. 维持了罗马帝国统一
- B. 巩固了皇帝的独尊地位

- C. 成为欧洲法学的渊源
- D. 维护了庄园的公共秩序

9. (2019·湖南) 2019 年 4 月 15 日，法国重要活动场所巴黎圣母院失火。值得欣慰的是巴黎圣母院祭坛、十字架和耶稣的荆棘王冠等珍贵文物幸免于难。文中空格处应为 ()

- A. 道教
- B. 佛教
- C. 基督教
- D. 伊斯兰教

【拓展延伸】

1. 运用识图技能回答下列问题。

【建筑艺术】是人类共同财富。观察下列古代建筑图片，回答问题。



图一 北京故宫



图二 罗马高架引水桥



图三 土耳其圣索菲亚大教堂

(1) 将上图的古代建筑图片按功能进行分类：

政治建筑：_____

宗教建筑：_____

水利工程：_____

(2) 简要说明建筑艺术与历史文化的关系。

【画卷之美】公元前 4 世纪前后，东西方文化都出现了繁盛景象。观察图片，回答问题。



图四 齐国稷下学宫文化的百家争鸣



图五 希腊雅典学院文化的黄金时代

(3) 分别写出图四和图五文化繁荣的表现。

(4) 简述图四和图五文化繁荣的原因。

2. 阅读材料，回答问题。

材料一：封臣每年自备鞍马，为封君服 40 天的骑兵役；封君被俘，封臣要提供赎金；对封君的政事和家事，封臣有提出建议的义务。封君则负有保护封臣本人及其家人生命安全、维持其生活衣食无忧的责任和义务。

材料二：西罗马帝国灭亡之后，拜占庭帝国以其保存的希腊罗马古典文化，傲立于当时相对黑暗的欧洲。作为希腊罗马文明的继承者和保存者，加之位于亚欧两洲交界处的优越地理位置，拜占庭保持了帝国的稳定与繁荣。当时的西欧人为拜占庭有如此壮丽的城市而倍感惊讶，他们认为这就是天堂！

材料三：拜占庭的作用是绝对保守的。命运注定它只是保存，而不是创新。它诞生在一个古老的国度，生活在过去的势力和荣誉的阴影之中，这种势力和荣誉正是它所试图维持和恢复的。他们很少有人具有创造力。

(1) 材料一中封君封臣制度的形成来源于什么改革？请说出改革的具体内容。

(2) 封君封臣制的基础是什么？在此制度的基础上，形成了什么制度？



(3) 绘制图示是我们学习历史的一个重要方法，请你结合材料内容绘制一幅图示。(要求图示要体现封君与封臣的关系，包括欧洲封建社会的等级的差别)

(4) 依据材料二概括拜占庭帝国对世界文明的贡献并分析其原因。

(5) 结合材料及所学知识，总结两点拜占庭帝国灭亡的原因。

(6) 谈一谈拜占庭帝国的衰落给你带来的启示。

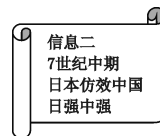
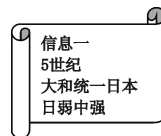
3. 探究题。

任务一 【表格“清”知识】

(1) 下表是九年级某班同学在学习完“亚洲和欧洲的封建社会”后制作的知识简表，请你帮助填写完整。

亚洲和欧洲的封建社会	东亚	7世纪中期，日本社会矛盾尖锐，孝德天皇进行大化改新，主要内容有：政治上，①_____ 经济上，②_____ 这次改革使日本从③_____社会进入④_____社会
	西亚	穆罕默德创立⑤_____，促进了阿拉伯半岛的统一和扩张

任务二 【卡片“理”关系】



(2) 根据信息一，写出大和政权统一日本时中国所处的历史朝代。联系所学知识，简述中日最早交往起源于什么时候。

(3) 根据信息二，说说7世纪中期，中国处于哪个朝代？结合所学知识，说说日本当时是怎样学习中国的。

任务三 【梳理“找”方法】

(4) 通过以上探究，你总结到哪些学习历史的好方法？

任务四 【探究“明”事理】

(5) 结合目前中日关系，说一说你认为应该如何发展两国关系。

板块五 世界近代史

(一) 欧美主要国家的社会巨变 资产阶级统治的巩固和扩大

【能力提升】

1. “在租地农场，土地所有者出租土地，有的提供一部分经营资本；经济实力较强的实际经营者承租土地，提供种子、牲畜、农具和其余资本，使用少量雇佣工人来耕种土地。他们之间彼此签订契约，按规定的比例分配全部产品。”下列与这一经济现象中产生的三大阶级无关的是 ()

- A. 地主
- B. 市民阶级
- C. 租地农场主
- D. 农业工人

2. 马克思说：“租地农场主成了这种农业工人的实际支配者，成了他们的剩余劳动的实际剥削者，而土地所有者现在只和这种资本主义租地农场主发生关系，而且是单纯的货币关系和契约关系。”对这句话理解正确的是 ()

①资本主义的生产方式已出现在农村 ②商人直接支配生产 ③农产品的生产已经市场化 ④租地农场主是早期的农业资本家

- A. ①②
- B. ③④
- C. ①④
- D. ②③

3. 有学者认为，明末以来，美洲的豆类、番茄、玉米、甘薯、辣椒、花生等作物向中国、东南亚的广大地区传播，以其丰厚的产出和充足的营养支撑着众多的人口，打破了传统的粮食结构。他把这些现象称为“餐桌革命”。“餐桌革命”出现的主要原因是 ()

- A. 新航路的开辟
- B. 工业革命的开展
- C. 文艺复兴的影响
- D. 亚洲人口的膨胀

4. 对比同类历史事件是历史学习的重要方法之一。下列关于文艺复兴和新文化运动相同点的叙述，不正确的是 ()

- A. 都反对封建制度的黑暗
- B. 都主张建立资产阶级民主共和政体
- C. 都促进了资本主义发展

D. 都是资产阶级性质的思想解放运动

5. “伴随新航路开辟而来的，是欧洲人的殖民掠夺。葡萄牙控制了从印度洋到太平洋的海上通道；西班牙在美洲中部和南部建立起一个殖民大帝国；法国先后在北美洲、非洲和亚洲建立了殖民地；英国在打败西班牙‘无敌舰队’后，又先后战胜了荷兰、法国，在世界各地夺取了大片殖民地，自诩‘日不落帝国’；荷兰从葡萄牙手中夺取了马六甲和锡兰……”这段材料说明 ()

- A. 西班牙占据了除巴西以外的拉丁美洲大部
- B. 殖民掠夺促进了欧洲的发展
- C. 各国殖民掠夺的过程也是殖民争霸的过程
- D. 殖民掠夺传播了欧洲的文化

6. “议会经过讨论……最终决定威廉夫妇共同为英国国王。这是一个前所未有的变化，国王由议会决定产生，意味着君权从‘神授’变成了‘民授’，它根本性地改变了在英国已经存在了千年之久的王权性质。”这一“变化”是 ()

- A. 呈递《权利请愿书》
- B. 发动“光荣革命”
- C. 颁布《大宪章》
- D. 通过《权利法案》

7. 马克垚主编的《世界文明史》中写道：“18世纪末的法国大革命从许多方面来看都是美国革命的一个直接后果，但它要解决的问题却不同于美国革命，而和一个半世纪以前的英国革命如出一辙……”对此理解正确的是法国大革命 ()

- A. 要争取民族独立
- B. 受美国内战的影响
- C. 要废除君主专制
- D. 促进资本主义发展

8. 美国学者罗伯特·帕尔默把美国独立战争和同一时期发生在北大西洋东岸的政治事变结合起来，将18世纪最后40年命名为“民主革命的时代”。下面对这一时代的核心特征理解不准确的是 ()



- A. 革命目的是推翻封建专制统治
- B. 资产阶级自由民主思想得到传播
- C. 革命成果以法律形式得以巩固
- D. 资本主义制度在美、法初步确立

9. 1861年，沙皇亚历山大二世签署废除农奴制法令，这场改革没有遇到俄国贵族的抵抗，也没有发生内战，仅凭沙皇的一纸法令就能完成。俄国改革没有遇到贵族强烈抵抗的主要原因是（ ）

- A. 贵族与农奴矛盾未激化
- B. 贵族对农奴处境的同情
- C. 贵族是改革利益获得者
- D. 贵族力量弱小无力对抗

10. 比较法是学习历史的重要方法之一。下面是某同学对两个历史事件的比较，他比较的是（ ）

相同点：①面临民族危机 ②向西方学习 ③制度变革
不同点：事件1 依附于没有实权的皇帝，结果失败
事件2 改革派已经掌握了实权，结果成功

- A. 洋务运动与明治维新
- B. 戊戌变法与废除农奴制改革
- C. 戊戌变法与明治维新
- D. 明治维新与废除农奴制改革

【拓展延伸】

1. 生产力的提高，使西欧迎来了近代文明的曙光。根据要求，完成下面相关问题。

(1) 【经济变革】比较下图所反映两种生产经营方式的相同点。新的生产和经营方式的变化，对西欧社会产生了怎样的影响？



图一 意大利纺织工厂的织工在分工劳作



图二 16世纪英国的租地农场

(2) 【社会转型】史学家认为，“14—16世纪的西欧是人和世界被发现的时代”。你如何理解这一论断？

(3) 【千秋功过】下面分别是对哥伦布、麦哲伦的不同看法。请你分析出现这一矛盾现象的共同原因。



1992年是哥伦布到达美洲500周年，许多国家进行庆祝活动，但是美洲印第安人的后裔强烈不满，他们打出一条标语：“你们的庆祝就是我们的苦难。”

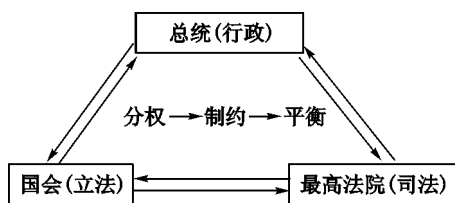


这是菲律宾马克坦岛上的一座纪念碑。碑的正面雕刻着这样一段话，大意为：1521年4月27日，拉普拉普及他的战士在这里击退了西班牙入侵者，并杀死头领麦哲伦。拉普拉普成为菲律宾抗击欧洲入侵者第一人。碑文的另一面大意为：1521年4月27日，斐迪南·麦哲伦被首领拉普拉普及他的战士杀死于这里。他的舰队在埃尔卡诺率领下于1521年5月1日从宿务启航，并于1522年9月6日返回西班牙港口，从而完成第一次环球航行。

2. 阅读材料，回答问题。

【分裂——一场不可避免的内战】

材料一：“分裂之家不能持久。”我相信我们的政府不能永远忍受一半奴役一半自由的状况。我不期望联邦解散，我不期望房子崩溃，但我却期望它停止分裂。它或者将全部变成一种东西，或者全部变成另一种东西。



图二

任务二 【中外联系】



图三 攻占巴士底狱



图四 武昌起义

(3) 分别写出上述图片所反映历史事件的背景，并概括其共同的历史主题。

任务三 【历史认识】

(4) 根据下面材料信息，结合相关史实，以“英美法政治的现代化”为题写一篇 150 字左右的小短文。

今天，文明的多样性变得更加丰富了。

首先，现代化的道路是不同的。英国用渐进的方式进行改革，法国采用革命的暴力……美国作为殖民地，则需要先独立、再发展……

其次，各国的政治制度和社会制度是不同的。政治上，英国实行君主立宪制，美国采纳共和制，议会制与总统制的区别非常显眼，从而使英、美之间的差距更加拉大……

——钱乘旦《多样的文明，创造世界共同的未来》

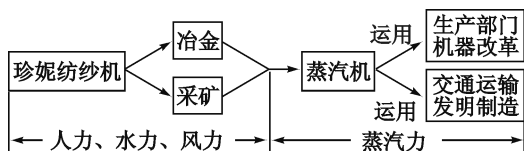
(二) 第一次工业革命、第二次工业革命

【能力提升】

1 乔治·布恩是一位生活在 18 世纪 40 年代—90 年代的英国棉纺织厂厂主。1785 年后，他把工厂由山涧河谷地带搬迁到交通便利的地方。促使他搬迁工厂的决定性因素是 ()

- A. 珍妮纺纱机的发明
- B. 内燃机的发明
- C. 火车、轮船的出现
- D. 蒸汽机的改良

2 阅读下面《工业革命动力演进示意图》，从中可以得出蒸汽机的作用是 ()




①用机械力取代了自然力，把人类带入“蒸汽时代” ②标志着工业革命的完成 ③为汽船、火车的发明提供了动力，促进了交通运输业的革新 ④确立起西方先进、东方落后的格局 ⑤出现了机器化大生产，提高了生产效率

- A. ①②③④
- B. ③④⑤
- C. ①③⑤
- D. ①②④⑤

3 如下面两图所示，18 世纪到 19 世纪中期英国的耕地方式发生很大变化，导致耕作方式变化的主要原因是 ()



18 世纪耕地景象



蒸汽机犁地演示，约 1851 年

- A. 资本主义方式经营的农场开始出现
- B. 海外贸易发展使农产品出口增加
- C. 工业革命使农业生产技术得到改进
- D. 纺织业发展使棉花种植技术改进

4. “二百多年前，英伦岛上第一台蒸汽机的轰鸣，将人类社会送入了新阶段……人类获取的财富，让旧有的岁月相形失色。恰如卡尔·马克思历史性的感叹，不到一百年所创造的生产力比过去一切世代创造的全部生产力还要多，还要大。”材料中所说的“新阶段”是指 ()

- A. 工业化社会的到来
- B. 资本主义制度开始确立
- C. 无产阶级革命时代
- D. 世界市场开始出现

5. “据统计：1764年，英国加工的棉花，只有1720吨，到1789年，就达到了14700吨。1740年，英国生铁用量不过1.7万多吨，到1800年，就增至25万吨。煤的年产量由1700年的260万吨，增至1795年的1000万吨。”下列分析可能与这组数据的变化相关的是 ()

①市场对原料的需求加大了 ②大机器生产使得产品增多了 ③火车机车和铁路的出现促成了这一变化 ④大量产品和原料的运输将促进交通运输的变革

- A. ①③ B. ①②④
- C. ①④ D. ①③④

6. “19世纪中期，联合王国的人口占全世界人口的2%，占欧洲人口的10%，却似乎具有相当于全世界潜力40%~50%的现代工业能力。”这里的“现代工业能力”是 ()

- A. 手工工场、租地农场的出现
- B. 纺织行业技术革新
- C. 机器生产基本取代手工劳动
- D. 英国成为世界工厂

7. “在18世纪英国焕发勃勃生机的年代里，只有一件事令它颇感挫折，那就是海外……宣告第一英帝国的终结。”下列历史事件，能够印证此观点的是 ()

- ①瓦特改良蒸汽机 ②颁布《人权宣言》
- ③斯蒂芬森发明火车机车 ④美国独立
- A. ①③ B. ①②④
- C. ①④ D. ①③④

8. 在一节历史活动课上，同学们通过比较第一次工业革命、第二次工业革命中的主要发明，总结

出第二次工业革命的如下特点，其中正确的结论有 ()

①美国和德国的成果突出 ②发明涉及的领域更加广泛 ③技术和发明超出了一国范围

- A. 零项 B. 一项
- C. 两项 D. 三项

9. “瓦特改造的蒸汽机是英国工业革命中最伟大的技术发明，也是生产领域的一次意义重大的飞跃。它为英国的工业革命注入了强大的活力，使工业革命得以更快地向纵深发展。”下列情况与这一论述不符的是 ()

- A. 工厂的选址可远离煤矿和湍急的河流
- B. 冶金工业蓬勃兴起
- C. 以铁路为代表的交通运输业繁荣起来
- D. 采煤工业突飞猛进

10. 两次工业革命使人类先后进入“蒸汽时代”“电气时代”，使世界发生了翻天覆地的变化。它们都 ()

- A. 加速了世界市场的初步形成
- B. 使欧洲国家出现垄断组织
- C. 推动了交通运输事业的发展
- D. 促进了石油化工业的发展

11. 工业革命既是一次技术革命，也是一场深刻的社会变革。阅读下列材料，回答问题。

材料一：以机器取代手工工具，以蒸汽机……动力机械取代人力、兽力、水力、风力，克服了人力、兽力的局限性和自然力的不可预见性及难以控制性，提高了人类利用自然和改造自然的能力。

材料二：18世纪下半叶19世纪初，英国企图垄断先进的工业生产技术，曾颁布禁止熟练工人移民和机器出口的禁令，但是新技术是封锁不住的，许多技术人员和熟练工人不顾禁令移民国外。法国在18世纪70年代引进英国的珍妮纺纱机之后，欧美大国相继引进。他们不仅大量地进口英国的机器，而且还引进英国企业家和技术人才。19世纪40年代，法国一半的铁路公司拥有英国的股份。英国还在美国、俄罗斯等地建立了一系列股份公司。

材料三：最早开始工业革命的英国也是最大的殖民帝国。英国的机器制成产品摧毁了印度的手纺车和手织机，破坏了殖民地的城市工场手工业，英国的蒸汽机和科学技术在印度全境把农业和手工业的结合彻底摧毁了……

英国还打破了亚非国家的封闭与与世隔绝。破坏了传统的社会经济结构……促使了这些地区的资本主义生产关系的产生和缓慢地发展，把亚非国家



卷入工业化的洪流，变成世界资本主义市场中的一部分。

——摘自《全球通史》

(1) 根据材料一，请用示意图方式表述工业革命中动力演进的过程，并归纳工业革命对英国社会产生的影响。

(2) 从材料二归纳英国工业革命对其他资本主义国家的影响。


(3) 从材料三归纳工业革命对亚洲地区的影响。

(4) 综上所述，略谈你对工业革命的认识。

【拓展延伸】

1. 简答题

(1) 【科技创新】是提高生产力的重要途径，下面一组图片从不同领域见证了两次工业革命的成就。据此简述你对科技创新的理解。

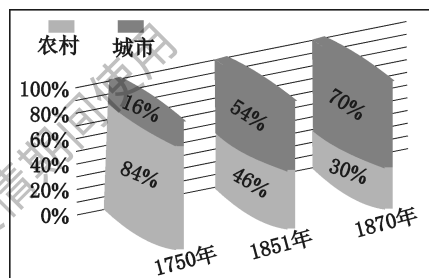


图一 斯蒂芬森试验火车机车



图二 1892年英国一发电厂内景

(2) 【数据图表】分析图三、图四中的数据，可以得出什么结论？



图三 英国城市、农村人口比例变化

年份	英国	美国	德国	法国
1870	31.8	23	13.2	10
1913	14	38	16	6

图四 英、美、德、法四国工业生产在资本主义世界所占比重简表 (单位: %)

2. 阅读材料，回答问题。

19世纪中期以后，实现共产主义成为国际无产阶级的最高理想。阅读下列材料，回答问题。

材料一：马克思、恩格斯不像其他思想家那样研究如何改善资本主义社会的弊端，而是研究如何推翻资本主义，使人类进入到一个更高、更理想的社会。马克思、恩格斯在19世纪中期提出的共产主义是指社会主义的高级阶段。在共产主义社会里，

物质财富极大丰富，人们的知识水平极大提高。社会中没有阶级、没有压迫，人人参加劳动，按需要分配劳动产品，整个社会公平、公正，是人类美好、最理想的社会。

——摘自北师大版《世界历史》九年级上册

材料二：以马克思主义“思想之花”点燃中国共产党领导的革命、建设、改革“实践之火”的盛大奇观，在近百年中华大地上辉煌上演，构成人类发展史上精彩夺目的篇章。这一由五四运动发端、贯通中国百年历程的盛大奇观……从根本上改变了中国人民的命运和中华民族的面貌，有力诠释了马克思主义为什么“行”。

——商志晓《马克思主义何以深刻改变中国》

材料三：马克思在1835年写的中学毕业论文《青年在选择职业时的考虑》中写道：“如果我们选择了最能为人类福利而劳动的职业，那么，重担就不能把我们压倒，因为这是为大家而献身；那时我们所感到的就不是可怜的、有限的、自私的乐趣，我们的幸福将属于千百万人。”

(1) 根据材料一，分析马克思主义诞生的背景。并简要概括马克思、恩格斯设想的“共产主义社会”是怎样一种社会？

(2) 举例说明马克思、恩格斯是如何为“使人类进入到一个更高、更理想的社会”而奋斗的。

(3) 结合中国近现代历史，说明“马克思主义为什么‘行’”。

(4) 读到材料三这掷地有声的话语，作为同龄人的你有何感悟？

3 探究题

某中学九年级（1）班学生在讨论“什么是推动社会进步的动力”时，产生了分歧，大家各执己见，于是分头搜集资料，查找相关的历史知识。请你也参与进来吧！

任务一 【梳理知识】

知识点：铁农具 蒸汽机 机器 发电机 电车 电灯 内燃机 汽车

(1) 按照表中的提示，完成下表。

新发明、新创造知识脉络表

按时间分类		按属性分类	
知识点	时间	知识点	属性
①	春秋战国	铁农具	④
蒸汽机、机器	②	⑤	科技创新、发明
③	第二次工业革命	机器、电车、电灯、汽车	因科技发明而产生的生产、生活工具

任务二 【解决问题】

(2) 通过探究，同学们形成了以下两种观点，你赞成哪一种？请根据任务一，结合所学知识进行阐述。（要求：史论结合）

甲：生产工具的改进是推动社会进步的动力。
乙：科技的发明与应用是推动社会进步的动力。

(3) 同学们形成这两种观点的原因分别是什么？

任务三 【思考感悟】

(4) 围绕这次探究活动，谈谈你的感受。



(三) 殖民与反殖民斗争及国际工人运动的兴起

【能力提升】

1. 19世纪以来，随着各国民族意识的觉醒，亚非拉人民掀起了争取民族解放和捍卫国家主权的斗争。下列属于19世纪中期，亚洲人民掀起的民族解放运动的史实是 ()

- A. 攻占巴士底监狱
- B. 拉丁美洲独立运动
- C. 印度民族大起义
- D. 中国的辛亥革命

2. “这些曾经在乡村拥有一望无际的大片土地的所有者，一旦沦为居住泥棚、仅有几只瓦锅的佃户，其对英国殖民者的恐惧、不满和仇恨再也无法控，因而一些爱国封建王公成了大起义的领导者。”材料描述的是 ()

- A. 美国独立战争
- B. 拉美独立运动
- C. 印度民族大起义
- D. 非暴力不合作运动

3. 历史学家罗英渠在《美洲史论》中写道：“他所指挥的军队解放的国土十倍于西班牙的国土，比西、法、德、英、意五个国家加在一起还大一倍半……成为委内瑞拉、哥伦比亚、厄瓜多尔、秘鲁、玻利维亚、巴拿马六个国家的奠基者。”“他”是 ()

- A. 华盛顿
- B. 章西女王
- C. 甘地
- D. 玻利瓦尔

4. 列宁说：“这本书篇幅不多，价值却相当于多部巨著。它的精神至今还鼓舞着、推动着文明世界全体有组织的正在进行斗争的无产阶级。”“这本书”是 ()

- A. 《独立宣言》
- B. 《人权宣言》
- C. 《拿破仑法典》
- D. 《共产党宣言》

5. 从1848年《共产党宣言》发表以来，马克思主义在全世界得到广泛传播，社会主义理论从空想变为科学，开始指引工人运动沿着正确的道路迅速发展。下列有关工人运动的说法错误的是 ()

- A. 《共产党宣言》的发表标志着马克思主义的诞生

- B. 《共产党宣言》号召工人用暴力推翻资产阶级统治
- C. 第一国际的成立为马克思主义的诞生提供了便利
- D. 巴黎公社是无产阶级建立政权的一次伟大尝试

6. “起来，饥寒交迫的奴隶！起来，全世界受苦的人！满腔的热血已经沸腾，要为真理而斗争！……”与这首歌的创作相关的历史事件是 ()

- A. 《共产党宣言》的发表
- B. 巴黎公社运动
- C. 工业革命的完成
- D. 第一国际成立

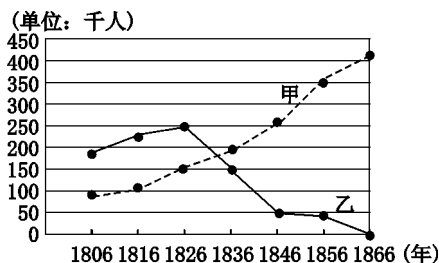
7. 下列关于马克思、恩格斯生平业绩的叙述，正确的是 ()

- ①都出生于德国，学识渊博 ②都参加了第一国际的领导工作 ③共同撰写了《资本论》第一卷 ④共同起草了《共产党宣言》

- A. ①②③
- B. ①②④
- C. ①③④
- D. ②③④

8. 对下图中甲、乙线及导致甲、乙线数据变化原因的判断，都正确的是 ()

英国棉手织工场工人和棉纺织厂工人人数统计图




- A. 甲线是对棉手织工场工人人数的统计；甲、乙线数据变化的原因是工业革命
- B. 乙线是对棉手织工场工人人数的统计；甲、乙线数据变化的原因是第二次工业革命
- C. 甲线是对棉纺织厂工人人数的统计；甲、乙线数据变化的原因是工业革命
- D. 乙线是对棉纺织厂工人人数的统计；甲、乙线数据变化的原因是第二次工业革命

9. 马克思主义诞生后，1864年，英国、法国、德国等国的工人代表成立了国际工人协会，史称第

一国际。1871 年成立的巴黎公社得到了第一国际的支持。在俄国十月革命影响下，马克思主义传入中国，指导中国新民主主义革命和社会主义建设取得了巨大成就。这些都说明，马克思主义理论（ ）

- A. 推动了无产阶级革命运动的发展
- B. 是各国无产阶级革命成功经验的总结
- C. 使国际工人运动都取得巨大胜利的
- D. 是在继承前人思想精华的基础上形成的

10 下图中的两位历史人物直接参与的历史事件是（ ）



- A. 创立空想社会主义
- B. 创立科学社会主义
- C. 1871 年巴黎公社成立
- D. 1917 年俄国十月革命

【拓展延伸】

1 阅读材料，回答问题。

材料一：18 世纪六七十年代，英国强化了对北美的殖民统治，宣布阿巴拉契亚山以西的广阔土地为王室私产，禁止民众移住开垦；制定各种税法，对殖民地的糖、酒、茶叶、印刷品及各种日用品强行征税；颁布高压法令，增派驻军，镇压殖民地人民的反抗斗争。

材料二：在殖民统治的 300 年中，西班牙在拉丁美洲掠夺了约 250 万公斤黄金和 1 亿公斤白银，葡萄牙把巴西看作其国库的主要财源。为攫取巴西的宝藏，它在矿区设置了直接听命于里斯本“海外事务院”的管理处，并规定所有采金者均须将所得黄金的 1/5 上缴王室。

1700—1801 年，开采的黄金达 1000 吨。葡萄牙和西班牙还从拉美殖民地热带和亚热带的经济作物中榨取财富，例如从蔗糖生产中取得的利润要比从金矿和金刚钻石矿取得的利润大十倍。

材料三：“我准备把自己的生命贡献给这个事业。我以自己的人性和生命宣誓，在我没有打碎西班牙束缚着我的祖国的枷锁以前，我的手将要不停地打击敌人，我的心也不会安静。”

——玻利瓦尔与老师的对话

材料四：我们探讨此事以真正美国人的最大利益为出发点，即如何巩固我们的联盟，这关系国家的繁荣、幸福、安全，甚至民族的生存。

——华盛顿就任大陆军总司令时的宣言

(1) 材料一、材料二表明独立前的南北美洲有什么相同点？

(2) 对比美国独立战争和拉美独立运动有哪些相同点？

(3) 结合材料三、材料四，谈谈华盛顿和玻利瓦尔有哪些共同的品质？

2 近代以来，追求构建理想社会成为人类不懈努力的追求，请结合所学知识，完成下列探究活动。

【资本主义的理想与现实】

材料一：难道农民的儿子生来颈上戴着圈，而贵族的儿子生来在腿上戴着踢马刺吗？本身自由，周围的人与自己平等——这才是真正的生活……

——资产阶级启蒙思想家 伏尔泰

材料二：（工人）并不是随着工业的进步而上升，而是越来越降到本阶级的生存条件以下。工人变成赤贫者。由此可以明显地看出，资产阶级再不能做社会的统治阶级了……

——《共产党宣言》

(1) 结合材料一、材料二谈谈资本主义社会的现实与理想之间有什么差距？

【社会主义理想的追求】

材料三：英国人空想社会主义者欧文，用 15 万美元在美国西部地区买了 3 万英亩土地和地上建筑物，宣称要在这里建设一个崭新的社会。……在这



里，生产、劳动、分配、生活等均按欧文的理想来办理——财产共有，共同参加劳动，平均分配产品，人人平等……公社生产少，消费多，产生矛盾，在资产耗尽后宣布失败。

——《欧文和他的“新和谐公社”》

材料四：共产党人可以把自己的理论概括为一句话：消灭私有制，建立公有制……共产党人不屑于隐瞒自己的观点和意图。他们公开宣布：他们的目的只有用暴力推翻全部现存的社会制度才能达到。

工人革命的第一步就是使无产阶级上升为统治阶级，争得民主……无产阶级将利用自己的政治统治，一步一步地夺取资产阶级的全部资本，把一切生产工具集中在国家即无产阶级手中，并且尽可能快地增加生产力的总和。

——《共产党宣言》

(2) 结合材料对比马克思主义改造社会的途径与空想社会主义者有何不同？

【理想社会在路上】

材料五：西方社会出现“马克思热”的原因在于，他的许多科学预见已经并且还在被社会发展所一一证实。19世纪80年代德国的社会保障体系确立，实践了《共产党宣言》的设想；20世纪30年代的罗斯福新政使西方社会认识到了马克思主义所蕴

含的力量；第二次世界大战后，欧美资本主义国家福利制度的建立、义务教育的普及等都践行了《共产党宣言》的原则；20世纪后半叶以来迅猛发展起来的经济全球化也在《共产党宣言》中所预示。

(3) 你怎么看待资本主义国家的新变化？“马克思恩热”出现的原因有哪些？

【马克思的个人理想】

材料六：人只有为同时代的人的完美，为他们的幸福而工作，自己才能达到完美。如果我们选择了最能为人类而工作的职业，那么，重担就不能把我们压倒。

——《青年在选择职业时的考虑》

(4) 材料出自1835年秋天，17岁的马克思在中学毕业论文中写下的话。谈谈你读后的感想。

(四) 近代科技和思想文化

【能力提升】

1 “我完全相信物种不是不变的！”“一切生物都不是上帝的创造，而是少数生物的直系后代……”提出上述观点的是 ()

- A. 达尔文 B. 爱因斯坦
C. 牛顿 D. 哥白尼

2 下列关于现代化学工业的说法，有误的是 ()

- A. 产生于19世纪60年代至80年代
B. 法国人发明了人造化学纤维
C. 蒸汽机推进了石油化学工业的产生

D. 瑞典化学家诺贝尔发明了现代炸药

3 他曾叱咤欧洲几十年，他是欧洲最伟大的音乐家。一部《英雄交响曲》把这两个伟大人物紧紧地连在一起。你判断这两个欧洲同时代的人物是 ()

- A. 爱迪生和诺贝尔
B. 拿破仑和贝多芬
C. 华盛顿和贝多芬
D. 托尔斯泰和梵高

4 《全球通史》的作者斯塔夫里阿诺斯在评价19世纪某一事件时说：“它受到宗教界和其他集团的

敌视，同时又对生存斗争的强调极妙地与时代倾向相吻合。”这指的是 ()

- A. 但丁及《神曲》
- B. 马克思及《共产党宣言》
- C. 牛顿及微积分
- D. 达尔文及进化论

5. 下列作品，属于相同类别的是 ()

- ①《欧也妮·葛朗台》 ②《战争与和平》
- ③《自然哲学的数学原理》 ④《夜间的咖啡馆》
- A. ①② B. ①③
- C. ②④ D. ③④

6. 世界步入近代以来，涌现出了一大批著名的思想家和科学家，取得了举世瞩目的成就。下列连线搭配不正确的一组是 ()

- A. 牛顿——力学三定律
- B. 达尔文——进化论
- C. 伏尔泰——启蒙思想
- D. 爱因斯坦——杠杆定律

7. 下列由名著改编的影片中，深刻揭露了19世纪后期到20世纪初期俄国社会的基本矛盾的有 ()

- ①《战争与和平》 ②《复活》 ③《安娜·卡列尼娜》 ④《钢铁是怎样炼成的》
- A. ①②③④ B. ①②③
- C. ②③④ D. ①②④

8. 它的画面像闪烁着熊熊的火焰，是那样艳丽、华美，同时又是那样的和谐、优雅而细腻……是那种带有原始冲动和热情的生命体。这里描写的美术作品是 ()

- A. 《蒙娜丽莎》 B. 《最后的晚餐》
- C. 《向日葵》 D. 《和平鸽》

9. 下列作品与拿破仑有关的是 ()

- ①《战争与和平》 ②《复活》 ③《英雄交响曲》 ④《安娜·卡列尼娜》
- A. ①② B. ②③
- C. ①③ D. ③④

10. “大自然和她的规律在黑暗中隐藏，上帝说：让人类有牛顿！于是一切豁然开朗！”这是一位诗人写给牛顿的墓志铭。下列属于牛顿发现的自然规律有 ()

- ①万有引力定律 ②力学三定律 ③相对论 ④进化论
- A. ①② B. ②③
- C. ①④ D. ③④

【拓展延伸】

1. 观察下列漫画，回答问题。



图一



图二



图三

(1) 图一中的科学家是谁？他在这一情景中，发现了什么定律？除此外，他还有什么成就？

(2) 图二是西方对哪一生物学家的讽刺？讽刺他提出的什么观点？这一观点主要体现在他发表的哪一著作中？

(3) 图三中的人物是20世纪伟大的科学家之一，他是美籍德国犹太人。他是谁？他的主要成就是什么？有何意义？

(4) 在这三位科学家身上我们学习到了哪些优秀品质？



2 阅读材料，回答问题。

诗歌（一）

雨后的葵花/静观的葵花/喷薄的花瓣在雨里/一寸心口藏在四滴水下/静观的葵花看_____死去/葵花，本是他遗失的耳朵/他的头堵在葵花花园/在太阳正中在光线垂直的土上……

——纪念梵高（作者：骆一禾）

诗歌（二）

时间的监牢/囚禁着/贝多芬和我/两颗孤寂的灵魂/正在为人类的脆弱创作/听！扼住命运的咽喉这就是贝多芬谱的曲子/看！征服自己的生活/这就是我写的诗歌。

——泰戈尔

（1）诗歌（一）空白处应当填写的历史人物是谁？这位历史人物的代表作品是什么？作品表达了作者怎样的情感？

（2）诗歌（二）中的贝多芬是哪国人？他的代表作品是什么？

（3）在诗歌中所反映的两位艺术家身上，你领悟到了什么？

3 探究题

在学习完《近代科学与文化》的内容后，某校九年级同学准备举办专题展览，请你参加本次活动，完成下列思路的设计。

（1）第一学习小组同学按下列思路设计一套（7枚）邮票，来纪念在近代取得重大成就的杰出人物。请你按着设计思路，填写所缺的内容。

	人物	理由
科技篇		
文学篇		
艺术篇		

(2) 第二学习小组的同学搜集了一些名人名言，请你说出这些名言的作者以及我们从这些名言中得到了哪些感悟？

①如果说我看得比别人更远些，那是因为我站在巨人们的肩膀上。

作者：_____

感悟：_____

②不要希图成为一个成功的人，而要努力成为一个有价值的人。

作者：_____

感悟：_____

③宁肯不厌其烦地严肃钻研，也不要投机取巧、哗众取宠。

作者：_____

感悟：_____

④我要扼住命运的咽喉，它决不能使我完全屈服。

作者：_____

感悟：_____

(3) 活动感悟：通过本次活动，你认为若想成为一名杰出的思想家、科学家或文学家、艺术家应该具备哪些优秀的品质？

山西教育出版社出品 疫情期间使用



板块六 世界现代史

(一) 第一次世界大战和战后初期的世界

【能力提升】

1. (2019·北京) 右侧漫画原图发表于1912年,桶上英文意为“巴尔干麻烦”,桶盖被蒸汽顶起,上面的人物代表英、法、德、奥匈、沙俄等国。漫画可以说明 ()



沸点

- A. 第一次世界大战的背景
- B. 凡尔登战役的空前惨烈
- C. 欧洲的优势地位被削弱
- D. 巴黎和会上的钩心斗角

2. (2019·江苏苏州) 史论结合是历史学科的重要特点之一。在历史学习的过程中,要注意区分史实与史论。下列表述中,属于“史论”的是 ()

- A. 第一次世界大战爆发之后,意大利参加了协约国集团作战
- B. 1916年,德、法两国军队在凡尔登展开了血战
- C. 第一次世界大战是帝国主义争夺霸权和殖民地的不义之战
- D. 第一次世界大战中,交战国使用了坦克和潜艇等新式武器

3. (2019·四川雅安) “阿芙乐尔”在俄文中的意思是“曙光”或“朝霞”。在古罗马神话里,“阿芙乐尔”是司晨的女神,她唤醒人们,送走黑暗,迎来光明。1917年11月7日,“阿芙乐尔号”巡洋舰的炮声迎来的“光明”是 ()

- A. 第一国际成立
- B. 二月革命的胜利
- C. 巴黎公社革命
- D. 十月革命胜利

4. (2019·湖北黄冈) 在《共产党宣言》的影响下,1864年,欧洲各国工人建立国际工人协会(史称第一国际)。1871年巴黎公社成立,随后的俄国十月革命、中国的新民主主义革命等相继展开。这表明马克思主义诞生 ()

- A. 只适合欧洲的无产阶级革命

- B. 是中西方无产阶级革命经验的总结
- C. 只适合中俄两国的暴力革命
- D. 极大地推动了世界无产阶级革命运动

5. (2019·安徽) 经过总结教训,列宁认为,既然还不能实现从小生产到社会主义的直接过渡,作为小生产和交换的自发产物的资本主义在一定程度上就是不可避免的。为此苏俄实施了 ()

- A. 战时共产主义政策
- B. 新经济政策
- C. 社会主义工业化
- D. 农业集体化

6. (2019·湖北黄石) 在第二次世界大战中,苏联武器装备全面更新。苏制 HC-2 坦克超过德国“虎式”坦克的威力,火箭炮(“喀秋莎”)、强击机等新型武器都有极大的发展,其主要原因是 ()

- A. 新经济政策的实施
- B. 苏联社会主义工业化建设
- C. 农业集体化的实行
- D. 苏联社会主义改革

7. (2019·四川德阳) 1919年6月,帝国主义列强经过长达5个月的争吵,终于签订了《凡尔赛和约》。这一和约 ()

- A. 实现了美国称霸的企图
- B. 削弱了日本在远东的优势
- C. 打破了英国的海上霸权
- D. 激起了德国人的极大愤怒

8. “由于英国和法国早期对其该是一个什么样的机构——一个警察,还是一个调停者——有分歧,这就使得这一组织缺乏强制执行的权力,也没有真正的集体安全机制。因此,令人啼笑皆非的是,事实证明这一组织的实际贡献不是遏制侵略者,而是使民主国家陷入混乱状态。”这一组织指的是 ()

- A. 国际联盟
- B. 反法同盟
- C. 联合国
- D. 世界反法西斯联盟

9. (2019·湖北孝感) 在巴黎和会上,为了拉拢日本,英、法、美无视中国的反对和抗议,决定把德国在中国山东的一切权益转让给日本。但是在华

盛顿会议上，英、美支持中国收回山东主权的要求。英、美态度发生转变是因为 ()

A. 尊重和维护中国主权
B. 中国综合国力的提高
C. 遏制日本独霸中国
D. 第二次世界大战即将爆发

10 印度诗人泰戈尔曾写道：“在使人们断绝邪恶的斗争中，或许他（指甘地）会像佛陀和耶稣一样遭到失败，但是他的一生对子孙是一种教益，为此，人民永远牢记着他。”诗人如此评价甘地是因为他 ()

①多次组织群众性的非暴力不合作运动 ②对印度社会的发展产生了深远影响 ③领导印度人民推翻了英国的殖民统治 ④领导的非暴力运动增强了印度民众的民族自尊心和自信心

A. ①②③ B. ②③④
C. ①③④ D. ①②④

【拓展延伸】

1 第一次世界大战对世界历史的发展产生了极为深远的影响。根据要求，完成下面相关问题。

(1) 【全球战火】请在下面方框空白处填写正确内容，并简述第一次世界大战爆发的原因。

◆1916 年 2 月，德军发动 (战役)，双方死伤近 100 万，战场被称为“绞肉机”“屠宰场”和“地狱”。此役成为第一次世界大战的转折点。

◆1918 年 11 月， (国家) 战败投降，在停战协定上签字，第一次世界大战结束。

◆第一次世界大战爆发的原因： _____

(2) 【秩序重建】根据下列提示信息，写出帝国主义列强建立的国际关系格局名称。

① _____

召开时间：1919 年
会议名称：巴黎和会
签署条约：《凡尔赛条约》
开会目的：清算战败国，重新瓜分殖民地和势力范围

② _____

召开时间：1921 年
会议名称：华盛顿会议
签署条约：《九国公约》等
中心议题：协调战胜国在东亚和太平洋地区的关系，限制海军军备

2 经济体制的确立，都要随社会的发展进行不断的调整。阅读下列材料，结合所学知识，回答问题。

材料一：◆以征收粮食税代替余粮征集制。
◆允许使用雇佣劳动力和出租土地，农民可以自由买卖纳税后的剩余产品，实行自由贸易。
◆允许私人经营中小企业。
◆实行按劳取酬的工资制。

材料二：为了迅速增强经济实力和国防力量，苏联采取了优先发展重工业的方针。为了加强对农业的管理，摆脱粮食供应困难，苏联政府推行了农业集体化运动。斯大林执政时期开创的社会主义建设模式，被称为“斯大林模式”。据苏联官方统计，到 1937 年，苏联的工业产量居欧洲第一位、世界第二位。苏联经济实力的迅速增长，为后来反法西斯战争的胜利奠定了物质基础。

——摘编自《世界历史教师教学用书》

材料三：1933 年，罗斯福就任美国总统，宣布实行新政。他采取一系列改革措施，大力加强国家对金融、农业、工业、社会救济、公共工程以及财政等方面的干预。到 1933 年，美国的工业生产水平创历史新高，农业生产保持稳定，对外贸易趋向活跃，人民生活水平得到恢复和改善。新政的实施也在一定程度上缓和了美国的社会矛盾，使美国避免在危机形势下走上法西斯道路。新政通过法律形式，把国家保障经济稳定和责任固定下来，在不触动资本主义制度的前提下，对美国经济制度进行了深刻改造。

——摘编自《世界历史教师教学用书》

(1) 材料一是哪一次改革的主要内容？从内容看，这次改革有何突出特点？

(2) 根据材料二，概括斯大林时期国家经济政策发生的变化。



(3) 材料三中，罗斯福新政对美国经济制度进行了怎样的调整？试归纳斯大林模式与罗斯福新政的相同点。

(4) 从上述材料中，你得到了怎样的启示？

(二) 经济大危机和第二次世界大战

【能力提升】

1. 下表为 1928—1934 年美国国民生产总值一览表（单位：亿美元）。导致美国国民生产总值发生变化的原因是（ ）

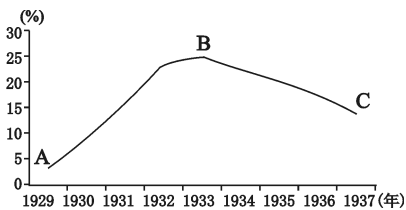
年份	1928	1929	1930	1931	1932	1933	1934
国民生产总值	1039	912	764	585	560	656	728

- A. 罗斯福新政 B. 越南战争
C. 经济大危机 D. 朝鲜战争

2. (2019·四川雅安) 美国在《农业调整法》(1933 年 5 月通过) 生效的第一年，屠宰了二千三百万头牛，六百四十万头猪，小麦和棉花的播种面积也大幅减少。美国实施此政策的主要目的是（ ）

- A. 建立社会保障制度
B. 维护工人的合法权益
C. 稳定农产品的价格
D. 增加失业者就业机会

3. (2019·广西柳州) 下图反映了 1929—1937 年美国失业人数变化情况，促使 B 点到 C 点变化的直接有效措施是（ ）



- A. 推行“以工代赈”
B. 创立养老金制度

- C. 颁布《紧急银行法案》
D. 颁布《农业调整法》

4. (2019·江苏南京) 在 1934 年的头 4 个月里，“公共工程艺术计划”雇用了 3000 多位艺术家，在全美各地为政府的各种建筑创作了 15000 多件艺术品。政府部门计算了艺术家们的报酬：总计 118.4 万美元，每件作品约合 75.59 美元。该计划的作用是（ ）

- A. 体现了三权分立的制衡原则
B. 调动了黑人奴隶的积极性
C. 根本上解决了社会就业问题
D. 有助于增强政府调控能力

5. “比较”是历史学习和研究的一种重要方法。罗斯福新政与列宁新经济政策的相同点是（ ）

- A. 都是为了打退国内外反动势力的进攻
B. 都有利于本国经济的恢复和发展
C. 都巩固了本国资本主义制度
D. 都巩固了工农联盟的国家政权

6. (2019·北京) 下表是《1937 年各大国国民收入与国防开支的比例表》，可用于研究（ ）

	美国	英国	法国	德国	意大利	日本
国民收入 (亿美元)	680	220	100	170	60	40
国防开支 所占比例 (%)	1.5	5.7	9.1	23.5	14.5	28.2

- A. 三国同盟和三国协约的形成
B. 凡尔赛—华盛顿体系的建立

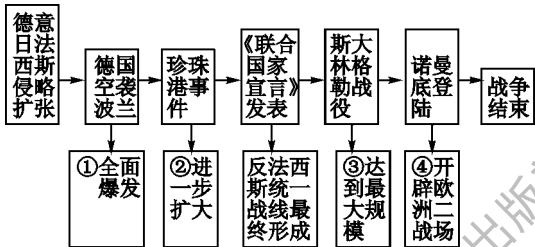
- C. 第二次世界大战战争策源地的形成
- D. 欧美各国支持中国的全民族抗战

7. (2019·山东青岛) 下图漫画中, 罗斯福和丘吉尔手中各拿着一根魔术棒, 在庆祝一个 1942 年诞生的被称为“联合”的新生儿。这个“新生儿”是 ()



- A.《凡尔赛条约》
- B.《波茨坦公告》
- C.《开罗宣言》
- D.《联合国宣言》

8. (2019·辽宁大连) 第二次世界大战是人类有史以来规模最大的世界性战争, 战火遍及全球。阅读下面战争进程示意图, 对事件影响的描述对应正确的是 ()



- A. ①②
- B. ①④
- C. ②③
- D. ③④

9. 下列是拍摄于 1945 年的两幅珍贵历史照片, 主要反映了 ()



苏军将红旗插上德国国会大厦



德国代表签署投降书

- ①欧洲战争结束
 - ②苏联卫国战争胜利
 - ③第一次世界大战德国战败投降
 - ④世界反法西斯战争取得最终胜利
- A. ②③
 - B. ①②④

- C. ①②
- D. ②④

10. (2019·山东烟台) 第二次世界大战给人类带来了灾难, 到处是残砖断瓦, 人们流离失所。法西斯德国和日本在给世界带来灾难的同时, 本国也遭受了沉重的打击。该材料反映的是第二次世界大战的 ()

- A. 历史背景
- B. 主要过程
- C. 主要战场
- D. 重要影响

【拓展延伸】

11. 20 世纪二三十年代, 斯大林和罗斯福开创了两种新的经济运行模式。阅读下列材料, 结合所学知识, 回答问题。

材料一: 1929 年发生的“大萧条”是“第一次世界大战”后资本主义世界爆发的首次经济危机。它以华尔街股市大崩溃为先导, 随之出现大量银行倒闭, 千百万人的积蓄付诸东流, 数千人跳楼自杀。美国随之步入严重的经济衰退, 生产出现严重过剩, 农业资本家和大农场主销毁过剩产品, 86000 家企业破产, 失业率高达 25%。危机很快从美国扩展至整个资本主义世界, 并从金融危机转变成经济危机和政治危机。

——《危机与变革、前途与命运》

材料二: 我们现在的任务不是探测或开发自然资源, 或者去生产更多的商品, 而是更冷静、更平稳地管理好已有的资源和工厂, 为我们的剩余产品重新开辟海外市场, 解决消费不足的问题, 按照消费状况调整生产, 更公平地分配产品和财富, 使现存的经济组织服务于人民。

——《罗斯福选集》

材料三: 1928 年苏联开始实行第一个五年计划, 计划的目的是使国家富强, 在军事上和工业上自给自足。工业化, 特别是重工业的发展, 是计划的核心。在没有外国贷款的情况下进行工业化, 农业部门成为重要的资金来源。集体化使大规模的农庄代替了以往的小块田地, 这就使资本(机器、拖拉机等)应用于土地成为可能, 这有利于提高人均产量。集体化又使上级机关更容易通过管理手段来控制集体农庄的剩余产品。

——《世界近现代史》

(1) 简述材料一中“大萧条”的特点及其影响。



(2) 根据材料二, 指出罗斯福政府“按照消费状况调整生产”的主要措施。

(3) 根据材料三, 苏联实行工业化的突出特点是什么? 并评价斯大林时期形成的经济体制。

2 世界反法西斯战争是人类历史上一场规模空前的战争, 是世界正义与邪恶、光明与黑暗、进步与反动、文明与野蛮力量之间的一场大决斗。阅读下列材料, 结合所学知识, 回答问题。

材料一: 抗日战争是中国近代历史的一个根本转折。第一, 近百年间, 中国抵抗外敌入侵的战争无不遭受失败, 抗日战争是中国第一次取得反侵略战争的全面胜利。第二, 抗日战争显示了中华民族不屈的民族精神。中国能长期坚持抗战, 除了地域广阔、资源丰沛外, 一个重要的原因是不屈不挠、誓死不当亡国奴的民族精神, 这也是中国民族复兴的精神源泉。第三, 抗日战争表现了中华民族高度的民族凝聚力, 这尤其表现在国共两党捐弃前嫌, 以民族大义为重, 实现第二次合作上。第四, 抗日战争决定性地改变了中国国内政治力量的对比, 以中国共产党为代表的新兴的、朝气蓬勃的力量迅速上升, 以至在战后只经过4年多的时间, 中国革命就取得了全国胜利, 开始了民族复兴的新篇章, 中国可以追求名副其实的大国地位了。

——摘编自《反法西斯战争与中国的大国地位》

材料二: 在第二次世界大战中, 中国战场是抗击日本法西斯的主战场, 也是世界反法西斯战争的东方主战场。中国人民为世界反法西斯战争的胜利承受了巨大的民族牺牲, 做出了不可磨灭的贡献。中国人民的抗日战争从1931年开始, 到1945年结束, 历时14年。日本法西斯侵略中国, 决不单单是为了灭亡中国, 更重要的是想把中国当作北侵苏联、南下太平洋, 并进一步对外扩张、称霸亚洲乃至世界的“基地”和“跳板”……苏联战场是抗击德国

法西斯的主战场, 也是第二次世界大战欧洲主战场, 是世界反法西斯战争的重要组成部分。从战争初期的失利, 到斯大林格勒大会战后转入反攻, 再到攻克柏林, 苏联军民经历了1400多个日日夜夜的残酷战争, 用鲜血和生命换来了卫国战争的胜利, 写下了苏联历史上最辉煌的一页。

——摘编自《中国和苏联在第二次世界大战中的贡献》

材料三: 纪念反法西斯战争胜利就是要学会相互尊重, 在交流互鉴中共同进步。面对法西斯的疯狂进攻, 社会制度和意识形态不同的西方与苏联通力合作, 对加快德意日法西斯的灭亡发挥了巨大作用。同时也证明了社会制度和意识形态的不同并不能成为阻碍合作的理由。

——摘编自《纪念反法西斯战争胜利70周年的时代意义》

(1) 材料一中, 为什么说“抗日战争是中国近代历史的一个根本转折”?

(2) 根据材料二, 归纳中国和苏联战场在第二次世界大战中贡献的相似点。

(3) 根据材料三, 举出西方与苏联通力合作的具体事例, 并分析世界反法西斯战争胜利的根本原因。

(4) 纪念世界反法西斯战争胜利有何现实意义?

(三) 二战后的世界变化

【能力提升】

1. (2019·安徽) 美国高呼着“共产主义的威胁”发动冷战，却干着控制别国、扩大本国利益的勾当。“共产主义扩张”只是美国制造出来实现自己战略目的的“神话”。这反映美国发动冷战的根本目的是 ()

- A. 防止革命
- B. 控制西欧
- C. 遏制苏联
- D. 称霸世界

2. (2019·湖南益阳) 第二次世界大战结束后不久便进入冷战时期，美国和苏联及其各自的盟国在冷战中已经摆好了作战的姿势，开始了主要在政治、经济和宣传层面的对抗。下列关于冷战的表述，错误的是 ()

- A. 杜鲁门主义的提出标志着冷战开始
- B. 德国的分裂是美苏冷战的直接后果
- C. 冷战双方是以美苏为首的两大阵营
- D. 冷战局面形成后，世界一直和平

3. (2019·四川宜宾) 大国博弈应当有所为有所不为，才能给和平一个机会。能准确反映这一观点的是 ()

- A. 杜鲁门主义的出台
- B. “柏林危机”期间的空运
- C. 北约和华约的建立
- D. “欧洲复兴计划”的推行

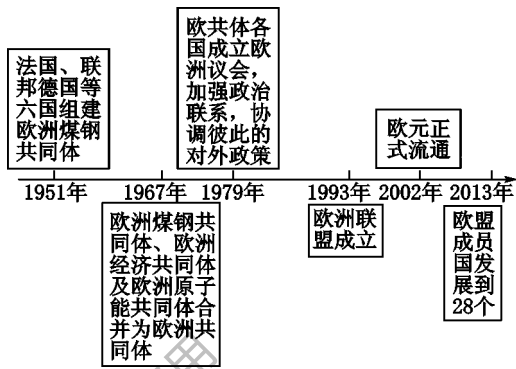
4. (2019·山东聊城) 杜鲁门在敦促国会尽早通过马歇尔计划的特别咨文中说：“要使(欧洲)经济复兴获得成功，必须采取某种对付内部和外部侵略的保卫性措施。”此后采取的“保卫性措施”是建立 ()

- A. 联合国
- B. 华沙条约组织
- C. 北大西洋公约组织
- D. 世界贸易组织

5. (2019·广西贵港) 第二次世界大战后，日本经济迅速恢复和发展的因素与西欧不同的是 ()

- A. 美国的扶持和援助
- B. 大力发展科技教育
- C. 建立广泛的社会保障制度
- D. 推行民主改革，废除封建落后因素

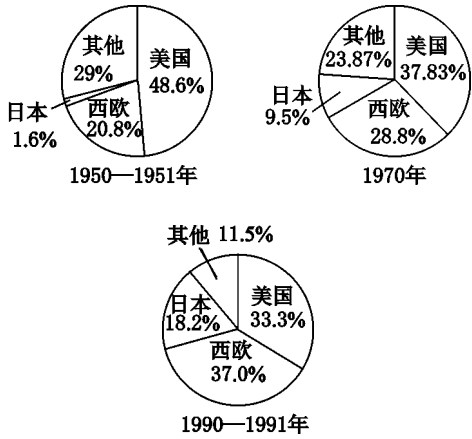
6. (2019·四川雅安) 从以下欧洲联合进程示意图中可以看出 ()



① 欧盟成员国不断增加 ② 欧洲联合从经济领域开始 ③ 欧洲一体化程度加深 ④ 欧洲实现用一个声音说话

- A. ①②③
- B. ②③④
- C. ①②④
- D. ①③④

7. (2019·四川宜宾) 下图反映了20世纪中叶到90年代初美、日、西欧在世界工业生产中所占比重(%)的变化，对此解读正确的是 ()



- A. 日本工业发展速度超过欧美
- B. 世界多极化的格局已经形成
- C. 西欧始终占据工业主导地位
- D. 美国工业生产能力大幅下降

8. (2019·湖南衡阳) 下表反映了苏联1966—1985年社会总产值年均增长速度，出现这一变化的根源是 ()



年份	1966— 1970	1971— 1975	1976— 1980	1981— 1985
社会总产值	7.4%	6.4%	4.2%	3.3%

- A. 高度集中的政治经济体制
B. 赫鲁晓夫改革
C. 戈尔巴乔夫改革
D. 苏联解体

9. (2019·山东菏泽) 有学者认为, “事实上, 20 世纪 80 年代戈尔巴乔夫的改革可以说与 20 世纪 30 年代罗斯福总统的新政很相似”。二者的相似之处是 ()

- A. 为了应对令人痛苦的危机
B. 压缩农业产量, 稳定农产品价格
C. 帮助本国度过了严重危机
D. 提出“政治多元化”的主张

10. (2019·山东菏泽) 第二次世界大战后, 亚非拉国家为捍卫国家主权、发展经济, 进行了不懈的斗争, 殖民体系崩溃。标志着世界殖民体系最终瓦解的是 ()

- A. 万隆会议的召开
B. 古巴走上社会主义道路
C. 纳米比亚的独立
D. 收回了巴拿马运河区的主权

【拓展延伸】

1. (2019·江苏盐城) 国家间关系错综复杂, 影响着世界和平与发展。阅读材料, 回答问题。

材料一: 第一次世界大战期间, 英国失去了 1/4 的对外投资, 法国失去了 1/3 的对外投资, 德国失去了全部对外投资, 英国丧失了世界金融中心的地位。与此形成鲜明对比的是, 美国在战后成为世界上最大的债权国和最大的资本输出国。日本利用战争带来的天赐良机, 经济获得了极大的发展, 几乎独占了东北市场……

——张建华《世界现代史(1900—2000 年)》

材料二: 当第二次世界大战的序幕刚刚揭开, 世界反法西斯力量, 显然占有绝对的优势, 但是分成英、法、美、苏和世界各国人民几股力量, 没有形成拳头。德意日法西斯侵略扩张势力虽处于劣势, 却狼狈为奸, 先后在东非、东亚和中欧燃起战火。

——摘编自《北京师范大学学报》

材料三: 美国应该尽力协助世界恢复至经济健全的常态, 没有它, 也就没有政治的安定, 没有牢固的和平, 我们的任务是唤起合理经济的再生, 促使政治社会的结构容纳自由制度的存在。

——1947 年 6 月马歇尔在哈佛大学的演讲

材料四:

- ◆2015 年 7 月 20 日, 联合国安理会一致通过伊核协议
- ◆2018 年 5 月 8 日, 美国总统特朗普在白宫宣布, 美国退出伊核协议
- ◆2019 年 5 月 9 日, 伊朗宣布, 终止履行伊核协议部分条款, 以回击美国退出伊核协议和重启对伊制裁

(1) 根据材料一概括第一次世界大战的影响。

(2) 根据材料二, 指出第二次世界大战初期反法西斯力量没能阻止法西斯侵略的原因。

(3) 根据材料三, 分析美国政府“唤起合理经济再生”的措施及目的。

(4) 根据材料四, 分析美国退出伊核协议的实质。结合前三则材料, 谈一谈你对国家间关系的认识。

2. (2019·山东烟台) 走符合本国国情的道路, 是实现国家发展和社会进步的重要条件。阅读材料, 回答问题。

材料一: 列宁对俄国的国情进行了具体分析。在列宁看来, 俄国无产阶级分布相对集中, 组织性和革命性较强, 更重要的是有一个成熟的革命政党——布尔什维克党的领导。列宁还看到, 已经进行了三年的第一次世界大战, 给俄国带来了深重的灾难。从国际范围来说, 两个帝国主义国家集团在战争中互相厮杀, 削弱了彼此的力量, 使得俄国无产阶级有可能突破俄国这个帝国主义链条中的薄弱环节取得革命的胜利。

——摘编自陈之骅《纪念俄国十月革命 90 周年》

材料二：以毛泽东为主要代表的中国共产党人强调把马克思列宁主义的普遍原理与中国革命实际相结合、一切从中国的实际出发。在新中国成立以后不仅顶住了西方国家的种种压力，而且抵制了苏联的大国主义和霸权主义，强调独立自主、自力更生，强调适合本国特点的革命和建设道路，只能由本国人民自己来寻找、创造和决定，任何人都无权把自己的意志强加于人。

——摘编自薛汉伟《中国率先成功突破苏联模式的条件》

材料三：戈尔巴乔夫推行以“民主化、新思维”为旗号的修正路线，非但没有革新苏共，给百姓带来真正的民主和人权，反而彻底葬送了社会主义，成就了西方资本主义的霸权……俄罗斯社会逐渐认识到：借鉴他人经验是必要的，但决不能全盘照搬。有些东西对于他人是美酒，但对于自己可能是致命的毒药。

——摘编自张树华《苏联解体与戈尔巴乔夫“民主社会主义”》

(1) 材料一中的“两个帝国主义国家集团”指的是什么？概括十月革命胜利的原因。

(2) 根据材料二，20 世纪 50 年代，我们党在独立自主和平外交政策指导下取得了哪些成就？为确立社会主义制度，我们党在政治和经济方面采取了哪些“适合本国特点”的措施？

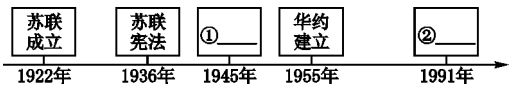
(3) 材料三中“彻底葬送了社会主义”的是什么事件？分析该事件对世界政治格局的影响。

(4) 综上所述，你能从中得到哪些启迪？

3 历史学习的方法多种多样，为了提升同学们的学科素养，李老师编制了下面的复习学案，请你和同学们一起按照要求完成学习任务。

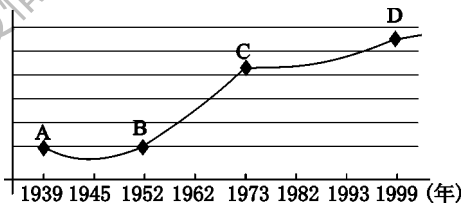
任务一 【编制年代尺——梳理历史线索】

(1) 下面年代尺呈现的是苏联历史的发展进程，请分别指出序号①处对应的国际会议名称与②处对应的历史事件，并简述①②事件的影响。



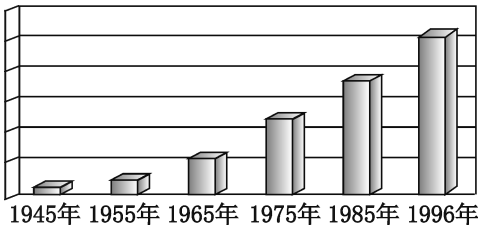
任务二 【图表比较法——分析历史现象】

二战后西欧经济发展示意图



图一

二战后日本经济增长示意图



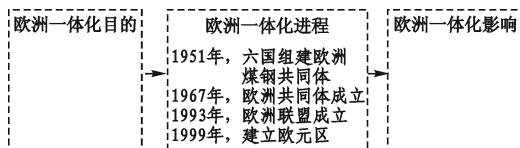
图二

(2) 观察图一和图二，归纳 20 世纪五十至七十年代西欧和日本经济发展的共同特点和共同原因。



任务三 【知识结构图——阐释历史进程】

(3) 根据所学知识,将下面“欧洲一体化”知识结构图补充完整。



任务四 【归纳总结法——收获历史感悟】

(4) 通过上述探究活动,你从中获得了哪些规律性认识?

(四) 走向和平发展的世界

【能力提升】

1. (2019·海南) 签字仪式在退伍军人纪念堂举行。……第一个签字的是中国代表团,接着签字的是苏联、英国、法国三个常任理事国。仪式庄严而隆重,50个国家的代表签了字。50个国家的代表齐聚一堂是为了筹建 ()

- A. 国际联盟 B. 联合国
C. 欧洲联盟 D. 世界贸易组织

2. (2019·山东青岛) 2019年5月22日上午,中国第18批赴黎巴嫩维和部队第一梯队官兵在昆明长水国际机场出征,用行动向全世界彰显了中国的大国风度和责任担当。有权派遣维和部队的国际组织是 ()

- A. 欧洲联盟
B. 联合国
C. 世界贸易组织
D. 北大西洋公约组织

3. (2019·河南) 研究结果显示,自1990年以来,全世界冲突减少40%。联合国的预防性外交和其他预防性行动,避免了许多将发生的战争;此外,联合国还对冲突后的地区采取和平建设的措施。材料强调 ()

- A. 联合国在维护全球安全中发挥了重要作用
B. 公正合理的国际政治经济新秩序已经建立
C. 和平与发展已经成为当今世界的两大主题
D. 联合国处理全球问题的权威已经无可撼动

4. (2019·福建) 世界贸易组织自成立后的10年间,贸易总额增加了3倍,成员国生活水平有了

明显提高。这表述的是该组织的 ()

- A. 成立背景 B. 建立过程
C. 活动方式 D. 积极作用


5. (2019·江苏苏州) 据网络统计,中国加入世界贸易组织的最初五年中,“民族”“国家”“主权”等词出现约10000次。后来,这些情感浓厚的词汇很少使用,“经济”“全球化”“区域化”“信息化”却大量频繁使用。上述词语使用频率对比变化说明了 ()

- A. 加入世界贸易组织使国人逐渐认识到中西方差距
B. 全球化日益加深了人们对世界的理性认识
C. 传统观念受到冲击,中外交往逐渐平等
D. 发展中国家人们对自身的认识不断深入

6. (2019·河南) 《生活在后美国世界》一书中写道:“苏联解体了,对美国而言,这是个灾难!我知道没人这么说,他们只是说这对美国而言是个巨大胜利,但它确实是个灾难。”这个“灾难”具体是指 ()

- A. 美国从此走向了衰落
B. 世界多极化的发展趋势
C. 世界各国都反对美国
D. 经济全球化美国处于不利地位

7. (2019·湖南邵阳) 2019年4月10日,“事件视界望远镜”组织在华盛顿、布鲁塞尔、上海、台北、东京、圣地亚哥等



世界六地同步发布人类期待已久的黑洞照片(见上

图), 又一次证明了爱因斯坦广义相对论的正确。不能从该材料中得到的信息是 ()

- A. 世界多极化格局正式形成
- B. 互联网大大缩小了全球空间
- C. 国际合作促进了科技创新
- D. 科学理论对实践有指导作用

8 (2019·河北) 1975 年生产计算机软件的微软公司仅是一家小型企业, 比尔·盖茨为其创始人之一。到 1999 年, 在短短的 24 年间, 公司销售收入增长了 90.5 万倍, 公司市值达 5000 亿美元左右。该史实应纳入的学习主题是 ()

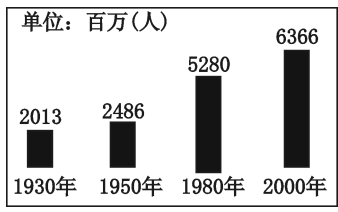
- A. 战争与革命的时代
- B. 社会保障制度的建立
- C. 经济全球化的开启
- D. 信息时代经济的迅速发展

9 (2019·广西玉林) 下图漫画给我们的启示主要是 ()



- A. 严格控制人口增长
- B. 放缓经济发展速度
- C. 坚持绿色发展理念
- D. 坚信人类治理能力

10 (2019·四川雅安) 下图为 1930—2000 年世界人口数量变化图。图中的人口发展趋势导致 ()



- ① 环境压力越来越大 ② 贫富分化日益加剧
 - ③ 社会保障面临挑战 ④ 世界粮食问题日益凸显
- A. ①②③ B. ①③④
 - C. ①②④ D. ②③④

【拓展延伸】

1 (2019·广西贺州) 阅读下列材料, 结合所学知识, 回答问题。

材料一: 第二次工业革命中出现的许多新型交通工具和通信手段, 大大加强了世界各地的联系。汽车越来越多, 火车和轮船越来越先进, 交通运输

日益便利; 电报、电话的出现进一步加强了世界各地之间商业信息的交流与传播。在第二次工业革命的推动下, 世界市场进一步发展。1870 年以后的 30 多年间, 世界贸易额增长了 3 倍左右。亚洲、非洲和拉丁美洲等地区的非工业国家生产的粮食和原料源源不断地运往工业化国家, 工业化国家生产的工业品则销往全世界, 国际分工日益明显。

——摘编自《世界历史教师教学用书》

材料二: 1945 年 10 月, 联合国正式成立。联合国是人类构建世界和平的成果, 也是影响最大的国际组织。20 世纪八九十年代以来, 世界局势趋于缓和, 和平与发展成为时代主题。各国把发展经济作为首要任务, 生产力和科技水平有了新的提高。国家之间的经济联系日益紧密, 世界经济全球化的趋势加强。1995 年 1 月 1 日, 世界贸易组织正式成立。世界贸易组织的宗旨, 是以非歧视性、开放、公平为原则, 促进全球贸易和经济发展, 保证就业、收入与需求的增长, 提高人类的生活水平。

——摘自统编版《世界历史》九年级下册

(1) 根据材料一, 指出推动第二次工业革命新型交通工具和通信手段变革的新动力和新能源。谈谈第二次工业革命是如何推动了世界经济整体化趋势发展的。

(2) 根据材料二, 概括世界贸易组织成立的背景, 归纳联合国和世界贸易组织成立的共同作用, 从中你得到什么启示?

2 (2019·山东淄博) 大国关系对国际局势有着重大的影响。阅读下列材料, 回答问题。

材料一: 假使德国明天从地面上被消灭掉, 那么, 后天在世界上就找不到一个不因此而更富的英国人。过去, 各国为争夺某一城市或某种遗产而厮杀若干年, 难道现在他们不应该为每年五十亿英镑的商业收入而从事战争吗?

——1897 年英国《星期六评论》

材料二: 55 年前, 中法建交, 法国成为第一个与中国全面建立正式外交关系的西方国家。2019 年 3 月 24 日, 马克龙总统向习近平主席赠送 1688 年法国编写出版的首部《论语导读》法文版原著。这本



书目前仅存两本，一本赠送给习近平主席，另一本存放在法国国立吉美亚洲艺术博物馆。

材料三：构建人类命运共同体，是基于中国对当今世界和平与发展大势的准确把握，是源于中华文明“以和为贵”“协和万邦”的理念，是推动世界可持续发展的中国方案。

——《中外历史纲要》下册

(1) 材料一反映了哪两个国家之间的矛盾？这一矛盾是怎样形成并解决的？

(2) 中法关系是“世界大国关系中一对特殊关系”，从材料二看，有哪些表现？

(3) 从材料三看，中国提出“构建人类命运共同体”的主要依据有哪些？

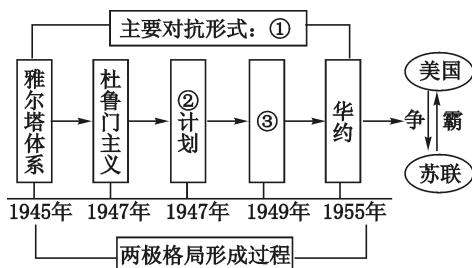
(4) 综合上述材料，“构建人类命运共同体”有哪些有利条件和不利条件？

3 20 世纪四五十年代以来，世界风云瞬息万变，国际关系格局不断变更、调整，影响着世界局势的发展。某校九年级（1）班历史兴趣小组开展了以下探究活动，邀请你全程参与。

活动一 【绘制简图——时空联系】

(1) 一组同学制作了下面两极格局的示意图。请你完成空白处的填写，并概述②③史实对欧洲产

生的共同影响。



活动二 【解读材料——阐释现象】

(2) 二组同学搜集到以下史料。请你指出美国、日本、西欧的经济地位发生的变化，并简述这一变化对世界政治格局造成的影响。

西欧和日本都是美国非常强有力的竞争对手……但它们正在与我们竞争。在经济领域的问题上，他们在全世界同我们的竞争非常激烈……同我们在第二次世界大战结束的时候相比，美国遇到了我们甚至做梦也没想到过的那种挑战。

——尼克松（1971 年）

活动三 【主题研讨——拓宽视野】

(3) 三组同学搜集了下图关键词，请你选出三个关键词，提炼一个主题，并运用这三个关键词对该主题进行简要阐释。



活动四 【图片展览——关注热点】

(4) 四组同学举办以“动荡不安的世界”为主题的时事图片展览。请你根据图片，归纳威胁当今世界和平与发展的因素。



战火中的叙利亚



恐怖袭击后的巴黎



美国的手



一触即发的冲突

山西教育出版社出品 疫情期间使用